



1

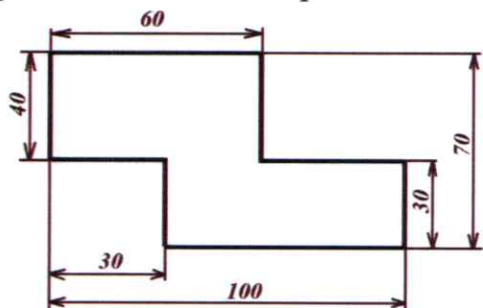
10. Рассмотрите приведённую фотографию. Определите, какое техническое устройство на ней изображено.



- 1) сушуар
- 2) пылесос
- 3) ткацкий станок
- 4) швейная машина
- 5) стиральная машина
- 6) микроволновая печь
- 7) посудомоечная машина

1

11. Серёжа выпилил из фанеры деталь (см. чертёж детали). На чертеже размеры указаны в сантиметрах.



0

Серёжа решил покрасить деталь с двух сторон синей масляной краской. Определите, сколько краски для этого понадобится, если 1 г краски может закрасить 2 кв.дм. Ответ дайте в граммах.

$1) 6 \cdot 4 = 24 \text{ (дм)}$ $2) 4 \cdot 3 = 12 \text{ (дм)}$ $3) 12 + 24 = 36 \text{ (дм)}$ <p>Ответ: 36 (гр.)</p>

Названия инструмента	Номер
линейка-транспортир	а
ластик	а
чертёжная доска	а
циркуль	в
карандаш	з
линейка	е
трафарет геометрических фигур	д ₂
лекало	д ₂
Угольник- транспортир	ю

7. Техническое устройство, состоящее из взаимосвязанных функциональных частей, использующее энергию для выполнения возложенных на него функций:

- деталь механизм
 машина узел

0

8. Внимательно рассмотрите рисунки, изображающие старинные приспособления и современные приборы. Установите соответствие между старинными и современными устройствами, удовлетворяющими одну и ту же потребность.

	Старинные приборы		Современные приборы
1 а		А	
2 в		Б	
3 а		В	

1

9. На какой фотографии изображена филимоновская игрушка?

1)



2)



**ВСЕРОССИЙСКАЯ ОЛИМПИАДА ШКОЛЬНИКОВ 2023/2024 гг.
ШКОЛЬНЫЙ ЭТАП ТЕХНОЛОГИЯ
4 КЛАСС**

1. Наука о преобразующей деятельности человека, знания о преобразованиях материалов, энергии и информации по плану и в интересах человека.

- Техносфера;
- Биотехнологии;
- Технология**

1

2. Техносфера - это:

- а) Мир, созданный природой
- б) Часть природной среды, преобразованная человеком
- в) Закрытое пространство, где есть только технические объекты**
- г) Мир, в котором есть искусственные технические объекты.

1

3. Потребности в знаниях, в творчестве, в познании нового, в решении задач, в раскрытии тайн – это...

- Интеллектуальные потребности;**
- Физиологические потребности

1

4. Самостоятельная творческая индивидуальная или коллективная деятельность учащихся по решению теоретических и практических задач называется

- Творческий проект;**
- Дизайн-проект.


1

5. Проект – это:

- а) деятельность по созданию изделия или модели изделия;
- б) творческая деятельность, направленная на достижение определённой цели, решение какой-либо проблемы;
- в) результат какой-либо деятельности-проектирования;**
- г) организация кооперативных форм деятельности.

1

6. Проведите соответствие между цифрами и названиями чертежных инструментов



*а) Доска
б) Транспортир
в) Циркуль
г) Треугольник
д) Линейка
е) Карандаш
ж) Ластик*

*Тем
Темералова Е. А.*

3)



4)

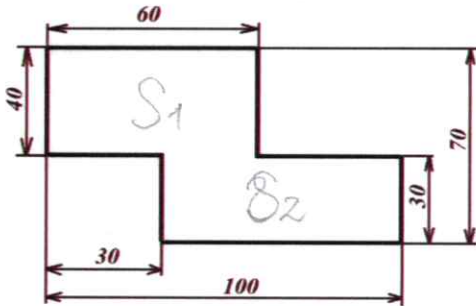


10. Рассмотрите приведённую фотографию. Определите, какое техническое устройство на ней изображено.



- 1) сушуар
- 2) пылесос
- 3) ткацкий станок
- 4) швейная машина
- 5) стиральная машина
- 6) микроволновая печь
- 7) посудомоечная машина

11. Серёжа выпилил из фанеры деталь (см. чертёж детали). На чертеже размеры указаны в сантиметрах.



Серёжа решил покрасить деталь с двух сторон синей масляной краской. Определите, сколько краски для этого понадобится, если 1 г краски может закрасить 2 кв.дм. Ответ дайте в граммах.

$S_1 = 6 \cdot 4 \cdot 10 = 240 \text{ см}^2$
$S_2 = (10 - 3) \cdot 3 \cdot 10 = 210 \text{ см}^2$
$240 + 210 = 450 \text{ (см}^2\text{)}$
$450 : 2 = 225 \text{ (г)}$
Ответ: 225 грамм понадобится

Названия инструмента	Номер
линейка-транспортир	д
ластик	и
чертёжная доска	а
циркуль	в
карандаш	з
линейка	е
трафарет геометрических фигур	г
лекало	ж
Угольник- транспортир	к

1

7. Техническое устройство, состоящее из взаимосвязанных функциональных частей, использующее энергию для выполнения возложенных на него функций:

- деталь
- механизм
- машина
- узел

1

8. Внимательно рассмотрите рисунки, изображающие старинные приспособления и современные приборы. Установите соответствие между старинными и современными устройствами, удовлетворяющими одну и ту же потребность.

	Старинные приборы		Современные приборы
1		А	
2		Б	
3		В	

1

9. На какой фотографии изображена филимоновская игрушка?

1)



2)



**ВСЕРОССИЙСКАЯ ОЛИМПИАДА ШКОЛЬНИКОВ 2023/2024 гг.
ШКОЛЬНЫЙ ЭТАП ТЕХНОЛОГИЯ
4 КЛАСС**

1. Наука о преобразующей деятельности человека, знания о преобразованиях материалов, энергии и информации по плану и в интересах человека.

- Техносфера;
- Биотехнологии;
- **Технология**

2. Техносфера - это:

- а) Мир, созданный природой
- б) Часть природной среды, преобразованная человеком
- в) Закрытое пространство, где есть только технические объекты**
- г) Мир, в котором есть искусственные технические объекты.

3. Потребности в знаниях, в творчестве, в познании нового, в решении задач, в раскрытии тайн – это...

- **Интеллектуальные потребности;**
- Физиологические потребности


4. Самостоятельная творческая индивидуальная или коллективная деятельность учащихся по решению теоретических и практических задач называется

- Творческий проект;
- **Дизайн-проект.**

5. Проект – это:

- а) деятельность по созданию изделия или модели изделия;
- б) творческая деятельность, направленная на достижение определённой цели, решение какой-либо проблемы;
- в) результат какой-либо деятельности-проектирования;**
- г) организация кооперативных форм деятельности.

6. Проведите соответствие между цифрами и названиями чертежных инструментов



Воп *Гурманова* *В М*
Гет *Генералова* *Е. А.*

3)



4)



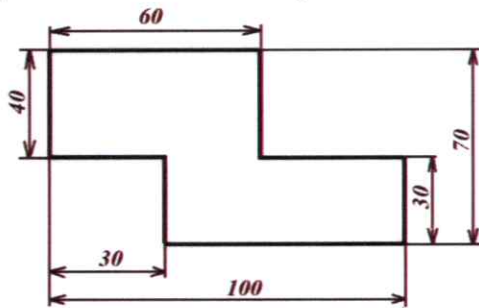
10. Рассмотрите приведённую фотографию. Определите, какое техническое устройство на ней изображено.



- 1) сушар
- 2) пылесос
- 3) ткацкий станок
- 4) швейная машина
- 5) стиральная машина
- 6) микроволновая печь
- 7) посудомоечная машина

1

11. Серёжа выпилил из фанеры деталь (см. чертёж детали). На чертеже размеры указаны в сантиметрах.



6

Серёжа решил покрасить деталь с двух сторон синей масляной краской. Определите, сколько краски для этого понадобится, если 1 г краски может закрасить 2 кв.дм. Ответ дайте в граммах.

$75 \cdot 4 = 24 \text{ (дм}^2\text{)}$	Ответ: <u>45 грамм</u> 22,5 грамма краски потратил Серёжа
$23 \cdot 7 = 27 \text{ (дм}^2\text{)}$	
$31 \cdot 24 + 27 = 45 \text{ (дм}^2\text{)}$	
$45 \cdot 2 = 22,5 \text{ (дм}^2\text{)}$	
$22,5 \cdot 2 = 45 \text{ (г)}$	
$S_{\square} = 45$ на одну сторону	

Названия инструмента	Номер
линейка-транспортир	50
ластик	И
чертёжная доска	2
циркуль	8
карандаш	3
линейка	38
трафарет геометрических фигур	9
лекало	
Угольник- транспортир	И

1

7. Техническое устройство, состоящее из взаимосвязанных функциональных частей, использующее энергию для выполнения возложенных на него функций:

- деталь
- механизм
- машина
- узел

0

8. Внимательно рассмотрите рисунки, изображающие старинные приспособления и современные приборы. Установите соответствие между старинными и современными устройствами, удовлетворяющими одну и ту же потребность.

	Старинные приборы		Современные приборы
1 Б		А	
2 В		Б	
3 А		В	

1

9. На какой фотографии изображена филимоновская игрушка?

1)



2)



0

**ВСЕРОССИЙСКАЯ ОЛИМПИАДА ШКОЛЬНИКОВ 2023/2024 гг.
ШКОЛЬНЫЙ ЭТАП ТЕХНОЛОГИЯ
4 КЛАСС**

1. Наука о преобразующей деятельности человека, знания о преобразованиях материалов, энергии и информации по плану и в интересах человека.

- Техносфера;
- Биотехнологии;
- Технология

1

2. Техносфера - это:

- а) Мир, созданный природой
- б) Часть природной среды, преобразованная человеком
- в) Закрытое пространство, где есть только технические объекты
- г) Мир, в котором есть искусственные технические объекты.

0

3. Потребности в знаниях, в творчестве, в познании нового, в решении задач, в раскрытии тайн – это...

- Интеллектуальные потребности;
- Физиологические потребности

1

4. Самостоятельная творческая индивидуальная или коллективная деятельность учащихся по решению теоретических и практических задач называется

- Творческий проект;
- Дизайн-проект.


1

5. Проект – это:

- а) деятельность по созданию изделия или модели изделия;
- б) творческая деятельность, направленная на достижение определённой цели, решение какой-либо проблемы;
- в) результат какой-либо деятельности-проектирования;
- г) организация кооперативных форм деятельности.

0

6. Проведите соответствие между цифрами и названиями чертежных инструментов



Тетрадь

Циркуль
Текстуралова

К. В.
Е. А.

Названия инструмента	Номер
линейка-транспортир	Б
ластик	И
чертёжная доска	А
циркуль	В
карандаш	З
линейка	Е
трафарет геометрических фигур	Д
лекало	Г
Угольник- транспортир	Ж

7. Техническое устройство, состоящее из взаимосвязанных функциональных частей, использующее энергию для выполнения возложенных на него функций:

- деталь механизм
 машина узел

8. Внимательно рассмотрите рисунки, изображающие старинные приспособления и современные приборы. Установите соответствие между старинными и современными устройствами, удовлетворяющими одну и ту же потребность.

	Старинные приборы		Современные приборы
1		А	
2		Б	
3		В	

9. На какой фотографии изображена филимоновская игрушка?

1)



2)



**ВСЕРОССИЙСКАЯ ОЛИМПИАДА ШКОЛЬНИКОВ 2023/2024 гг.
ШКОЛЬНЫЙ ЭТАП ТЕХНОЛОГИЯ
4 КЛАСС**

1. Наука о преобразующей деятельности человека, знания о преобразованиях материалов, энергии и информации по плану и в интересах человека.

- Техносфера;
- Биотехнологии;
- Технология

1

2. Техносфера - это:

- а) Мир, созданный природой
- б) Часть природной среды, преобразованная человеком
- в) Закрытое пространство, где есть только технические объекты
- г) Мир, в котором есть искусственные технические объекты.

0

3. Потребности в знаниях, в творчестве, в познании нового, в решении задач, в раскрытии тайн – это...

- а) Интеллектуальные потребности;
- б) Физиологические потребности

1

4. Самостоятельная творческая индивидуальная или коллективная деятельность учащихся по решению теоретических и практических задач называется

- а) Творческий проект;
- б) Дизайн-проект.


1

5. Проект – это:

- а) деятельность по созданию изделия или модели изделия;
- б) творческая деятельность, направленная на достижение определённой цели, решение какой-либо проблемы;
- в) результат какой-либо деятельности-проектирования;
- г) организация кооперативных форм деятельности.

0

6. Проведите соответствие между цифрами и названиями чертежных инструментов



*Вал
Тем* *Фурманов* *МВ*
Генералова Е. А

3)



4)



✓

1

10. Рассмотрите приведённую фотографию. Определите, какое техническое устройство на ней изображено.

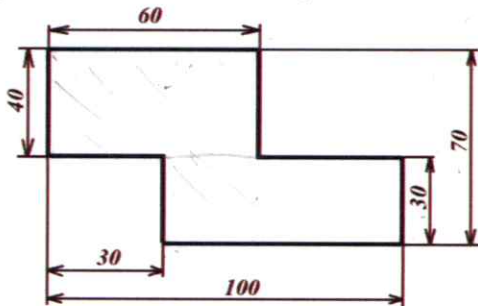


- 1) сушуар
- 2) пылесос
- 3) ткацкий станок
- 4) швейная машина
- 5) стиральная машина
- 6) микроволновая печь
- 7) посудомоечная машина

—

0

11. Серёжа выпилил из фанеры деталь (см. чертёж детали). На чертеже размеры указаны в сантиметрах.



✓

6

Серёжа решил покрасить деталь с двух сторон синей масляной краской. Определите, сколько краски для этого понадобится, если 1 г краски может закрасить 2 кв.дм. Ответ дайте в граммах.

$1) 6 \cdot 4 = 24$ (дм ²)	
$2) 7 \cdot 3 = 21$ (дм ²)	
$3) 24 + 21 = 45$ (дм ²)	- площадь 1 стороны
	на одной стороне - половина
Ответ: 45	2. краски на 2 стороны -
	45 г

Названия инструмента	Номер
линейка-транспортир	а
ластик	и
чертёжная доска	а
циркуль	в
карандаш	з
линейка	е
трафарет геометрических фигур	д
лекало	ж
Угольник- транспортир	х

✓
1

7. Техническое устройство, состоящее из взаимосвязанных функциональных частей, использующее энергию для выполнения возложенных на него функций:

- деталь механизм
 машина узел

-0

8. Внимательно рассмотрите рисунки, изображающие старинные приспособления и современные приборы. Установите соответствие между старинными и современными устройствами, удовлетворяющими одну и ту же потребность.

	Старинные приборы		Современные приборы
1 Б		А	
2 в		Б	
3 а		В	

✓
1

9. На какой фотографии изображена филимоновская игрушка?

1)



2)



ВСЕРОССИЙСКАЯ ОЛИМПИАДА ШКОЛЬНИКОВ 2023/2024 гг.
ШКОЛЬНЫЙ ЭТАП ТЕХНОЛОГИЯ
4 КЛАСС

1. Наука о преобразующей деятельности человека, знания о преобразованиях материалов, энергии и информации по плану и в интересах человека.

- Техносфера;
- Биотехнологии;
- Технология**

✓ 1

2. Техносфера - это:

- а) Мир, созданный природой
- б) Часть природной среды, преобразованная человеком
- в) Закрытое пространство, где есть только технические объекты**
- г) Мир, в котором есть искусственные технические объекты.

✓ 1

3. Потребности в знаниях, в творчестве, в познании нового, в решении задач, в раскрытии тайн – это...

- Интеллектуальные потребности;**
- Физиологические потребности

✓ 1

4. Самостоятельная творческая индивидуальная или коллективная деятельность учащихся по решению теоретических и практических задач называется

- Творческий проект;**
- Дизайн-проект.


✓ 1

5. Проект – это:

- а) деятельность по созданию изделия или модели изделия;
- б) творческая деятельность, направленная на достижение определённой цели, решение какой-либо проблемы;
- в) результат какой-либо деятельности-проектирования;**
- г) организация кооперативных форм деятельности.

✓ 1

6. Проведите соответствие между цифрами и названиями чертежных инструментов



Врач Фурманова ВВ
Техн. Генералова Е.А

Названия инструмента	Номер
линейка-транспортир	2
ластик	и
чертёжная доска	а
циркуль	в
карандаш	з
линейка	е
трафарет геометрических фигур	г
лекало	б
Угольник- транспортир	ж

1

7. Техническое устройство, состоящее из взаимосвязанных функциональных частей, использующее энергию для выполнения возложенных на него функций:

- деталь
- механизм
- машина
- узел

0

8. Внимательно рассмотрите рисунки, изображающие старинные приспособления и современные приборы. Установите соответствие между старинными и современными устройствами, удовлетворяющими одну и ту же потребность.

	Старинные приборы		Современные приборы
1		А 3	
2		Б 1	
3		В 2	

1

9. На какой фотографии изображена филимоновская игрушка?

1)



2)



ВСЕРОССИЙСКАЯ ОЛИМПИАДА ШКОЛЬНИКОВ 2023/2024 гг.
ШКОЛЬНЫЙ ЭТАП ТЕХНОЛОГИЯ
4 КЛАСС

1. Наука о преобразующей деятельности человека, знания о преобразованиях материалов, энергии и информации по плану и в интересах человека.

- Техносфера;
- Биотехнологии;
- Технология**

1

2. Техносфера - это:

- а) Мир, созданный природой
- б) Часть природной среды, преобразованная человеком
- в) Закрытое пространство, где есть только технические объекты**
- г) Мир, в котором есть искусственные технические объекты.

1

3. Потребности в знаниях, в творчестве, в познании нового, в решении задач, в раскрытии тайн – это...

- Интеллектуальные потребности;**
- Физиологические потребности

1

4. Самостоятельная творческая индивидуальная или коллективная деятельность учащихся по решению теоретических и практических задач называется

- Творческий проект;**
- Дизайн-проект.


1

5. Проект – это:

- а) деятельность по созданию изделия или модели изделия;
- б) творческая деятельность, направленная на достижение определённой цели, решение какой-либо проблемы;
- в) результат какой-либо деятельности-проектирования;**
- г) организация кооперативных форм деятельности.

1

6. Проведите соответствие между цифрами и названиями чертежных инструментов



Вол *Гуртатова* *ВК*
Тем. *Тенералова* *Е. А.*

3)



4)



1

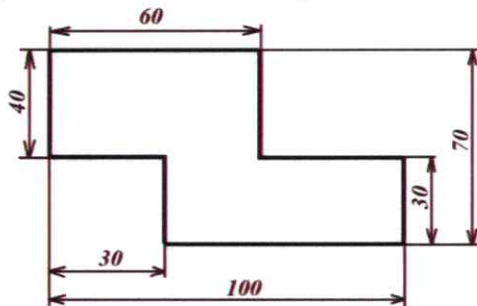
10. Рассмотрите приведённую фотографию. Определите, какое техническое устройство на ней изображено.



- 1) сушуар
- 2) пылесос
- 3) ткацкий станок
- 4) швейная машина
- 5) стиральная машина
- 6) микроволновая печь
- 7) посудомоечная машина

1

11. Серёжа выпилил из фанеры деталь (см. чертёж детали). На чертеже размеры указаны в сантиметрах.



0

Серёжа решил покрасить деталь с двух сторон синей масляной краской. Определите, сколько краски для этого понадобится, если 1 г краски может закрасить 2 кв.дм. Ответ дайте в граммах.

$S = 6 \cdot 4 + 7 \cdot 3$
 $S = 45 \text{ дм}^2$
 $45 : 2 = \text{на одну сторону детали}$
 $\text{две стороны} - 45 \cdot 2$

Алексей / Аверина А. В.

Названия инструмента	Номер
линейка-транспортир	8
ластик	10
чертёжная доска	9
циркуль	6
карандаш	3
линейка	1
трафарет геометрических фигур	2
лекало	7
Угольник- транспортир	5

↑

7. Техническое устройство, состоящее из взаимосвязанных функциональных частей, использующее энергию для выполнения возложенных на него функций:

- деталь
- машина
- механизм
- узел

↑

8. Внимательно рассмотрите рисунки, изображающие старинные приспособления и современные приборы. Установите соответствие между старинными и современными устройствами, удовлетворяющими одну и ту же потребность.

	Старинные приборы		Современные приборы
1		А	
2		Б	
3		В	

↑

9. На какой фотографии изображена филимоновская игрушка?

1)



2)



ВСЕРОССИЙСКАЯ ОЛИМПИАДА ШКОЛЬНИКОВ 2023/2024 гг.
ШКОЛЬНЫЙ ЭТАП ТЕХНОЛОГИЯ
4 КЛАСС

1. Наука о преобразующей деятельности человека, знания о преобразованиях материалов, энергии и информации по плану и в интересах человека.

- Техносфера;
- Биотехнологии;
- Технология**

1

2. Техносфера - это:

- а) Мир, созданный природой
- б) Часть природной среды, преобразованная человеком
- в) Закрытое пространство, где есть только технические объекты**
- г) Мир, в котором есть искусственные технические объекты.

1

3. Потребности в знаниях, в творчестве, в познании нового, в решении задач, в раскрытии тайн – это...

- Интеллектуальные потребности;**
- Физиологические потребности

1

4. Самостоятельная творческая индивидуальная или коллективная деятельность учащихся по решению теоретических и практических задач называется

- Творческий проект;**
- Дизайн-проект.


1

5. Проект – это:

- а) деятельность по созданию изделия или модели изделия;
- б) творческая деятельность, направленная на достижение определённой цели, решение какой-либо проблемы;
- в) результат какой-либо деятельности-проектирования;**
- г) организация кооперативных форм деятельности.

1

6. Проведите соответствие между цифрами и названиями чертежных инструментов



Ваш *Гуртатова* *ВВ*
Тем *Текералова* *Е. А.*

3)



4)



1

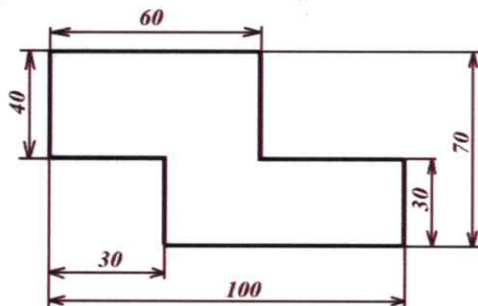
10. Рассмотрите приведённую фотографию. Определите, какое техническое устройство на ней изображено.



- 1) сушугар
- 2) пылесос
- 3) ткацкий станок
- 4) швейная машина
- 5) стиральная машина
- 6) микроволновая печь
- 7) посудомоечная машина


1

11. Серёжа выпилил из фанеры деталь (см. чертёж детали). На чертеже размеры указаны в сантиметрах.



0

Серёжа решил покрасить деталь с двух сторон синей масляной краской. Определите, сколько краски для этого понадобится, если 1 г краски может закрасить 2 кв.дм. Ответ дайте в граммах.



Авдеев (Авдеев А.А.)

Названия инструмента	Номер
линейка-транспортир	д
ластик	и
чертёжная доска	а
циркуль	в
карандаш	з
линейка	е
трафарет геометрических фигур	ж
лекало	з
Угольник- транспортир	ж

1

7. Техническое устройство, состоящее из взаимосвязанных функциональных частей, использующее энергию для выполнения возложенных на него функций:

- деталь
- механизм
- машина
- узел

0

8. Внимательно рассмотрите рисунки, изображающие старинные приспособления и современные приборы. Установите соответствие между старинными и современными устройствами, удовлетворяющими одну и ту же потребность.

	Старинные приборы		Современные приборы
1 д		А	
2 в		Б	
3 а		В	

1

9. На какой фотографии изображена филимоновская игрушка?

1)



2)



**ВСЕРОССИЙСКАЯ ОЛИМПИАДА ШКОЛЬНИКОВ 2023/2024 гг.
ШКОЛЬНЫЙ ЭТАП ТЕХНОЛОГИЯ
4 КЛАСС**

1. Наука о преобразующей деятельности человека, знания о преобразованиях материалов, энергии и информации по плану и в интересах человека.

- Техносфера;
- Биотехнологии;
- Технология

1

2. Техносфера - это:

- а) Мир, созданный природой
- б) Часть природной среды, преобразованная человеком
- в) Закрытое пространство, где есть только технические объекты
- г) Мир, в котором есть искусственные технические объекты.

0

3. Потребности в знаниях, в творчестве, в познании нового, в решении задач, в раскрытии тайн – это...

- Интеллектуальные потребности;
- Физиологические потребности

1

4. Самостоятельная творческая индивидуальная или коллективная деятельность учащихся по решению теоретических и практических задач называется

- Творческий проект;
- Дизайн-проект.


1

5. Проект – это:

- а) деятельность по созданию изделия или модели изделия;
- б) творческая деятельность, направленная на достижение определённой цели, решение какой-либо проблемы;
- в) результат какой-либо деятельности-проектирования;
- г) организация кооперативных форм деятельности.

1

6. Проведите соответствие между цифрами и названиями чертежных инструментов



ВМ
Тем

Фурманова
Темрамова

ВМ
Е. Н.

**Задания школьного этапа Всероссийской олимпиады по географии
2023–2024 учебный год.**

4 класс

Время выполнения заданий – 45 минут

Максимальный балл за все задания – 50 баллов

Уважаемые участники олимпиады, теоретический тур олимпиады включает 4 задания. Внимательно познакомьтесь с характером каждого из них и определите для себя последовательность выполнения работы. Ответы каждого из них запишите в листе ответов.

Начинать работу можно с любого задания, однако, рекомендуется выполнять задания в том порядке, в котором они даны. Если какое-то задание вызывает у вас затруднение, пропустите его и постарайтесь выполнить те, в ответах которых вы уверены. К пропущенным заданиям можно будет вернуться, если у вас останется время

Часть I. – 20 баллов (по 1 баллу за каждый правильный ответ).

Вопросы с выбором одного правильного ответа из четырёх предложенных.

1. В переводе с греческого языка «география» означает
 - а) описание Земли
 - б) изучение Земли
 - в) жизнь на Земле
 - г) изменение Земли
2. Что такое глобус?
 - а) модель Солнца
 - б) модель Земли
 - в) модель шара
3. Какой признак отличает нашу планету от других «планет земной группы»?
 - а) имеет твёрдую поверхность
 - б) имеет атмосферу
 - в) имеет естественный спутник
 - г) присутствует вода в жидком, твёрдом и газообразном состоянии
4. К объектам живой природы относится
 - а) кристалл
 - б) сосулька
 - в) гриб
 - г) луна
5. Кто из древних ученых первым предположил, что Земля имеет форму шара?
 - а) Пифагор
 - б) Птолемей
 - в) Коперник
 - г) Аристотель
6. Отметьте ряд, в котором указаны планеты, входящие в группу планет-гигантов.
 - а) Сатурн, Земля, Марс
 - б) Марс, Венера, Юпитер
 - в) Земля, Плутон, Уран, Нептун
 - г) Юпитер, Сатурн, Уран, Нептун
7. Дополните утверждение: «На сегодняшний день существует ... материков».
 - а) 8
 - б) 4
 - в) 5
 - г) 6
8. Какой материк называют Новым светом?
 - а) Африка
 - б) Америка
 - в) Антарктида
 - г) Австралия
9. Как называется прибор для ориентирования на местности?
 - а) компас
 - б) флюгер
 - в) азимут
 - г) барометр
10. Если встать лицом на север, то с правой стороны будет:
 - а) юг
 - б) восток
 - в) запад
 - г) северо – восток
11. Как появилась почва?
 - а) она всегда была на планете
 - б) в результате извержения вулкана
 - в) из рыхлого слоя горных пород, измененного растениями и животными
 - г) в результате распашки полей человеком
12. Какие горы принято считать границей между Европой и Азией?
 - а) Алтайские горы
 - б) Уральские горы
 - в) Кавказские горы
 - г) Воробьевы горы

13. Какая из перечисленных гор находится в России и является высочайшей вершиной Европы?

- а) Эльбрус
- б) Эверест
- в) Мак-Кинли
- г) Килиманджаро

14. Моря какого океана не омывают берега России?

- а) Индийского
- б) Тихого
- в) Северного Ледовитого
- г) Атлантического

15. Какая из перечисленных рек находится в России и является самой длинной в Европе?

- а) Енисей
- б) Лена
- в) Нева
- г) Волга

16. В России находится самое глубокое озеро мира. Как оно называется?

- а) озеро Ильмень
- б) Ладожское озеро
- в) озеро Байкал
- г) Онежское озеро

17. Полезные ископаемые – это...

- а) все минералы и горные породы, из которых состоит Земля.
- б) минералы и горные породы, которые используют люди
- в) полезные вещества, которые получают из горных пород и минералов.

18. Наиболее обширная природная зона России — это ...

- а) степь
- б) тундра
- в) пустыня
- г) тайга

19. Этот самый большой остров планеты, целиком покрыт льдами. Его коренные жители, эскимосы, занимаются охотой и рыболовством.

- а) Сахалин
- б) Гренландия
- в) Гавайи

20. Что такое карта полушарий?

- а) карта, на которой дано изображение какой-то территории.
- б) карта, на которой изображены две половинки земного шара.
- в) карта, на которой изображена Земля.

Часть II.

Разделите приведённые ниже слова на две группы: объекты природы и явления природы.

За каждый правильный ответ начисляется 1 балл.

бактерии	гроза	ледоход	озеро
ветер	землетрясение	листопад	половодье
воздух	камнепад	минералы	дерево
вулкан	родник	облако	спячка

Объекты природы	Явления природы
Бактерии 1	Ветер 1
Воздух 1	Гроза 1
Вулкан 1	Землетрясение 1
Родник 1	Камнепад 1
Минералы 1	Ледоход 1
Облако 1	Листопад 1
Озеро 1	Половодье 1
Дерево 1	Спячка 1

17

16

Часть III.

За каждый правильный ответ начисляется 1 балл.

1. Подбери общий материк для следующих организмов:

утконос, ехидна, кенгуру, дикая собака Динго, райские птицы.

Ответ: Австралия

2. Во всех этих словах течёт древнерусская река, впадающая в Азовское море.

Отыщи её название. В ответе напиши получившееся слово.

Ответ: ДОК ЛАДОНЬ, ДОНОС, БИДОН

3. Горилла – самая крупная из всех обезьян, живущих на Земле. Иногда ее вес не выдерживают даже большие деревья! Горилла очень сильная: мускулам на ее лапах может позавидовать любой спортсмен. Вспоминай, на каком континенте мы можем увидеть это удивительное животное в естественной среде обитания?

В ответе запиши название континента.

Ответ: Африка

4. Выберите ВСЕ правильные ответы.

Медуза – это живое существо, потому что она:

- а) плавает в морях б) размножается в) питается
г) может находиться только в воде д) дышит

5. Выберите ВСЕ правильные ответы. Выберите из списка животных, занесённых в Красную книгу России.

- а) белый медведь б) русская выхухоль
в) амурский тигр г) бурый медведь
д) лось е) дальневосточный леопард

Часть IV. При выполнении заданий на соответствие к каждой позиции, данной в первом столбце, подберите соответствующую позицию из второго столбца.

Установите соответствие между исследователями (а-г) космоса и их достижениями (1-3).

а) Ю. Гагарин <u>2</u>	1) Первый учёный, который доказал, что реальным средством освоения космоса станет ракета
б) С. Королёв <u>4</u>	2) Первый полёт человека в космос
в) К. Циолковский <u>1</u>	3) Организатор производства ракетно-космической техники
г) Н. Пилюгин <u>3</u>	4) Создатель системы управления ракетами-носителями.

Ведущий: Ирина Топова В.В.
Жюри: Генералова Е.А.

44

**Задания школьного этапа Всероссийской олимпиады по географии
2023–2024 учебный год.
4 класс**

**Время выполнения заданий – 45 минут
Максимальный балл за все задания – 50 баллов**

Уважаемые участники олимпиады, теоретический тур олимпиады включает 4 задания. Внимательно познакомьтесь с характером каждого из них и определите для себя последовательность выполнения работы. Ответы каждого из них запишите в листе ответов.

Начинать работу можно с любого задания, однако, рекомендуется выполнять задания в том порядке, в котором они даны. Если какое-то задание вызывает у вас затруднение, пропустите его и постарайтесь выполнить те, в ответах которых вы уверены. К пропущенным заданиям можно будет вернуться, если у вас останется время

**Часть I. – 20 баллов (по 1 баллу за каждый правильный ответ).
Вопросы с выбором одного правильного ответа из четырёх предложенных.**

1. В переводе с греческого языка «география» означает
а) описание Земли б) изучение Земли в) жизнь на Земле г) изменение Земли
2. Что такое глобус?
а) модель Солнца б) модель Земли в) модель шара
3. Какой признак отличает нашу планету от других «планет земной группы»?
а) имеет твёрдую поверхность
б) имеет атмосферу
в) имеет естественный спутник
г) присутствует вода в жидком, твёрдом и газообразном состоянии
4. К объектам живой природы относится
а) кристалл б) сосулька в) гриб г) луна
5. Кто из древних ученых первым предположил, что Земля имеет форму шара?
а) Пифагор б) Птолемей в) Коперник г) Аристотель
6. Отметьте ряд, в котором указаны планеты, входящие в группу планет-гигантов.
а) Сатурн, Земля, Марс б) Марс, Венера, Юпитер
в) Земля, Плутон, Уран, Нептун г) Юпитер, Сатурн, Уран, Нептун
7. Дополните утверждение: «На сегодняшний день существует ... материков».
а) 8 б) 4 в) 5 г) 6
8. Какой материк называют Новым светом?
а) Африка б) Америка в) Антарктида г) Австралия.
9. Как называется прибор для ориентирования на местности?
а) компас б) флюгер в) азимут г) барометр
10. Если встать лицом на север, то с правой стороны будет:
а) юг б) восток в) запад г) северо – восток
11. Как появилась почва?
а) она всегда была на планете
б) в результате извержения вулкана
в) из рыхлого слоя горных пород, измененного растениями и животными
г) в результате распахки полей человеком
12. Какие горы принято считать границей между Европой и Азией?
а) Алтайские горы б) Уральские горы
в) Кавказские горы г) Воробьевы горы

13. Какая из перечисленных гор находится в России и является высочайшей вершиной Европы?

- а) Эльбрус б) Эверест
в) Мак-Кинли г) Килиманджаро

14. Моря какого океана не омывают берега России?

- а) Индийского б) Тихого
в) Северного Ледовитого г) Атлантического

15. Какая из перечисленных рек находится в России и является самой длинной в Европе?

- а) Енисей б) Лена в) Нева г) Волга

16. В России находится самое глубокое озеро мира. Как оно называется?

- а) озеро Ильмень б) Ладожское озеро
в) озеро Байкал г) Онежское озеро

17. Полезные ископаемые – это...

- а) все минералы и горные породы, из которых состоит Земля.
б) минералы и горные породы, которые используют люди
в) полезные вещества, которые получают из горных пород и минералов.

18. Наиболее обширная природная зона России — это ...

- а) степь б) тундра в) пустыня г) тайга

19. Этот самый большой остров планеты, целиком покрыт льдами. Его коренные жители, эскимосы, занимаются охотой и рыболовством.

- а) Сахалин б) Гренландия в) Гавайи

20. Что такое карта полушарий?

- а) карта, на которой дано изображение какой-то территории.
б) карта, на которой изображены две половинки земного шара.
в) карта, на которой изображена Земля.

Часть II.

Разделите приведённые ниже слова на две группы: объекты природы и явления природы.

За каждый правильный ответ начисляется 1 балл.

бактерии	гроза	ледоход	озеро
ветер	землетрясение	листопад	половодье
воздух	камнепад	минералы	дерево
вулкан	родник	облако	спячка

Объекты природы	Явления природы
бактерии	ветер
воздух	гроза
вулкан	землетрясение
минералы	спячка
озеро	листопад
дерево	ледоход

17

16

Часть III.

За каждый правильный ответ начисляется 1 балл.

1. Подбери общий материк для следующих организмов:

утконос, ехидна, кенгуру, дикая собака Динго, райские птицы.

Ответ: Австралия

2. Во всех этих словах течёт древнерусская река, впадающая в Азовское море.

Отыщи её название. В ответе напиши получившееся слово.

ЛАДОНЬ, ДОНОС, БИДОН

Ответ: Дон

3. Горилла – самая крупная из всех обезьян, живущих на Земле. Иногда ее вес не выдерживают даже большие деревья! Горилла очень сильная: мускулам на ее лапах может позавидовать любой спортсмен. Вспоминай, на каком континенте мы можем увидеть это удивительное животное в естественной среде обитания?

В ответе запиши название континента.

Ответ: Африка

4. Выберите ВСЕ правильные ответы.

Медуза – это живое существо, потому что она:

а) плавает в морях б) размножается в) питается

г) может находиться только в воде д) дышит

5. Выберите ВСЕ правильные ответы. Выберите из списка животных, занесённых в Красную книгу России.

а) белый медведь б) русская выхухоль

в) амурский тигр г) бурый медведь

д) лось е) дальневосточный леопард

Часть IV. При выполнении заданий на соответствие к каждой позиции, данной в первом столбце, подберите соответствующую позицию из второго столбца.

Установите соответствие между исследователями (а-г) космоса и их достижениями (1-3).

а) Ю. Гагарин <u>2</u>	1) Первый учёный, который доказал, что реальным средством освоения космоса станет ракета
б) С. Королёв <u>4</u>	2) Первый полёт человека в космос
в) К. Циолковский <u>1</u>	3) Организатор производства ракетно-космической техники
г) Н. Пилюгин <u>3</u>	4) Создатель системы управления ракетами-носителями.

Генералов
Генералов Е.А.

45

**Задания школьного этапа Всероссийской олимпиады по географии
2023–2024 учебный год.
4 класс**

**Время выполнения заданий – 45 минут
Максимальный балл за все задания – 50 баллов**

Уважаемые участники олимпиады, теоретический тур олимпиады включает 4 задания. Внимательно познакомьтесь с характером каждого из них и определите для себя последовательность выполнения работы. Ответы каждого из них запишите в листе ответов.

Начинать работу можно с любого задания, однако, рекомендуется выполнять задания в том порядке, в котором они даны. Если какое-то задание вызывает у вас затруднение, пропустите его и постарайтесь выполнить те, в ответах которых вы уверены. К пропущенным заданиям можно будет вернуться, если у вас останется время

**Часть I. – 20 баллов (по 1 баллу за каждый правильный ответ).
Вопросы с выбором одного правильного ответа из четырёх предложенных.**

1. В переводе с греческого языка «география» означает
а) описание Земли б) изучение Земли в) жизнь на Земле г) изменение Земли
2. Что такое глобус?
а) модель Солнца б) модель Земли в) модель шара
3. Какой признак отличает нашу планету от других «планет земной группы»?
а) имеет твёрдую поверхность
б) имеет атмосферу
в) имеет естественный спутник
г) присутствует вода в жидком, твёрдом и газообразном состоянии
4. К объектам живой природы относится
а) кристалл б) сосулька в) гриб г) луна
5. Кто из древних ученых первым предположил, что Земля имеет форму шара?
а) Пифагор б) Птолемей в) Коперник г) Аристотель
6. Отметьте ряд, в котором указаны планеты, входящие в группу планет-гигантов.
а) Сатурн, Земля, Марс б) Марс, Венера, Юпитер
в) Земля, Плутон, Уран, Нептун г) Юпитер, Сатурн, Уран, Нептун
7. Дополните утверждение: «На сегодняшний день существует ... материков».
а) 8 б) 4 в) 5 г) 6
8. Какой материк называют Новым светом?
а) Африка б) Америка в) Антарктида г) Австралия.
9. Как называется прибор для ориентирования на местности?
а) компас б) флюгер в) азимут г) барометр
10. Если встать лицом на север, то с правой стороны будет:
а) юг б) восток в) запад г) северо – восток
11. Как появилась почва?
а) она всегда была на планете
б) в результате извержения вулкана
в) из рыхлого слоя горных пород, измененного растениями и животными
г) в результате распашки полей человеком
12. Какие горы принято считать границей между Европой и Азией?
а) Алтайские горы б) Уральские горы
в) Кавказские горы г) Воробьевы горы

13. Какая из перечисленных гор находится в России и является высочайшей вершиной Европы?

- а) Эльбрус б) Эверест
в) Мак-Кинли г) Килиманджаро

14. Моря какого океана не омывают берега России?

- а) Индийского б) Тихого
в) Северного Ледовитого г) Атлантического

15. Какая из перечисленных рек находится в России и является самой длинной в Европе?

- а) Енисей б) Лена в) Нева г) Волга

16. В России находится самое глубокое озеро мира. Как оно называется?

- а) озеро Ильмень б) Ладожское озеро
в) озеро Байкал г) Онежское озеро

17. Полезные ископаемые – это...

- а) все минералы и горные породы, из которых состоит Земля.
б) минералы и горные породы, которые используют люди
в) полезные вещества, которые получают из горных пород и минералов.

18. Наиболее обширная природная зона России — это ...

- а) степь б) тундра в) пустыня г) тайга

19. Этот самый большой остров планеты, целиком покрыт льдами. Его коренные жители, эскимосы, занимаются охотой и рыболовством.

- а) Сахалин б) Гренландия в) Гавайи

20. Что такое карта полушарий?

- а) карта, на которой дано изображение какой-то территории.
б) карта, на которой изображены две половинки земного шара.
в) карта, на которой изображена Земля.

Часть II.

Разделите приведённые ниже слова на две группы: объекты природы и явления природы.

За каждый правильный ответ начисляется 1 балл.

бактерии	гроза	ледоход	озеро
ветер	землетрясение	листопад	половодье
воздух	камнепад	минералы	дерево
вулкан	родник	облако	спячка

Объекты природы	Явления природы
бактерии	гроза
воздух	землетрясение
вулкан	листопад
дерево	половодье
минералы	ветер
родник	облако
спячка	ледоход

16

16

Часть III.

За каждый правильный ответ начисляется 1 балл.

1. Подбери общий материк для следующих организмов:

утконос, ехидна, кенгуру, дикая собака Динго, райские птицы.

Ответ: Континент Австралия

2. Во всех этих словах течёт древнерусская река, впадающая в Азовское море.

Отыщи её название. В ответе напиши получившееся слово.

ЛАДОНЬ, ДОНОС, БИДОН

Ответ: ДОН

3. Горилла – самая крупная из всех обезьян, живущих на Земле. Иногда ее вес не выдерживают даже большие деревья! Горилла очень сильная: мускулам на ее лапах может позавидовать любой спортсмен. Вспоминай, на каком континенте мы можем увидеть это удивительное животное в естественной среде обитания?

В ответе запиши название континента.

Ответ: Африка

4. Выберите ВСЕ правильные ответы.

Медуза – это живое существо, потому что она:

- а) плавает в морях б) размножается в) питается
г) может находиться только в воде д) дышит

5. Выберите ВСЕ правильные ответы. Выберите из списка животных, занесённых в Красную книгу России.

- а) белый медведь б) русская выхухоль
в) амурский тигр г) бурый медведь
д) лось е) дальневосточный леопард

Часть IV. При выполнении заданий на соответствие к каждой позиции, данной в первом столбце, подберите соответствующую позицию из второго столбца.

Установите соответствие между исследователями (а-г) космоса и их достижениями (1-3).

а) Ю. Гагарин	1) Первый учёный, который доказал, что реальным средством освоения космоса станет ракета
б) С. Королёв	2) Первый полёт человека в космос
в) К. Циолковский	3) Организатор производства ракетно-космической техники
г) Н. Пилugin	4) Создатель системы управления ракетами-носителями.

В. А. Курманович В. А.
Тема: Генералова Е. А.

35

**Задания школьного этапа Всероссийской олимпиады по географии
2023–2024 учебный год.**

4 класс

**Время выполнения заданий – 45 минут
Максимальный балл за все задания – 50 баллов**

Уважаемые участники олимпиады, теоретический тур олимпиады включает 4 задания. Внимательно познакомьтесь с характером каждого из них и определите для себя последовательность выполнения работы. Ответы каждого из них запишите в листе ответов.

Начинать работу можно с любого задания, однако, рекомендуется выполнять задания в том порядке, в котором они даны. Если какое-то задание вызывает у вас затруднение, пропустите его и постарайтесь выполнить те, в ответах которых вы уверены. К пропущенным заданиям можно будет вернуться, если у вас останется время

Часть I. – 20 баллов (по 1 баллу за каждый правильный ответ).

Вопросы с выбором одного правильного ответа из четырёх предложенных.

1. В переводе с греческого языка «география» означает

- а) описание Земли б) изучение Земли в) жизнь на Земле г) изменение Земли

2. Что такое глобус?

- а) модель Солнца б) модель Земли в) модель шара

3. Какой признак отличает нашу планету от других «планет земной группы»?

- а) имеет твёрдую поверхность
 б) имеет атмосферу
 в) имеет естественный спутник
 г) присутствует вода в жидком, твёрдом и газообразном состоянии

4. К объектам живой природы относится

- а) кристалл б) сосулька в) гриб г) луна

5. Кто из древних ученых первым предположил, что Земля имеет форму шара?

- а) Пифагор б) Птолемей в) Коперник г) Аристотель

6. Отметьте ряд, в котором указаны планеты, входящие в группу планет-гигантов.

- а) Сатурн, Земля, Марс б) Марс, Венера, Юпитер
 в) Земля, Плутон, Уран, Нептун г) Юпитер, Сатурн, Уран, Нептун

7. Дополните утверждение: «На сегодняшний день существует ... материков».

- а) 8 б) 4 в) 5 г) 6

8. Какой материк называют Новым светом?

- а) Африка б) Америка в) Антарктида г) Австралия.

9. Как называется прибор для ориентирования на местности?

- а) компас б) флюгер в) азимут г) барометр

10. Если встать лицом на север, то с правой стороны будет:

- а) юг б) восток в) запад г) северо – восток

11. Как появилась почва?

- а) она всегда была на планете
 б) в результате извержения вулкана
 в) из рыхлого слоя горных пород, измененного растениями и животными
 г) в результате распашки полей человеком

12. Какие горы принято считать границей между Европой и Азией?

- а) Алтайские горы б) Уральские горы
 в) Кавказские горы г) Воробьевы горы

13. Какая из перечисленных гор находится в России и является высочайшей вершиной Европы?

- а) Эльбрус б) Эверест
 в) Мак-Кинли г) Килиманджаро

14. Моря какого океана не омывают берега России?

- а) Индийского б) Тихого
 в) Северного Ледовитого г) Атлантического

15. Какая из перечисленных рек находится в России и является самой длинной в Европе?

- а) Енисей б) Лена в) Нева г) Волга

16. В России находится самое глубокое озеро мира. Как оно называется?

- а) озеро Ильмень б) Ладожское озеро
 в) озеро Байкал г) Онежское озеро

17. Полезные ископаемые – это...

- а) все минералы и горные породы, из которых состоит Земля.
 б) минералы и горные породы, которые используют люди
 в) полезные вещества, которые получают из горных пород и минералов.

18. Наиболее обширная природная зона России — это ...

- а) степь б) тундра в) пустыня г) тайга

19. Этот самый большой остров планеты, целиком покрыт льдами. Его коренные жители, эскимосы, занимаются охотой и рыболовством.

- а) Сахалин б) Гренландия в) Гавайи

20. Что такое карта полушарий?

- а) карта, на которой дано изображение какой-то территории.
 б) карта, на которой изображены две половинки земного шара.
 в) карта, на которой изображена Земля.

Часть II.

Разделите приведённые ниже слова на две группы: объекты природы и явления природы.

За каждый правильный ответ начисляется 1 балл.

бактерии	гроза	ледоход	озеро
ветер	землетрясение	листопад	половодье
воздух	камнепад	минералы	дерево
вулкан	родник	облако	спячка

Объекты природы	Явления природы
бактерии 1	ветер 1
вулкан 1	воздух -
родник 1	гроза 1
ледоход -	землетрясение 1
минералы 1	камнепад 1
облако 1	листопад 1
озеро 1	спячка 1
дерево 1	половодье 1

15

14

Часть III.

За каждый правильный ответ начисляется 1 балл.

1. Подбери общий материк для следующих организмов:

утконос, ехидна, кенгуру, дикая собака Динго, райские птицы.

1 Ответ: Континент Австралия

2. Во всех этих словах течёт древнерусская река, впадающая в Азовское море.

Отыщи её название. В ответе напиши получившееся слово.

ЛАДОНЬ, ДОНОС, БИДОН

1 Ответ: ДОНОС

3. Горилла – самая крупная из всех обезьян, живущих на Земле. Иногда ее вес не выдерживают даже большие деревья! Горилла очень сильная: мускулам на ее лапах может позавидовать любой спортсмен. Вспоминай, на каком континенте мы можем увидеть это удивительное животное в естественной среде обитания?

В ответе запиши название континента.

— Ответ: Южная Америка

4. Выберите ВСЕ правильные ответы.

Медуза – это живое существо, потому что она:

3 а) плавает в морях размножается питается

г) может находиться только в воде дышит

5. Выберите ВСЕ правильные ответы. Выберите из списка животных, занесённых в Красную книгу России.

4 а) белый медведь русская выхухоль

б) амурский тигр бурый медведь

д) лось дальневосточный леопард

Часть IV. При выполнении заданий на соответствие к каждой позиции, данной в первом столбце, подберите соответствующую позицию из второго столбца.

Установите соответствие между исследователями (а-г) космоса и их достижениями (1-3).

1 а) Ю. Гагарин 2	1) Первый учёный, который доказал, что реальным средством освоения космоса станет ракета
б) С. Королёв 4	2) Первый полёт человека в космос
в) К. Циолковский 3	3) Организатор производства ракетно-космической техники
г) Н. Пилюгин 1	4) Создатель системы управления ракетами-носителями.

Вар. Турманова ВВ
Тем. Темиралова Е. А.

39

**Задания школьного этапа Всероссийской олимпиады по географии
2023–2024 учебный год.**

4 класс

Время выполнения заданий – 45 минут

Максимальный балл за все задания – 50 баллов

Уважаемые участники олимпиады, теоретический тур олимпиады включает 4 задания. Внимательно познакомьтесь с характером каждого из них и определите для себя последовательность выполнения работы. Ответы каждого из них запишите в листе ответов.

Начинать работу можно с любого задания, однако, рекомендуется выполнять задания в том порядке, в котором они даны. Если какое-то задание вызывает у вас затруднение, пропустите его и постарайтесь выполнить те, в ответах которых вы уверены. К пропущенным заданиям можно будет вернуться, если у вас останется время

Часть I. – 20 баллов (по 1 баллу за каждый правильный ответ).

Вопросы с выбором одного правильного ответа из четырёх предложенных.

1. В переводе с греческого языка «география» означает
 - а) описание Земли б) изучение Земли в) жизнь на Земле г) изменение Земли
2. Что такое глобус?
 - а) модель Солнца б) модель Земли в) модель шара
3. Какой признак отличает нашу планету от других «планет земной группы»?
 - а) имеет твёрдую поверхность
 - б) имеет атмосферу
 - в) имеет естественный спутник
 - г) присутствует вода в жидком, твёрдом и газообразном состоянии
4. К объектам живой природы относится
 - а) кристалл б) сосулька в) гриб г) луна
5. Кто из древних ученых первым предположил, что Земля имеет форму шара?
 - а) Пифагор б) Птолемей в) Коперник г) Аристотель
6. Отметьте ряд, в котором указаны планеты, входящие в группу планет-гигантов.
 - а) Сатурн, Земля, Марс б) Марс, Венера, Юпитер
 - в) Земля, Плутон, Уран, Нептун г) Юпитер, Сатурн, Уран, Нептун
7. Дополните утверждение: «На сегодняшний день существует ... материков».
 - а) 8 б) 4 в) 5 г) 6
8. Какой материк называют Новым светом?
 - а) Африка б) Америка в) Антарктида г) Австралия.
9. Как называется прибор для ориентирования на местности?
 - а) компас б) флюгер в) азимут г) барометр
10. Если встать лицом на север, то с правой стороны будет:
 - а) юг б) восток в) запад г) северо – восток
11. Как появилась почва?
 - а) она всегда была на планете
 - б) в результате извержения вулкана
 - в) из рыхлого слоя горных пород, измененного растениями и животными
 - г) в результате распашки полей человеком
12. Какие горы принято считать границей между Европой и Азией?
 - а) Алтайские горы б) Уральские горы
 - в) Кавказские горы г) Воробьевы горы

13. Какая из перечисленных гор находится в России и является высочайшей вершиной Европы?

- а) Эльбрус б) Эверест
- в) Мак-Кинли г) Килиманджаро

14. Моря какого океана не омывают берега России?

- а) Индийского б) Тихого
- в) Северного Ледовитого г) Атлантического

15. Какая из перечисленных рек находится в России и является самой длинной в Европе?

- а) Енисей б) Лена в) Нева г) Волга

16. В России находится самое глубокое озеро мира. Как оно называется?

- а) озеро Ильмень б) Ладожское озеро
- в) озеро Байкал г) Онежское озеро

17. Полезные ископаемые – это...

- а) все минералы и горные породы, из которых состоит Земля.
- б) минералы и горные породы, которые используют люди
- в) полезные вещества, которые получают из горных пород и минералов.

18. Наиболее обширная природная зона России — это ...

- а) степь б) тундра в) пустыня г) тайга

19. Этот самый большой остров планеты, целиком покрыт льдами. Его коренные жители, эскимосы, занимаются охотой и рыболовством.

- а) Сахалин б) Гренландия в) Гавайи

20. Что такое карта полушарий?

- а) карта, на которой дано изображение какой-то территории.
- б) карта, на которой изображены две половинки земного шара.
- в) карта, на которой изображена Земля.

Часть II.

Разделите приведённые ниже слова на две группы: объекты природы и явления природы.

За каждый правильный ответ начисляется 1 балл.

бактерии	гроза	ледоход	озеро
ветер	землетрясение	листопад	половодье
воздух	камнепад	минералы	дерево
вулкан	родник	облако	спячка

Объекты природы	Явления природы
бактерии 1	земля 1
воздух 1	гроза 1
вулкан 1	земля, листопад 1
камнепад 1	ледоход 1
родник 1	половодье 1
минералы 1	половодье 1
облако 1	дерево, спячка 1
озеро 1	

15

14

Часть III.

За каждый правильный ответ начисляется 1 балл.

1. Подбери общий материк для следующих организмов:

утконос, ехидна, кенгуру, дикая собака Динго, райские птицы.

Ответ: Австралия Австралия

2. Во всех этих словах течёт древнерусская река, впадающая в Азовское море.

Отыщи её название. В ответе напиши получившееся слово.

ЛАДОНЬ, ДОНОС, БИДОН

Ответ: Дон

3. Горилла – самая крупная из всех обезьян, живущих на Земле. Иногда ее вес не выдерживают даже большие деревья! Горилла очень сильная: мускулам на ее лапах может позавидовать любой спортсмен. Вспоминай, на каком континенте мы можем увидеть это удивительное животное в естественной среде обитания?

В ответе запиши название континента.

Ответ: Африка

4. Выберите ВСЕ правильные ответы.

Медуза – это живое существо, потому что она:

а) плавает в морях б) размножается в) питается

г) может находиться только в воде д) дышит

5. Выберите ВСЕ правильные ответы. Выберите из списка животных, занесённых в Красную книгу России.

а) белый медведь б) русская выхухоль

в) амурский тигр г) бурый медведь

д) лось е) дальневосточный леопард

Часть IV. При выполнении заданий на соответствие к каждой позиции, данной в первом столбце, подберите соответствующую позицию из второго столбца.

Установите соответствие между исследователями (а-г) космоса и их достижениями (1-3).

<input checked="" type="checkbox"/> а) Ю. Гагарин 2	1) Первый учёный, который доказал, что реальным средством освоения космоса станет ракета
<input type="checkbox"/> б) С. Королёв 4	2) Первый полёт человека в космос
<input checked="" type="checkbox"/> в) К. Циолковский 2	3) Организатор производства ракетно-космической техники
<input checked="" type="checkbox"/> г) Н. Пилюгин 3	4) Создатель системы управления ракетами-носителями.

1297
Петр

Гуртманова М.В.
Генералова Е.А.

39

**Задания школьного этапа Всероссийской олимпиады по географии
2023–2024 учебный год.**

4 класс

Время выполнения заданий –45 минут

Максимальный балл за все задания – 50 баллов

Уважаемые участники олимпиады, теоретический тур олимпиады включает 4 задания. Внимательно познакомьтесь с характером каждого из них и определите для себя последовательность выполнения работы. Ответы каждого из них запишите в листе ответов.

Начинать работу можно с любого задания, однако, рекомендуется выполнять задания в том порядке, в котором они даны. Если какое-то задание вызывает у вас затруднение, пропустите его и постарайтесь выполнить те, в ответах которых вы уверены. К пропущенным заданиям можно будет вернуться, если у вас останется время

Часть I. – 20 баллов (по 1 баллу за каждый правильный ответ).

Вопросы с выбором одного правильного ответа из четырёх предложенных.

1. В переводе с греческого языка «география» означает
 - а) описание Земли б) изучение Земли в) жизнь на Земле г) изменение Земли
2. Что такое глобус?
 - а) модель Солнца б) модель Земли в) модель шара
3. Какой признак отличает нашу планету от других «планет земной группы»?
 - а) имеет твёрдую поверхность
 - б) имеет атмосферу
 - в) имеет естественный спутник
 - г) присутствует вода в жидком, твёрдом и газообразном состоянии
4. К объектам живой природы относится
 - а) кристалл б) сосулька в) гриб г) луна
5. Кто из древних ученых первым предположил, что Земля имеет форму шара?
 - а) Пифагор б) Птолемей в) Коперник г) Аристотель
6. Отметьте ряд, в котором указаны планеты, входящие в группу планет-гигантов.
 - а) Сатурн, Земля, Марс б) Марс, Венера, Юпитер
 - в) Земля, Плутон, Уран, Нептун г) Юпитер, Сатурн, Уран, Нептун
7. Дополните утверждение: «На сегодняшний день существует ... материков».
 - а) 8 б) 4 в) 5 г) 6
8. Какой материк называют Новым светом?
 - а) Африка б) Америка в) Антарктида г) Австралия.
9. Как называется прибор для ориентирования на местности?
 - а) компас б) флюгер в) азимут г) барометр
10. Если встать лицом на север, то с правой стороны будет:
 - а) юг б) восток в) запад г) северо – восток
11. Как появилась почва?
 - а) она всегда была на планете
 - б) в результате извержения вулкана
 - в) из рыхлого слоя горных пород, измененного растениями и животными
 - г) в результате распашки полей человеком
12. Какие горы принято считать границей между Европой и Азией?
 - а) Алтайские горы б) Уральские горы
 - в) Кавказские горы г) Воробьевы горы

13. Какая из перечисленных гор находится в России и является высочайшей вершиной Европы?

- а) Эльбрус б) Эверест
- в) Мак-Кинли г) Килиманджаро

14. Моря какого океана не омывают берега России?

- а) Индийского б) Тихого
- в) Северного Ледовитого г) Атлантического

15. Какая из перечисленных рек находится в России и является самой длинной в Европе?

- а) Енисей б) Лена в) Нева г) Волга

16. В России находится самое глубокое озеро мира. Как оно называется?

- а) озеро Ильмень б) Ладожское озеро
- в) озеро Байкал г) Онежское озеро

17. Полезные ископаемые – это...

- а) все минералы и горные породы, из которых состоит Земля.
- б) минералы и горные породы, которые используют люди
- в) полезные вещества, которые получают из горных пород и минералов.

18. Наиболее обширная природная зона России — это ...

- а) степь б) тундра в) пустыня г) тайга

19. Этот самый большой остров планеты, целиком покрыт льдами. Его коренные жители, эскимосы, занимаются охотой и рыболовством.

- а) Сахалин б) Гренландия в) Гавайи

20. Что такое карта полушарий?

- а) карта, на которой дано изображение какой-то территории.
- б) карта, на которой изображены две половинки земного шара.
- в) карта, на которой изображена Земля.

Часть II.

Разделите приведённые ниже слова на две группы: объекты природы и явления природы.

За каждый правильный ответ начисляется 1 балл.

бактерии	гроза	ледоход	озеро
ветер	землетрясение	листопад	половодье
воздух	камнепад	минералы	дерево
вулкан	родник	облако	спячка

Объекты природы	Явления природы
воздух	гроза
бактерии	ветер
родник	вулкан
дерево	землетрясение
спячка	каменепад
озеро	листопад
минералы	половодье
облако	ледоход

17

14

Часть III.

За каждый правильный ответ начисляется 1 балл.

1. Подбери общий материк для следующих организмов:

утконос, ехидна, кенгуру, дикая собака Динго, райские птицы.

Ответ: Австралия

2. Во всех этих словах течёт древнерусская река, впадающая в Азовское море.

Отыщи её название. В ответе напиши получившееся слово.

1 Ответ: ЛАДОНЬ, ДОНОС, БИДОН

3. Горилла – самая крупная из всех обезьян, живущих на Земле. Иногда ее вес не выдерживают даже большие деревья! Горилла очень сильная: мускулам на ее лапах может позавидовать любой спортсмен. Вспоминай, на каком континенте мы можем увидеть это удивительное животное в естественной среде обитания?

1 В ответе запиши название континента.

Ответ: Африка

4. Выберите ВСЕ правильные ответы.

Медуза – это живое существо, потому что она:

- 2 а) плавает в морях б) размножается в) питается
г) может находиться только в воде д) дышит

4 5. Выберите ВСЕ правильные ответы. Выберите из списка животных, занесённых в Красную книгу России.

- а) белый медведь б) русская выхухоль
в) амурский тигр г) бурый медведь
д) лось е) дальневосточный леопард

Часть IV. При выполнении заданий на соответствие к каждой позиции, данной в первом столбце, подберите соответствующую позицию из второго столбца.

1 Установите соответствие между исследователями (а-г) космоса и их достижениями (1-3).

а) Ю. Гагарин	1) Первый учёный, который доказал, что реальным средством освоения космоса станет ракета
б) С. Королёв	2) Первый полёт человека в космос
в) К. Циолковский	3) Организатор производства ракетно-космической техники
г) Н. Пилюгин	4) Создатель системы управления ракетами-носителями.

40

Генф
1991

Генералова Е. А.
Гуртатова В. В.

**Задания школьного этапа Всероссийской олимпиады по географии
2023–2024 учебный год.**

4 класс

**Время выполнения заданий – 45 минут
Максимальный балл за все задания – 50 баллов**

Уважаемые участники олимпиады, теоретический тур олимпиады включает 4 задания. Внимательно познакомьтесь с характером каждого из них и определите для себя последовательность выполнения работы. Ответы каждого из них запишите в листе ответов.

Начинать работу можно с любого задания, однако, рекомендуется выполнять задания в том порядке, в котором они даны. Если какое-то задание вызывает у вас затруднение, пропустите его и постарайтесь выполнить те, в ответах которых вы уверены. К пропущенным заданиям можно будет вернуться, если у вас останется время

Часть I. – 20 баллов (по 1 баллу за каждый правильный ответ).

Вопросы с выбором одного правильного ответа из четырёх предложенных.

1. В переводе с греческого языка «география» означает
 а) описание Земли б) изучение Земли в) жизнь на Земле г) изменение Земли
2. Что такое глобус?
 а) модель Солнца б) модель Земли в) модель шара
3. Какой признак отличает нашу планету от других «планет земной группы»?
 а) имеет твёрдую поверхность
 б) имеет атмосферу
 в) имеет естественный спутник
 г) присутствует вода в жидком, твёрдом и газообразном состоянии
4. К объектам живой природы относится
 а) кристалл б) сосулька в) гриб г) луна
5. Кто из древних ученых первым предположил, что Земля имеет форму шара?
 а) Пифагор б) Птолемей в) Коперник г) Аристотель
6. Отметьте ряд, в котором указаны планеты, входящие в группу планет-гигантов.
 а) Сатурн, Земля, Марс б) Марс, Венера, Юпитер
 в) Земля, Плутон, Уран, Нептун г) Юпитер, Сатурн, Уран, Нептун
7. Дополните утверждение: «На сегодняшний день существует ... материков».
 а) 8 б) 4 в) 5 г) 6
8. Какой материк называют Новым светом?
 а) Африка б) Америка в) Антарктида г) Австралия.
9. Как называется прибор для ориентирования на местности?
 а) компас б) флюгер в) азимут г) барометр
10. Если встать лицом на север, то с правой стороны будет:
 а) юг б) восток в) запад г) северо – восток
11. Как появилась почва?
 а) она всегда была на планете
 б) в результате извержения вулкана
 в) из рыхлого слоя горных пород, измененного растениями и животными
 г) в результате распашки полей человеком
12. Какие горы принято считать границей между Европой и Азией?
 а) Алтайские горы б) Уральские горы
 в) Кавказские горы г) Воробьевы горы

13. Какая из перечисленных гор находится в России и является высочайшей вершиной Европы?

- а) Эльбрус б) Эверест
 в) Мак-Кинли г) Килиманджаро

14. Моря какого океана не омывают берега России?

- а) Индийского б) Тихого
 в) Северного Ледовитого г) Атлантического

15. Какая из перечисленных рек находится в России и является самой длинной в Европе?

- а) Енисей б) Лена в) Нева г) Волга

16. В России находится самое глубокое озеро мира. Как оно называется?

- а) озеро Ильмень б) Ладожское озеро
 в) озеро Байкал г) Онежское озеро

17. Полезные ископаемые – это...

- а) все минералы и горные породы, из которых состоит Земля.
 б) минералы и горные породы, которые используют люди
 в) полезные вещества, которые получают из горных пород и минералов.

18. Наиболее обширная природная зона России — это ...

- а) степь б) тундра в) пустыня г) тайга

19. Этот самый большой остров планеты, целиком покрыт льдами. Его коренные жители, эскимосы, занимаются охотой и рыболовством.

- а) Сахалин б) Гренландия в) Гавайи

20. Что такое карта полушарий?

- а) карта, на которой дано изображение какой-то территории.
 б) карта, на которой изображены две половинки земного шара.
 в) карта, на которой изображена Земля.

19

Часть II.

Разделите приведённые ниже слова на две группы: объекты природы и явления природы.

За каждый правильный ответ начисляется 1 балл.

бактерии	0	гроза	2	ледоход	2	озеро	0
ветер	2	землетрясение	2	листопад	2	половодье	2
воздух	0	камнепад	2	минералы	0	дерево	0
вулкан	0	родник	0	облако	0	спячка	2

Объекты природы	Явления природы
Бактерии, воздух, вулкан, родник, минералы, облако, дерево, спячка	ветер, гроза, землетрясение, листопад, ледоход, половодье

16

Часть III.

За каждый правильный ответ начисляется 1 балл.

1. Подбери общий материк для следующих организмов:

утконос, ехидна, кенгуру, дикая собака Динго, райские птицы.

1 Ответ: Австралия

2. Во всех этих словах течёт древнерусская река, впадающая в Азовское море. Отыщи её название. В ответе напиши получившееся слово.

1 Ответ: Дон (ЛАДОНЬ, ДОНОС, БИДОН)

3. Горилла – самая крупная из всех обезьян, живущих на Земле. Иногда ее вес не выдерживают даже большие деревья! Горилла очень сильная: мускулам на ее лапах может позавидовать любой спортсмен. Вспоминай, на каком континенте мы можем увидеть это удивительное животное в естественной среде обитания?

В ответе запиши название континента.

1 Ответ: Африка

4. Выберите ВСЕ правильные ответы.

Медуза – это живое существо, потому что она:

- 3 а) плавает в морях б) размножается в) питается
- г) может находиться только в воде д) дышит

5. Выберите ВСЕ правильные ответы. Выберите из списка животных, занесённых в Красную книгу России.

- 4 а) белый медведь б) русская выхухоль
- в) амурский тигр г) бурый медведь
- д) лось е) дальневосточный леопард

10

Часть IV. При выполнении заданий на соответствие к каждой позиции, данной в первом столбце, подберите соответствующую позицию из второго столбца.

Установите соответствие между исследователями (а-г) космоса и их достижениями (1-3).

2 а) Ю. Гагарин <u>2</u>	1) Первый учёный, который доказал, что реальным средством освоения космоса станет ракета
б) С. Королёв <u>4</u>	2) Первый полёт человека в космос
в) К. Циолковский <u>1</u>	3) Организатор производства ракетно-космической техники
г) Н. Пилюгин <u>3</u>	4) Создатель системы управления ракетами-носителями.

2

Тепл Генералова Е. А.

**Задания школьного этапа Всероссийской олимпиады по географии
2023–2024 учебный год.
4 класс**

**Время выполнения заданий – 45 минут
Максимальный балл за все задания – 50 баллов**

Уважаемые участники олимпиады, теоретический тур олимпиады включает 4 задания. Внимательно познакомьтесь с характером каждого из них и определите для себя последовательность выполнения работы. Ответы каждого из них запишите в листе ответов.

Начинать работу можно с любого задания, однако, рекомендуется выполнять задания в том порядке, в котором они даны. Если какое-то задание вызывает у вас затруднение, пропустите его и постарайтесь выполнить те, в ответах которых вы уверены. К пропущенным заданиям можно будет вернуться, если у вас останется время

**Часть I. – 20 баллов (по 1 баллу за каждый правильный ответ).
Вопросы с выбором одного правильного ответа из четырёх предложенных.**

1. В переводе с греческого языка «география» означает
а) описание Земли б) изучение Земли в) жизнь на Земле г) изменение Земли
2. Что такое глобус?
а) модель Солнца б) модель Земли в) модель шара
3. Какой признак отличает нашу планету от других «планет земной группы»?
а) имеет твёрдую поверхность
б) имеет атмосферу
в) имеет естественный спутник
г) присутствует вода в жидком, твёрдом и газообразном состоянии
4. К объектам живой природы относится
а) кристалл б) сосулька в) гриб г) луна
5. Кто из древних ученых первым предположил, что Земля имеет форму шара?
а) Пифагор б) Птолемей в) Коперник г) Аристотель
6. Отметьте ряд, в котором указаны планеты, входящие в группу планет-гигантов.
а) Сатурн, Земля, Марс б) Марс, Венера, Юпитер
в) Земля, Плутон, Уран, Нептун г) Юпитер, Сатурн, Уран, Нептун
7. Дополните утверждение: «На сегодняшний день существует ... материков».
а) 8 б) 4 в) 5 г) 6
8. Какой материк называют Новым светом?
а) Африка б) Америка в) Антарктида г) Австралия.
9. Как называется прибор для ориентирования на местности?
а) компас б) флюгер в) азимут г) барометр
10. Если встать лицом на север, то с правой стороны будет:
а) юг б) восток в) запад г) северо – восток
11. Как появилась почва?
а) она всегда была на планете
б) в результате извержения вулкана
в) из рыхлого слоя горных пород, измененного растениями и животными
г) в результате распашки полей человеком
12. Какие горы принято считать границей между Европой и Азией?
а) Алтайские горы б) Уральские горы
в) Кавказские горы г) Воробьевы горы

13. Какая из перечисленных гор находится в России и является высочайшей вершиной Европы?

- а) Эльбрус б) Эверест
в) Мак-Кинли г) Килиманджаро

14. Моря какого океана не омывают берега России?

- а) Индийского б) Тихого
в) Северного Ледовитого г) Атлантического

15. Какая из перечисленных рек находится в России и является самой длинной в Европе?

- а) Енисей б) Лена в) Нева г) Волга

16. В России находится самое глубокое озеро мира. Как оно называется?

- а) озеро Ильмень б) Ладожское озеро
в) озеро Байкал г) Онежское озеро

17. Полезные ископаемые – это...

- а) все минералы и горные породы, из которых состоит Земля.
б) минералы и горные породы, которые используют люди
в) полезные вещества, которые получают из горных пород и минералов.

18. Наиболее обширная природная зона России — это ...

- а) степь б) тундра в) пустыня г) тайга

19. Этот самый большой остров планеты, целиком покрыт льдами. Его коренные жители, эскимосы, занимаются охотой и рыболовством.

- а) Сахалин б) Гренландия в) Гавайи

20. Что такое карта полушарий?

- а) карта, на которой дано изображение какой-то территории.
б) карта, на которой изображены две половинки земного шара.
в) карта, на которой изображена Земля.

Часть II.

Разделите приведённые ниже слова на две группы: объекты природы и явления природы.

За каждый правильный ответ начисляется 1 балл.

бактерии	гроза	ледоход	озеро
ветер	землетрясение	листопад	половодье
воздух	камнепад	минералы	дерево
вулкан	родник	облако	спячка

Объекты природы	Явления природы
<u>бактерии</u> 1	<u>ветер</u> 1
<u>вулкан</u> 1	<u>воздух</u> 1
<u>родник</u> 1	<u>гроза</u> 1
<u>облако</u> 1	<u>земл. землетрясение</u> 1
<u>минералы</u> 1	<u>Калининград</u> 1
<u>листопад</u> 1	<u>ледоход</u> 1
<u>озеро</u> 1	<u>половодье</u> 1
<u>дерево</u> 1	<u>спячка</u> 1

14

14

Часть III.

За каждый правильный ответ начисляется 1 балл.

1. Подбери общий материк для следующих организмов:

утконос, ехидна, кенгуру, дикая собака Динго, райские птицы.

Ответ: Австралия

2. Во всех этих словах течёт древнерусская река, впадающая в Азовское море.

Отыщи её название. В ответе напиши получившееся слово.

ЛАДОНЬ, ДОНОС, БИДОН

Ответ: Дон

3. Горилла – самая крупная из всех обезьян, живущих на Земле. Иногда ее вес не выдерживают даже большие деревья! Горилла очень сильная: мускулам на ее лапах может позавидовать любой спортсмен. Вспоминай, на каком континенте мы можем увидеть это удивительное животное в естественной среде обитания?

В ответе запиши название континента.

Ответ: Африка

4. Выберите ВСЕ правильные ответы.

Медуза – это живое существо, потому что она:

а) плавает в морях

б) размножается

в) питается

г) может находиться только в воде

д) дышит

5. Выберите ВСЕ правильные ответы. Выберите из списка животных, занесённых в Красную книгу России.

а) белый медведь

б) русская выхухоль

в) амурский тигр

г) бурый медведь

д) лось

е) дальневосточный леопард

Часть IV. При выполнении заданий на соответствие к каждой позиции, данной в первом столбце, подберите соответствующую позицию из второго столбца.

Установите соответствие между исследователями (а-г) космоса и их достижениями (1-3).

а) Ю. Гагарин	2	1) Первый учёный, который доказал, что реальным средством освоения космоса станет ракета
б) С. Королёв	1	2) Первый полёт человека в космос
в) К. Циолковский	4	3) Организатор производства ракетно-космической техники
г) Н. Пилюгин	3	4) Создатель системы управления ракетами-носителями.

38
Тест Турманова В. В.
Тест Генералова Е. А.

**Задания школьного этапа Всероссийской олимпиады по географии
2023–2024 учебный год.
4 класс**

**Время выполнения заданий – 45 минут
Максимальный балл за все задания – 50 баллов**

Уважаемые участники олимпиады, теоретический тур олимпиады включает 4 задания. Внимательно познакомьтесь с характером каждого из них и определите для себя последовательность выполнения работы. Ответы каждого из них запишите в листе ответов.

Начинать работу можно с любого задания, однако, рекомендуется выполнять задания в том порядке, в котором они даны. Если какое-то задание вызывает у вас затруднение, пропустите его и постарайтесь выполнить те, в ответах которых вы уверены. К пропущенным заданиям можно будет вернуться, если у вас останется время

**Часть I. – 20 баллов (по 1 баллу за каждый правильный ответ).
Вопросы с выбором одного правильного ответа из четырёх предложенных.**

1. В переводе с греческого языка «география» означает
а) описание Земли б) изучение Земли в) жизнь на Земле г) изменение Земли
2. Что такое глобус?
а) модель Солнца б) модель Земли в) модель шара
3. Какой признак отличает нашу планету от других «планет земной группы»?
а) имеет твёрдую поверхность
б) имеет атмосферу
в) имеет естественный спутник
г) присутствует вода в жидком, твёрдом и газообразном состоянии
4. К объектам живой природы относится
а) кристалл б) сосулька в) гриб г) луна
5. Кто из древних ученых первым предположил, что Земля имеет форму шара?
а) Пифагор б) Птолемей в) Коперник г) Аристотель
6. Отметьте ряд, в котором указаны планеты, входящие в группу планет-гигантов.
а) Сатурн, Земля, Марс б) Марс, Венера, Юпитер
в) Земля, Плутон, Уран, Нептун г) Юпитер, Сатурн, Уран, Нептун
7. Дополните утверждение: «На сегодняшний день существует ... материков».
а) 8 б) 4 в) 5 г) 6
8. Какой материк называют Новым светом?
а) Африка б) Америка в) Антарктида г) Австралия.
9. Как называется прибор для ориентирования на местности?
а) компас б) флюгер в) азимут г) барометр
10. Если встать лицом на север, то с правой стороны будет:
а) юг б) восток в) запад г) северо – восток
11. Как появилась почва?
а) она всегда была на планете
б) в результате извержения вулкана
в) из рыхлого слоя горных пород, измененного растениями и животными
г) в результате распахки полей человеком
12. Какие горы принято считать границей между Европой и Азией?
а) Алтайские горы б) Уральские горы
в) Кавказские горы г) Воробьевы горы

13. Какая из перечисленных гор находится в России и является высочайшей вершиной Европы?

- а) Эльбрус б) Эверест
в) Мак-Кинли г) Килиманджаро

14. Моря какого океана не омывают берега России?

- а) Индийского б) Тихого
в) Северного Ледовитого г) Атлантического

15. Какая из перечисленных рек находится в России и является самой длинной в Европе?

- а) Енисей б) Лена в) Нева г) Волга

16. В России находится самое глубокое озеро мира. Как оно называется?

- а) озеро Ильмень б) Ладожское озеро
в) озеро Байкал г) Онежское озеро

17. Полезные ископаемые – это...

- а) все минералы и горные породы, из которых состоит Земля.
б) минералы и горные породы, которые используют люди
в) полезные вещества, которые получают из горных пород и минералов.

18. Наиболее обширная природная зона России — это ...

- а) степь б) тундра в) пустыня г) тайга

19. Этот самый большой остров планеты, целиком покрыт льдами. Его коренные жители, эскимосы, занимаются охотой и рыболовством.

- а) Сахалин б) Гренландия в) Гавайи

20. Что такое карта полушарий?

- а) карта, на которой дано изображение какой-то территории.
б) карта, на которой изображены две половинки земного шара.
в) карта, на которой изображена Земля.

Часть II.

Разделите приведённые ниже слова на две группы: объекты природы и явления природы.

За каждый правильный ответ начисляется 1 балл.

бактерии	гроза	ледоход	озеро
ветер	землетрясение	листопад	половодье
воздух	каменепад	минералы	дерево
вулкан	родник	облако	спячка

Объекты природы	Явления природы
бактерии 1	ветер 1
вулкан 1	гроза 1
родник 1	землетрясение 1
ледоход 1	каменепад 1
минералы 1	листопад 1
облако 1	воздух 1
озеро 1	половодье 1
дерево 1	спячка 1

15

14

Часть III.

За каждый правильный ответ начисляется 1 балл.

1. Подбери общий материк для следующих организмов:

утконос, ехидна, кенгуру, дикая собака Динго, райские птицы.

1 Ответ: Австралия

2. Во всех этих словах течёт древнерусская река, впадающая в Азовское море.

Отыщи её название. В ответе напиши получившееся слово.

ЛАДОНЬ, ДОНОС, БИДОН

1 Ответ: Дон

3. Горилла – самая крупная из всех обезьян, живущих на Земле. Иногда ее вес не выдерживают даже большие деревья! Горилла очень сильная: мускулам на ее лапах может позавидовать любой спортсмен. Вспоминай, на каком континенте мы можем увидеть это удивительное животное в естественной среде обитания?

В ответе запиши название континента.

1 Ответ: Африка

4. Выберите ВСЕ правильные ответы.

Медуза – это живое существо, потому что она:

- а) плавает в морях б) размножается в) питается
г) может находиться только в воде д) дышит

5. Выберите ВСЕ правильные ответы. Выберите из списка животных, занесённых в Красную книгу России.

- 4 а) белый медведь б) русская выхухоль
в) амурский тигр г) бурый медведь
д) лось е) дальневосточный леопард

Часть IV. При выполнении заданий на соответствие к каждой позиции, данной в первом столбце, подберите соответствующую позицию из второго столбца.

Установите соответствие между исследователями (а-г) космоса и их достижениями (1-3).

а) Ю. Гагарин 2	1) Первый учёный, который доказал, что реальным средством освоения космоса станет ракета
б) С. Королёв 1	2) Первый полёт человека в космос
в) К. Циолковский 4	3) Организатор производства ракетно-космической техники
г) Н. Пилгогин 3	4) Создатель системы управления ракетами-носителями.

37

Тест
Тест Генералова Е. А.

Задания школьного этапа Всероссийской олимпиады по географии

2023–2024 учебный год.

4 класс

Время выполнения заданий – 45 минут

Максимальный балл за все задания – 50 баллов

Уважаемые участники олимпиады, теоретический тур олимпиады включает 4 задания. Внимательно познакомьтесь с характером каждого из них и определите для себя последовательность выполнения работы. Ответы каждого из них запишите в листе ответов.

Начинать работу можно с любого задания, однако, рекомендуется выполнять задания в том порядке, в котором они даны. Если какое-то задание вызывает у вас затруднение, пропустите его и постарайтесь выполнить те, в ответах которых вы уверены. К пропущенным заданиям можно будет вернуться, если у вас останется время

Часть I. – 20 баллов (по 1 баллу за каждый правильный ответ).

Вопросы с выбором одного правильного ответа из четырёх предложенных.

1. В переводе с греческого языка «география» означает
а) описание Земли б) изучение Земли в) жизнь на Земле г) изменение Земли
2. Что такое глобус?
а) модель Солнца б) модель Земли в) модель шара
3. Какой признак отличает нашу планету от других «планет земной группы»?
а) имеет твёрдую поверхность б) имеет атмосферу в) имеет естественный спутник г) присутствует вода в жидком, твёрдом и газообразном состоянии
4. К объектам живой природы относится
а) кристалл б) сосулька в) гриб г) луна
5. Кто из древних ученых первым предположил, что Земля имеет форму шара?
а) Пифагор б) Птолемей в) Коперник г) Аристотель
6. Отметьте ряд, в котором указаны планеты, входящие в группу планет-гигантов.
а) Сатурн, Земля, Марс б) Марс, Венера, Юпитер в) Земля, Плутон, Уран, Нептун г) Юпитер, Сатурн, Уран, Нептун
7. Дополните утверждение: «На сегодняшний день существует ... материков».
а) 8 б) 4 в) 5 г) 6
8. Какой материк называют Новым светом?
а) Африка б) Америка в) Антарктида г) Австралия.
9. Как называется прибор для ориентирования на местности?
а) компас б) флюгер в) азимут г) барометр
10. Если встать лицом на север, то с правой стороны будет:
а) юг б) восток в) запад г) северо – восток
11. Как появилась почва?
а) она всегда была на планете б) в результате извержения вулкана в) из рыхлого слоя горных пород, измененного растениями и животными г) в результате распахивки полей человеком
12. Какие горы принято считать границей между Европой и Азией?
а) Алтайские горы б) Уральские горы в) Кавказские горы г) Воробьевы горы

13. Какая из перечисленных гор находится в России и является высочайшей вершиной Европы?

- а) Эльбрус б) Эверест
в) Мак-Кинли г) Килиманджаро

14. Моря какого океана не омывают берега России?

- а) Индийского б) Тихого
в) Северного Ледовитого г) Атлантического

15. Какая из перечисленных рек находится в России и является самой длинной в Европе?

- а) Енисей б) Лена в) Нева г) Волга

16. В России находится самое глубокое озеро мира. Как оно называется?

- а) озеро Ильмень б) Ладожское озеро
в) озеро Байкал г) Онежское озеро

17. Полезные ископаемые – это...

- а) все минералы и горные породы, из которых состоит Земля.
б) минералы и горные породы, которые используют люди
в) полезные вещества, которые получают из горных пород и минералов.

18. Наиболее обширная природная зона России — это ...

- а) степь б) тундра в) пустыня г) тайга

19. Этот самый большой остров планеты, целиком покрыт льдами. Его коренные жители, эскимосы, занимаются охотой и рыболовством.

- а) Сахалин б) Гренландия в) Гавайи

20. Что такое карта полушарий?

- а) карта, на которой дано изображение какой-то территории.
б) карта, на которой изображены две половинки земного шара.
в) карта, на которой изображена Земля.

Часть II.

Разделите приведённые ниже слова на две группы: объекты природы и явления природы.

За каждый правильный ответ начисляется 1 балл.

бактерии	гроза	ледоход	озеро
ветер	землетрясение	листопад	половодье
воздух	камнепад	минералы	дерево
вулкан	родник	облако	спячка

Объекты природы	Явления природы
вулкан 1	ветер 1
бактерии 1	воздух 1
родник 1	гроза 1
ледоход 1	землетрясение 1
минералы 1	камнепад 1
облако 1	листопад 1
озеро 1	спячка 1
дерево 1	половодье 1

19

16

Часть III.

За каждый правильный ответ начисляется 1 балл.

1. Подбери общий материк для следующих организмов:

утконос, ехидна, кенгуру, дикая собака Динго, райские птицы.

Ответ: Австралия

2. Во всех этих словах течёт древнерусская река, впадающая в Азовское море.

Отыщи её название. В ответе напиши получившееся слово.

ЛАДОНЬ, ДОНОС, БИДОН

Ответ: Дон

3. Горилла – самая крупная из всех обезьян, живущих на Земле. Иногда ее вес не выдерживают даже большие деревья! Горилла очень сильная: мускулам на ее лапах

может позавидовать любой спортсмен. Вспоминай, на каком континенте мы можем увидеть это удивительное животное в естественной среде обитания?

В ответе запиши название континента.

Ответ: Африка

4. Выберите ВСЕ правильные ответы.

Медуза – это живое существо, потому что она:

а) плавает в морях б) размножается в) питается

г) может находиться только в воде д) дышит

5. Выберите ВСЕ правильные ответы. Выберите из списка животных, занесённых в Красную книгу России.

а) белый медведь б) русская выхухоль

в) амурский тигр г) бурый медведь

д) лось е) дальневосточный леопард

Часть IV. При выполнении заданий на соответствие к каждой позиции, данной в первом столбце, подберите соответствующую позицию из второго столбца.

Установите соответствие между исследователями (а-г) космоса и их достижениями (1-3).

а) Ю. Гагарин	2	1) Первый учёный, который доказал, что реальным средством освоения космоса станет ракета
б) С. Королёв	4	2) Первый полёт человека в космос
в) К. Циолковский	1	3) Организатор производства ракетно-космической техники
г) Н. Пилюгин	3	4) Создатель системы управления ракетами-носителями.

47

Тем Генералова Е. А.

**Задания школьного этапа Всероссийской олимпиады по географии
2023–2024 учебный год.
4 класс**

**Время выполнения заданий – 45 минут
Максимальный балл за все задания – 50 баллов**

Уважаемые участники олимпиады, теоретический тур олимпиады включает 4 задания. Внимательно познакомьтесь с характером каждого из них и определите для себя последовательность выполнения работы. Ответы каждого из них запишите в листе ответов.

Начинать работу можно с любого задания, однако, рекомендуется выполнять задания в том порядке, в котором они даны. Если какое-то задание вызывает у вас затруднение, пропустите его и постарайтесь выполнить те, в ответах которых вы уверены. К пропущенным заданиям можно будет вернуться, если у вас останется время

**Часть I. – 20 баллов (по 1 баллу за каждый правильный ответ).
Вопросы с выбором одного правильного ответа из четырёх предложенных.**

1. В переводе с греческого языка «география» означает
 - а) описание Земли б) изучение Земли в) жизнь на Земле г) изменение Земли
2. Что такое глобус?
 - а) модель Солнца б) модель Земли в) модель шара
3. Какой признак отличает нашу планету от других «планет земной группы»?
 - а) имеет твёрдую поверхность
 - б) имеет атмосферу
 - в) имеет естественный спутник
 - г) присутствует вода в жидком, твёрдом и газообразном состоянии
4. К объектам живой природы относится
 - а) кристалл б) сосулька в) гриб г) луна
5. Кто из древних ученых первым предположил, что Земля имеет форму шара?
 - а) Пифагор б) Птолемей в) Коперник г) Аристотель
6. Отметьте ряд, в котором указаны планеты, входящие в группу планет-гигантов.
 - а) Сатурн, Земля, Марс б) Марс, Венера, Юпитер
 - в) Земля, Плутон, Уран, Нептун г) Юпитер, Сатурн, Уран, Нептун
7. Дополните утверждение: «На сегодняшний день существует ... материков».
 - а) 8 б) 4 в) 5 г) 6
8. Какой материк называют Новым светом?
 - а) Африка б) Америка в) Антарктида г) Австралия.
9. Как называется прибор для ориентирования на местности?
 - а) компас б) флюгер в) азимут г) барометр
10. Если встать лицом на север, то с правой стороны будет:
 - а) юг б) восток в) запад г) северо – восток
11. Как появилась почва?
 - а) она всегда была на планете
 - б) в результате извержения вулкана
 - в) из рыхлого слоя горных пород, измененного растениями и животными
 - г) в результате распашки полей человеком
12. Какие горы принято считать границей между Европой и Азией?
 - а) Алтайские горы б) Уральские горы
 - в) Кавказские горы г) Воробьевы горы

13. Какая из перечисленных гор находится в России и является высочайшей вершиной Европы?

- а) Эльбрус б) Эверест
- в) Мак-Кинли г) Килиманджаро

14. Моря какого океана не омывают берега России?

- а) Индийского б) Тихого
- в) Северного Ледовитого г) Атлантического

15. Какая из перечисленных рек находится в России и является самой длинной в Европе?

- а) Енисей б) Лена в) Нева г) Волга

16. В России находится самое глубокое озеро мира. Как оно называется?

- а) озеро Ильмень б) Ладожское озеро
- в) озеро Байкал г) Онежское озеро

17. Полезные ископаемые – это...

- а) все минералы и горные породы, из которых состоит Земля.
- б) минералы и горные породы, которые используют люди
- в) полезные вещества, которые получают из горных пород и минералов.

18. Наиболее обширная природная зона России — это ...

- а) степь б) тундра в) пустыня г) тайга

19. Этот самый большой остров планеты, целиком покрыт льдами. Его коренные жители, эскимосы, занимаются охотой и рыболовством.

- а) Сахалин б) Гренландия в) Гавайи

20. Что такое карта полушарий?

- а) карта, на которой дано изображение какой-то территории.
- б) карта, на которой изображены две половинки земного шара.
- в) карта, на которой изображена Земля.

14

Часть II.

Разделите приведённые ниже слова на две группы: объекты природы и явления природы.

За каждый правильный ответ начисляется 1 балл.

бактерии	гроза	ледоход	озеро
ветер	землетрясение	листопад	половодье
воздух	камнепад	минералы	дерево
вулкан	родник	облако	спячка

Объекты природы	Явления природы
бактерии	ветер
вулкан	гроза
родник	туман
облако	землетрясение
минералы	ледоход
дерево	листопад
спячка	половодье

14

Часть III.

За каждый правильный ответ начисляется 1 балл.

1. Подбери общий материк для следующих организмов:

утконос, ехидна, кенгуру, дикая собака Динго, райские птицы.

1 Ответ: Австралия

2. Во всех этих словах течёт древнерусская река, впадающая в Азовское море. Отыщи её название. В ответе напиши получившееся слово.

ЛАДОНЬ, ДОНОС, БИДОН

1 Ответ: Дон

3. Горилла – самая крупная из всех обезьян, живущих на Земле. Иногда ее вес не выдерживают даже большие деревья! Горилла очень сильная: мускулам на ее лапах может позавидовать любой спортсмен. Вспоминай, на каком континенте мы можем увидеть это удивительное животное в естественной среде обитания?

1 В ответе запиши название континента.

Ответ: Африка

4. Выберите ВСЕ правильные ответы.

Медуза – это живое существо, потому что она:

- 3 а) плавает в морях б) размножается в) питается
г) может находиться только в воде д) дышит

5. Выберите ВСЕ правильные ответы. Выберите из списка животных, занесённых в Красную книгу России.

- 1 а) белый медведь б) русская выхухоль
в) амурский тигр г) бурый медведь
д) лось е) дальневосточный леопард

Часть IV. При выполнении заданий на соответствие к каждой позиции, данной в первом столбце, подберите соответствующую позицию из второго столбца.

Установите соответствие между исследователями (а-г) космоса и их достижениями (1-3).

2

а) Ю. Гагарин	4	1) Первый учёный, который доказал, что реальным средством освоения космоса станет ракета
б) С. Королёв	3	2) Первый полёт человека в космос
в) К. Циолковский	1	3) Организатор производства ракетно-космической техники
г) Н. Пилюгин	2	4) Создатель системы управления ракетами-носителями.

1

37

prof. Гуртманова СВ
Темп-Темрамова Е. А.

Задания школьного этапа Всероссийской олимпиады по географии

2023–2024 учебный год.

4 класс

Время выполнения заданий – 45 минут

Максимальный балл за все задания – 50 баллов

Уважаемые участники олимпиады, теоретический тур олимпиады включает 4 задания. Внимательно познакомьтесь с характером каждого из них и определите для себя последовательность выполнения работы. Ответы каждого из них запишите в листе ответов.

Начинать работу можно с любого задания, однако, рекомендуется выполнять задания в том порядке, в котором они даны. Если какое-то задание вызывает у вас затруднение, пропустите его и постарайтесь выполнить те, в ответах которых вы уверены. К пропущенным заданиям можно будет вернуться, если у вас останется время

Часть I. – 20 баллов (по 1 баллу за каждый правильный ответ).

Вопросы с выбором одного правильного ответа из четырёх предложенных.

1. В переводе с греческого языка «география» означает
а) описание Земли б) изучение Земли в) жизнь на Земле г) изменение Земли
2. Что такое глобус?
а) модель Солнца б) модель Земли в) модель шара
3. Какой признак отличает нашу планету от других «планет земной группы»?
а) имеет твёрдую поверхность
б) имеет атмосферу
в) имеет естественный спутник
г) присутствует вода в жидком, твёрдом и газообразном состоянии
4. К объектам живой природы относится
а) кристалл б) сосулька в) гриб г) луна
5. Кто из древних ученых первым предположил, что Земля имеет форму шара?
а) Пифагор б) Птолемей в) Коперник г) Аристотель
6. Отметьте ряд, в котором указаны планеты, входящие в группу планет-гигантов.
а) Сатурн, Земля, Марс б) Марс, Венера, Юпитер
в) Земля, Плутон, Уран, Нептун г) Юпитер, Сатурн, Уран, Нептун
7. Дополните утверждение: «На сегодняшний день существует ... материков».
а) 8 б) 4 в) 5 г) 6
8. Какой материк называют Новым светом?
а) Африка б) Америка в) Антарктида г) Австралия.
9. Как называется прибор для ориентирования на местности?
а) компас б) флюгер в) азимут г) барометр
10. Если встать лицом на север, то с правой стороны будет:
а) юг б) восток в) запад г) северо – восток
11. Как появилась почва?
а) она всегда была на планете
б) в результате извержения вулкана
в) из рыхлого слоя горных пород, измененного растениями и животными
г) в результате распашки полей человеком
12. Какие горы принято считать границей между Европой и Азией?
а) Алтайские горы б) Уральские горы
в) Кавказские горы г) Воробьевы горы

13. Какая из перечисленных гор находится в России и является высочайшей вершиной Европы?

- а) Эльбрус б) Эверест
в) Мак-Кинли г) Килиманджаро

14. Моря какого океана не омывают берега России?

- а) Индийского б) Тихого
в) Северного Ледовитого г) Атлантического

15. Какая из перечисленных рек находится в России и является самой длинной в Европе?

- а) Енисей б) Лена в) Нева г) Волга

16. В России находится самое глубокое озеро мира. Как оно называется?

- а) озеро Ильмень б) Ладожское озеро
в) озеро Байкал г) Онежское озеро

17. Полезные ископаемые – это...

- а) все минералы и горные породы, из которых состоит Земля.
б) минералы и горные породы, которые используют люди
в) полезные вещества, которые получают из горных пород и минералов.

18. Наиболее обширная природная зона России — это ...

- а) степь б) тундра в) пустыня г) тайга

19. Этот самый большой остров планеты, целиком покрыт льдами. Его коренные жители, эскимосы, занимаются охотой и рыболовством.

- а) Сахалин б) Гренландия в) Гавайи

20. Что такое карта полушарий?

- а) карта, на которой дано изображение какой-то территории.
б) карта, на которой изображены две половинки земного шара.
в) карта, на которой изображена Земля.

Часть II.

Разделите приведённые ниже слова на две группы: объекты природы и явления природы.

За каждый правильный ответ начисляется 1 балл.

бактерии	гроза	ледоход	озеро
ветер	землетрясение	листопад	половодье
воздух	камнепад	минералы	дерево
вулкан	родник	облако	спячка

Объекты природы	Явления природы
бактерии 1	ветер 1
воздух 1	гроза 1
вулкан 1	землетрясение 1
родник 1	камнепад 1
минералы 1	ледоход 1
сажалы 1	метель 1
озеро 1	половодье 1
деревья 1	спячка 1

16

16

Часть III.

За каждый правильный ответ начисляется 1 балл.

1. Подбери общий материк для следующих организмов:

утконос, ехидна, кенгуру, дикая собака Динго, райские птицы.

Ответ: Австралия

2. Во всех этих словах течёт древнерусская река, впадающая в Азовское море.

Отыщи её название. В ответе напиши получившееся слово.

ЛАДОНЬ, ДОНОС, БИДОН

Ответ: Дон

3. Горилла самая крупная из всех обезьян, живущих на Земле. Иногда ее вес не выдерживают даже большие деревья! Горилла очень сильная: мускулам на ее лапах может позавидовать любой спортсмен. Вспоминай, на каком континенте мы можем увидеть это удивительное животное в естественной среде обитания?

В ответе запиши название континента.

Ответ: Африка

4. Выберите ВСЕ правильные ответы.

Медуза – это живое существо, потому что она:

а) плавает в морях б) размножается в) питается

г) может находиться только в воде д) дышит

5. Выберите ВСЕ правильные ответы. Выберите из списка животных, занесённых в Красную книгу России.

а) белый медведь б) русская выхухоль

в) амурский тигр г) бурый медведь

д) лось е) дальневосточный леопард

Часть IV. При выполнении заданий на соответствие к каждой позиции, данной в первом столбце, подберите соответствующую позицию из второго столбца.

Установите соответствие между исследователями (а-г) космоса и их достижениями (1-3).

(1-3).

а) Ю. Гагарин	1) Первый учёный, который доказал, что реальным средством освоения космоса станет ракета
б) С. Королёв	2) Первый полёт человека в космос
в) К. Циолковский	3) Организатор производства ракетно-космической техники
г) Н. Пилгогин	4) Создатель системы управления ракетами-носителями.



a-1
b-2
v-3
g-4

43

Берг
Турганьев
Темракова
ВВ
Е. А.

**Задания школьного этапа Всероссийской олимпиады по географии
2023–2024 учебный год.
4 класс**

**Время выполнения заданий — 45 минут
Максимальный балл за все задания — 50 баллов**

Уважаемые участники олимпиады, теоретический тур олимпиады включает 4 задания. Внимательно познакомьтесь с характером каждого из них и определите для себя последовательность выполнения работы. Ответы каждого из них запишите в листе ответов.

Начинать работу можно с любого задания, однако, рекомендуется выполнять задания в том порядке, в котором они даны. Если какое-то задание вызывает у вас затруднение, пропустите его и постарайтесь выполнить те, в ответах которых вы уверены. К пропущенным заданиям можно будет вернуться, если у вас останется время

Часть I. — 20 баллов (по 1 баллу за каждый правильный ответ).

Вопросы с выбором одного правильного ответа из четырёх предложенных.

- 1. В переводе с греческого языка «география» означает**
а) описание Земли б) изучение Земли в) жизнь на Земле г) изменение Земли
- 2. Что такое глобус?**
а) модель Солнца б) модель Земли в) модель шара
- 3. Какой признак отличает нашу планету от других «планет земной группы»?**
а) имеет твёрдую поверхность
б) имеет атмосферу
в) имеет естественный спутник
г) присутствует вода в жидком, твёрдом и газообразном состоянии
- 4. К объектам живой природы относится**
а) кристалл б) сосулька в) гриб г) луна
- 5. Кто из древних ученых первым предположил, что Земля имеет форму шара?**
а) Пифагор б) Птолемей в) Коперник г) Аристотель
- 6. Отметьте ряд, в котором указаны планеты, входящие в группу планет-гигантов.**
а) Сатурн, Земля, Марс б) Марс, Венера, Юпитер
в) Земля, Плутон, Уран, Нептун г) Юпитер, Сатурн, Уран, Нептун
- 7. Дополните утверждение: «На сегодняшний день существует ... материков».**
а) 8 б) 4 в) 5 г) 6
- 8. Какой материк называют Новым светом?**
а) Африка б) Америка в) Антарктида г) Австралия.
- 9. Как называется прибор для ориентирования на местности?**
а) компас б) флюгер в) азимут г) барометр
- 10. Если встать лицом на север, то с правой стороны будет:**
а) юг б) восток в) запад г) северо – восток
- 11. Как появилась почва?**
а) она всегда была на планете
б) в результате извержения вулкана
в) из рыхлого слоя горных пород, измененного растениями и животными
г) в результате распахки полей человеком
- 12. Какие горы принято считать границей между Европой и Азией?**
а) Алтайские горы б) Уральские горы
в) Кавказские горы г) Воробьевы горы

13. Какая из перечисленных гор находится в России и является высочайшей вершиной Европы?

- а) Эльбрус б) Эверест
в) Мак-Кинли г) Килиманджаро

14. Моря какого океана не омывают берега России?

- а) Индийского б) Тихого
в) Северного Ледовитого г) Атлантического

15. Какая из перечисленных рек находится в России и является самой длинной в Европе?

- а) Енисей б) Лена в) Нева г) Волга

16. В России находится самое глубокое озеро мира. Как оно называется?

- а) озеро Ильмень б) Ладожское озеро
в) озеро Байкал г) Онежское озеро

17. Полезные ископаемые – это...

- а) все минералы и горные породы, из которых состоит Земля.
б) минералы и горные породы, которые используют люди
в) полезные вещества, которые получают из горных пород и минералов.

18. Наиболее обширная природная зона России — это ...

- а) степь б) тундра в) пустыня г) тайга

19. Этот самый большой остров планеты, целиком покрыт льдами. Его коренные жители, эскимосы, занимаются охотой и рыболовством.

- а) Сахалин б) Гренландия в) Гавайи

20. Что такое карта полушарий?

- а) карта, на которой дано изображение какой-то территории.
б) карта, на которой изображены две половинки земного шара.
в) карта, на которой изображена Земля.

Часть II.

Разделите приведённые ниже слова на две группы: объекты природы и явления природы.

За каждый правильный ответ начисляется 1 балл.

бактерии	гроза	ледоход	озеро
ветер	землетрясение	листопад	половодье
воздух	камнепад	минералы	дерево
вулкан	родник	облако	спячка

Объекты природы	Явления природы
объекты природы 1	ветер 1
вулкан 1	гроза 1
родник 1	землетрясение 1
ледоход 1	камнепад 1
минералы 1	листопад 1
озеро 1	спячка 1
дерево 1	половодье 1

14

Часть III.

За каждый правильный ответ начисляется 1 балл.

1. Подбери общий материк для следующих организмов:

утконос, ехидна, кенгуру, дикая собака Динго, райские птицы.

Ответ: Австралия

2. Во всех этих словах течёт древнерусская река, впадающая в Азовское море.

Отыщи её название. В ответе напиши получившееся слово.

ЛАДОНЬ, ДОНОС, БИДОН

Ответ: Дон

3. Горилла – самая крупная из всех обезьян, живущих на Земле. Иногда ее вес не выдерживают даже большие деревья! Горилла очень сильная: мускулам на ее лапах

может позавидовать любой спортсмен. Вспоминай, на каком континенте мы можем увидеть это удивительное животное в естественной среде обитания?

В ответе запиши название континента.

Ответ: Африка

4. Выберите ВСЕ правильные ответы.

Медуза – это живое существо, потому что она:

а) плавает в морях б) размножается в) питается

г) может находиться только в воде д) дышит

5. Выберите ВСЕ правильные ответы. Выберите из списка животных, занесённых в Красную книгу России.

а) белый медведь б) русская выхухоль

в) амурский тигр г) бурый медведь

д) лось е) дальневосточный леопард

Часть IV. При выполнении заданий на соответствие к каждой позиции, данной в первом столбце, подберите соответствующую позицию из второго столбца.

Установите соответствие между исследователями (а-г) космоса и их достижениями (1-3).

а) Ю. Гагарин 2	1) Первый учёный, который доказал, что реальным средством освоения космоса станет ракета
б) С. Королёв 3	2) Первый полёт человека в космос
в) К. Циолковский 1	3) Организатор производства ракетно-космической техники
г) Н. Пилugin 4	4) Создатель системы управления ракетами-носителями.

Ваш
Тем- Жуванова МВ
Тем- Жуванова Е. Н.

Часть III.

За каждый правильный ответ начисляется 1 балл.

1. Подбери общий материк для следующих организмов:

утконос, ехидна, кенгуру, дикая собака Динго, райские птицы.

Ответ: Австралия

2. Во всех этих словах течёт древнерусская река, впадающая в Азовское море.

Отыщи её название. В ответе напиши получившееся слово.

ЛАДОНЬ, ДОНОС, БИДОН

Ответ: Дон

3. Горилла – самая крупная из всех обезьян, живущих на Земле. Иногда ее вес не выдерживают даже большие деревья! Горилла очень сильная: мускулам на ее лапах может позавидовать любой спортсмен. Вспоминай, на каком континенте мы можем

увидеть это удивительное животное в естественной среде обитания?

В ответе запиши название континента.

Ответ: Свразия

4. Выберите ВСЕ правильные ответы.

Медуза – это живое существо, потому что она:

а) плавает в морях б) размножается в) питается

г) может находиться только в воде д) дышит

5. Выберите ВСЕ правильные ответы. Выберите из списка животных, занесённых в Красную книгу России.

а) белый медведь б) русская выхухоль

в) амурский тигр г) бурый медведь

д) лось е) дальневосточный леопард

Часть IV. При выполнении заданий на соответствие к каждой позиции, данной в первом столбце, подберите соответствующую позицию из второго столбца.

Установите соответствие между исследователями (а-г) космоса и их достижениями (1-3).

а) Ю. Гагарин <u>(2)</u>	1) Первый учёный, который доказал, что реальным средством освоения космоса станет ракета
б) С. Королёв <u>3</u>	2) Первый полёт человека в космос
в) К. Циолковский <u>1</u>	3) Организатор производства ракетно-космической техники
г) Н. Пилюгин <u>2</u>	4) Создатель системы управления ракетами-носителями.

prof Гурмановс 39
Тем Генералова Е. Н.

**Задания школьного этапа Всероссийской олимпиады по географии
2023–2024 учебный год.
4 класс**

**Время выполнения заданий — 45 минут
Максимальный балл за все задания — 50 баллов**

Уважаемые участники олимпиады, теоретический тур олимпиады включает 4 задания. Внимательно познакомьтесь с характером каждого из них и определите для себя последовательность выполнения работы. Ответы каждого из них запишите в листе ответов.

Начинать работу можно с любого задания, однако, рекомендуется выполнять задания в том порядке, в котором они даны. Если какое-то задание вызывает у вас затруднение, пропустите его и постарайтесь выполнить те, в ответах которых вы уверены. К пропущенным заданиям можно будет вернуться, если у вас останется время.

**Часть I. — 20 баллов (по 1 баллу за каждый правильный ответ).
Вопросы с выбором одного правильного ответа из четырёх предложенных.**

- 1. В переводе с греческого языка «география» означает**
а) описание Земли б) изучение Земли в) жизнь на Земле г) изменение Земли
- 2. Что такое глобус?**
а) модель Солнца б) модель Земли в) модель шара
- 3. Какой признак отличает нашу планету от других «планет земной группы»?**
а) имеет твёрдую поверхность
б) имеет атмосферу
в) имеет естественный спутник
г) присутствует вода в жидком, твёрдом и газообразном состоянии
- 4. К объектам живой природы относится**
а) кристалл б) сосулька в) гриб г) луна
- 5. Кто из древних ученых первым предположил, что Земля имеет форму шара?**
а) Пифагор б) Птолемей в) Коперник г) Аристотель
- 6. Отметьте ряд, в котором указаны планеты, входящие в группу планет-гигантов.**
а) Сатурн, Земля, Марс б) Марс, Венера, Юпитер
в) Земля, Плутон, Уран, Нептун г) Юпитер, Сатурн, Уран, Нептун
- 7. Дополните утверждение: «На сегодняшний день существует ... материков».**
а) 8 б) 4 в) 5 г) 6
- 8. Какой материк называют Новым светом?**
а) Африка б) Америка в) Антарктида г) Австралия.
- 9. Как называется прибор для ориентирования на местности?**
а) компас б) флюгер в) азимут г) барометр
- 10. Если встать лицом на север, то с правой стороны будет:**
а) юг б) восток в) запад г) северо – восток
- 11. Как появилась почва?**
а) она всегда была на планете
б) в результате извержения вулкана
в) из рыхлого слоя горных пород, измененного растениями и животными
г) в результате распашки полей человеком
- 12. Какие горы принято считать границей между Европой и Азией?**
а) Алтайские горы б) Уральские горы
в) Кавказские горы г) Воробьевы горы

13. Какая из перечисленных гор находится в России и является высочайшей вершиной Европы?

- а) Эльбрус б) Эверест
в) Мак-Кинли г) Килиманджаро

14. Моря какого океана не омывают берега России?

- а) Индийского б) Тихого
в) Северного Ледовитого г) Атлантического

15. Какая из перечисленных рек находится в России и является самой длинной в Европе?

- а) Енисей б) Лена в) Нева г) Волга

16. В России находится самое глубокое озеро мира. Как оно называется?

- а) озеро Ильмень б) Ладожское озеро
в) озеро Байкал г) Онежское озеро

17. Полезные ископаемые – это...

- а) все минералы и горные породы, из которых состоит Земля.
б) минералы и горные породы, которые используют люди
в) полезные вещества, которые получают из горных пород и минералов.

18. Наиболее обширная природная зона России — это ...

- а) степь б) тундра в) пустыня г) тайга

19. Этот самый большой остров планеты, целиком покрыт льдами. Его коренные жители, эскимосы, занимаются охотой и рыболовством.

- а) Сахалин б) Гренландия в) Гавайи

20. Что такое карта полушарий?

- а) карта, на которой дано изображение какой-то территории.
б) карта, на которой изображены две половинки земного шара.
в) карта, на которой изображена Земля.

16

Часть II.

Разделите приведённые ниже слова на две группы: объекты природы и явления природы.

За каждый правильный ответ начисляется 1 балл.

бактерии	гроза	ледоход	озеро
ветер	землетрясение	листопад	половодье
воздух	камнепад	минералы	дерево
вулкан	родник	облако	спячка

Объекты природы	Явления природы
1 бактерии	1 гроза
1 воздух	1 землетрясение
1 вулкан	1 листопад
1 море	1 минералы
1 озеро	1 ледоход
1 природный	1 ветер
1 дерево	1 половодье
1 спячка	1 камнепад
	1 сляка

19

Часть III.

За каждый правильный ответ начисляется 1 балл.

1. Подбери общий материк для следующих организмов:

утконос, ехидна, кенгуру, дикая собака Динго, райские птицы.

Ответ: Австралия

2. Во всех этих словах течёт древнерусская река, впадающая в Азовское море.

Отыщи её название. В ответе напиши получившееся слово.

ЛАДОНЬ, ДОНОС, БИДОН

Ответ: Дон

3. Горилла – самая крупная из всех обезьян, живущих на Земле. Иногда ее вес не выдерживают даже большие деревья! Горилла очень сильная: мускулам на ее лапах может позавидовать любой спортсмен. Вспоминай, на каком континенте мы можем увидеть это удивительное животное в естественной среде обитания?

В ответе запиши название континента.

Ответ: Африка

4. Выберите ВСЕ правильные ответы.

Медуза – это живое существо, потому что она:

- а) плавает в морях
- б) размножается
- в) питается
- г) может находиться только в воде
- д) дышит

5. Выберите ВСЕ правильные ответы. Выберите из списка животных, занесённых в Красную книгу России.

- а) белый медведь
- б) русская выхухоль
- в) амурский тигр
- г) бурый медведь
- д) лось
- е) дальневосточный леопард

Часть IV. При выполнении заданий на соответствие к каждой позиции, данной в первом столбце, подберите соответствующую позицию из второго столбца.

Установите соответствие между исследователями (а-г) космоса и их достижениями (1-3).

а) Ю. Гагарин	1) Первый учёный, который доказал, что реальным средством освоения космоса станет ракета
б) С. Королёв	2) Первый полёт человека в космос
в) К. Циолковский	3) Организатор производства ракетно-космической техники
г) Н. Пилюгин	4) Создатель системы управления ракетами-носителями.

а-2 б-3 в-1 г-4

42

Тем Генералова Е. А.

**Задания школьного этапа Всероссийской олимпиады по географии
2023–2024 учебный год.**

4 класс

**Время выполнения заданий – 45 минут
Максимальный балл за все задания – 50 баллов**

Уважаемые участники олимпиады, теоретический тур олимпиады включает 4 задания. Внимательно познакомьтесь с характером каждого из них и определите для себя последовательность выполнения работы. Ответы каждого из них запишите в листе ответов.

Начинать работу можно с любого задания, однако, рекомендуется выполнять задания в том порядке, в котором они даны. Если какое-то задание вызывает у вас затруднение, пропустите его и постарайтесь выполнить те, в ответах которых вы уверены. К пропущенным заданиям можно будет вернуться, если у вас останется время

Часть I. – 20 баллов (по 1 баллу за каждый правильный ответ).

Вопросы с выбором одного правильного ответа из четырёх предложенных.

1. В переводе с греческого языка «география» означает
а) описание Земли б) изучение Земли в) жизнь на Земле г) изменение Земли
2. Что такое глобус?
а) модель Солнца б) модель Земли в) модель шара
3. Какой признак отличает нашу планету от других «планет земной группы»?
а) имеет твёрдую поверхность
б) имеет атмосферу
в) имеет естественный спутник
г) присутствует вода в жидком, твёрдом и газообразном состоянии
4. К объектам живой природы относится
а) кристалл б) сосулька в) гриб г) луна
5. Кто из древних ученых первым предположил, что Земля имеет форму шара?
а) Пифагор б) Птолемей в) Коперник г) Аристотель
6. Отметьте ряд, в котором указаны планеты, входящие в группу планет-гигантов.
а) Сатурн, Земля, Марс б) Марс, Венера, Юпитер
в) Земля, Плутон, Уран, Нептун г) Юпитер, Сатурн, Уран, Нептун
7. Дополните утверждение: «На сегодняшний день существует ... материков».
а) 8 б) 4 в) 5 г) 6
8. Какой материк называют Новым светом?
а) Африка б) Америка в) Антарктида г) Австралия.
9. Как называется прибор для ориентирования на местности?
а) компас б) флюгер в) азимут г) барометр
10. Если встать лицом на север, то с правой стороны будет:
а) юг б) восток в) запад г) северо – восток
11. Как появилась почва?
а) она всегда была на планете
б) в результате извержения вулкана
в) из рыхлого слоя горных пород, измененного растениями и животными
г) в результате расщипки полей человеком
12. Какие горы принято считать границей между Европой и Азией?
а) Алтайские горы б) Уральские горы
в) Кавказские горы г) Воробьевы горы

13. Какая из перечисленных гор находится в России и является высочайшей вершиной Европы?

- а) Эльбрус б) Эверест
в) Мак-Кинли г) Килиманджаро

14. Моря какого океана не омывают берега России?

- а) Индийского б) Тихого
в) Северного Ледовитого г) Атлантического

15. Какая из перечисленных рек находится в России и является самой длинной в Европе?

- а) Енисей б) Лена в) Нева г) Волга

16. В России находится самое глубокое озеро мира. Как оно называется?

- а) озеро Ильмень б) Ладожское озеро
в) озеро Байкал г) Онежское озеро

17. Полезные ископаемые – это...

- а) все минералы и горные породы, из которых состоит Земля.
б) минералы и горные породы, которые используют люди
в) полезные вещества, которые получают из горных пород и минералов.

18. Наиболее обширная природная зона России — это ...

- а) степь б) тундра в) пустыня г) тайга

19. Этот самый большой остров планеты, целиком покрыт льдами. Его коренные жители, эскимосы, занимаются охотой и рыболовством.

- а) Сахалин б) Гренландия в) Гавайи

20. Что такое карта полушарий?

- а) карта, на которой дано изображение какой-то территории.
б) карта, на которой изображены две половинки земного шара.
в) карта, на которой изображена Земля.

Часть II.

Разделите приведённые ниже слова на две группы: объекты природы и явления природы.

За каждый правильный ответ начисляется 1 балл.

бактерии	гроза	ледоход	озеро
ветер	землетрясение	листопад	половодье
воздух	камнепад	минералы	дерево
вулкан	родник	облако	спячка

Объекты природы	Явления природы
бактерии 1	ветер 1
вулкан 1	гроза 1
родник 1	землетрясение 1
минералы 1	камнепад 1
облако 1	листопад 1
озеро 1	половодье 1
дерево 1	ледоход 1
спячка -	воздух -

14

14

БЛАНК ОТВЕТОВ

4-6 класс

268.

Вопрос	Ответ
1	В -
2	Д 2
3	В 2
4	2 2
5	а -
6	а -
7	Д 2
8	В 2
9	а -
10	а 2
11	2 2
12	В -
13	Д 2
14	В 2
15	Д -
16	В -
17	В 2
18	В 2
19	Д 2
20	В 2

Текст

Генералова Е. А.
Фурманова В. В.

БЛАНК ОТВЕТОВ

4-6 класс

268.

Вопрос	Ответ	
1	a	2
2	д	2
3	В	2
4	a	-
5	а В	2
6	a	-
7	В	-
8	Ва	-
9	a	-
10	a	2
11	a	-
12	Ва	2
13	В	-
14	В	2
15	а	2
16	а	2
17	В	2
18	В	2
19	В	2
20	В	2

Тем

ВВ

Декоратива Е. А.
Фуртатова В. В.

БЛАНК ОТВЕТОВ

4-6 класс

288.

Вопрос	Ответ
1	a 2
2	√ 2
3	b 2
4	2 2
5	2 -
6	√ 2
7	f -
8	b 2
9	a -
10	√ -
11	a -
12	a 2
13	√ 2
14	b 2
15	b -
16	a 2
17	b 2
18	b 2
19	√ 2
20	b 2

Темр

ВМ

Декримова Е. Н.

Фуртатова В. В.

БЛАНК ОТВЕТОВ

4-6 класс

348.

Вопрос	Ответ	
1	а	2
2	б	2
3	в	2
4	в	—
5	б	2
6	б	2
7	б	2
8	а	—
9	а	2
10	а	2
11	а	—
12	а	2
13	б	2
14	б	2
15	а	2
16	а	2
17	в	2
18	в	2
19	б	2
20	в	2

Дем
ВМ

Теперякова Е. А.
Фурманова В. В.

БЛАНК ОТВЕТОВ

4-6 класс

348.

Вопрос	Ответ	
1	a	2
2	с	2
3	в	2
4	z	2
5	в	2
6	a	-
7	с	2
8	в	2
9	с	2
10	a	2
11	z	2
12	в	-
13	с	2
14	в	2
15	с	-
16	a	2
17	в	2
18	в	2
19	с	2
20	в	2

Белл

10/11

Денисова Е. Н.
Фурманова В. В.

БЛАНК ОТВЕТОВ

4-6 класс

305.

Вопрос	Ответ
1	a 2
2	b 2
3	b 2
4	z 2
5	fab 2
6	o 2
7	fab -
8	bb 2
9	bo 2
10	o -
11	a -
12	b -
13	o 2
14	b 2
15	a 2
16	a 2
17	b 2
18	b 2
19	a -
20	b 2

Тем
 Генералова Е. А.
 Пуртатова В. В.

БЛАНК ОТВЕТОВ

4-6 класс

285

Вопрос	Ответ
1	б. —
2	б. 2
3	б. 2
4	б. 2
5	а. —
6	б. 2
7	б. 2
8	а. —
9	б. 2
10	а. 2
11	а. —
12	б. —
13	б. 2
14	б. б. 2
15	б. —
16	а. 2
17	б. 2
18	б. 2
19	б. 2
20	б. 2

Тепл.
ВР

Теприлова С. А.
Фурманова В. В.

БЛАНК ОТВЕТОВ

4-6 класс

265

Вопрос	Ответ
1	В -
2	Д 2
3	Б -
4	Б 2
5	В 2
6	А -
7	Б 2
8	А -
9	Д 2
10	З -
11	А -
12	А 2
13	Б 2
14	В 2
15	А 2
16	А 2
17	Б -
18	В 2
19	Д 2
20	В 2

Тема: *Генералова Е. А.*
Фурманова В. В.

БЛАНК ОТВЕТОВ

4-6 класс

328.

Вопрос	Ответ
1	a 2
2	a 2
3	b 2
4	b 2
5	b 2
6	b 2
7	b -
8	b 2
9	a 2
10	a 2
11	b -
12	a 2
13	a b 2
14	b 2
15	a 2
16	b -
17	b 2
18	a -
19	b a 2
20	b 2

Директор
 Федорова Е.А.
 Фуртомова В.В.

БЛАНК ОТВЕТОВ

4-6 класс

288.

Вопрос	Ответ
1	а) 2
2	б) 2
3	в) г) —
4	в) 2
5	а) б) 2
6	б) 2
7	б) —
8	б) 2
9	а) —
10	а) 2
11	в) 2
12	б) —
13	б) 2
14	б) 2
15	г) —
16	а) 2
17	б) 2
18	б) 2
19	б) —
20	б) 2

Демур

Демурова Е. А.
Артамонов Р. В.

БЛАНК ОТВЕТОВ

4-6 класс

348.

Вопрос	Ответ
1	a 2
2	б 2
3	в 2
4	г 2
5	б 2
6	а -
7	б 2
8	в 2
9	б 2
10	а 2
11	г 2
12	в -
13	б 2
14	б 2
15	б -
16	а 2
17	б 2
18	б 2
19	б 2
20	б 2

Тем 192

Темрюкова Е. А.
Фадеева М. М.

БЛАНК ОТВЕТОВ

4-6 класс

285.

Вопрос	Ответ
1	a 2
2	d 2
3	b 2
4	a -
5	a b 2
6	a 2
7	b -
8	b 2
9	d 2
10	a 2
11	-d -
12	b -
13	b -
14	b 2
15	b b -
16	a 2
17	b 2
18	b 2
19	a c 2
20	a b 2

Без...

Депрарова Е. А.
Дутимова ВМ