

ВСЕРОССИЙСКАЯ ОЛИМПИАДА ШКОЛЬНИКОВ 2023–2024 гг. I (ШКОЛЬНЫЙ) ЭТАП.

Время выполнения работы – 60 минут

Максимальный балл – 100

Задание №1. Выберите несколько правильных ответов. (Всего 10 баллов, по 5 баллов за каждый полный правильный ответ, 1 ошибка – 3 балла, в любом другом случае – 0 баллов).**1.1. Какие признаки свидетельствуют от том, что страна Z является традиционным обществом.**

- 1) Натуральное хозяйство
- 2) Сословное деление общества
- 3) Широкое распространение научных знаний
- 4) Преобладание ручных орудий труда
- 5) Внедрение цифровых технологий

1.2. Выберите в приведенном списке положения, характеризующие социально-экономические права (свободы) гражданина Российской Федерации, закрепленные в Конституции нашей страны.

- 1) Каждый имеет право на отдых
- 2) Граждане Российской Федерации имеют право участвовать в управлении делами государства как непосредственно, так и через своих представителей.
- 3) Каждый имеет право свободно распоряжаться своими способностями к труду, выбирать род деятельности и профессию.
- 4) Каждый вправе иметь имущество в собственности, владеть, пользоваться и распоряжаться им как единолично, так и совместно с другими лицами.
- 5) Граждане Российской Федерации имеют равный доступ к государственной службе.

Задание № 2. По какому принципу образованы ряды, дайте краткое обоснование, определите лишнее понятие. Всего 10 баллов, по балла 3 за каждый правильно указанный принцип и по 2 балла за правильно указанное лишнее понятие.**2.1. Банкноты, банковский чек, пластиковая карта, акция****2.2. материальные средства акции полезные ископаемые
Труд, досуг, учёба, игра
Основные сферы деятельности человека****Задание №3. Согласитесь или опровергните следующие утверждения. (Ответить «ДА» или «НЕТ», за каждый правильный ответ - 1 балл, всего - 10 баллов).**

№

УТВЕРЖДЕНИЕ

- 1) Российский закон защищает и охраняет леса, животных, водные ресурсы и богатства недр
- 2) Нарушение норм морали, в отличие от законов, не несёт для человека негативных последствий
- 3) Магазины, продающие товары со скидкой, стремятся таким образом увеличить свою прибыль
- 4) У России есть сухопутная граница с такими европейскими странами как Норвегия и Польша
- 5) Родной дядя родного дяди может приходиться вам родным дедом
- 6) Поднятие флага олимпийских игр можно назвать церемонией
- 7) Оплата доставки еды курьером – это оплата услуги, а не товара
- 8) Буддизм – самая молодая из мировых религий
- 9) Одна из задач уголовного наказания – предотвратить совершение преступлений в будущем
- 10) Запрещающие положения законов можно назвать табу

1	2	3	4	5	6	7	8	9	10
ДА	нет	ДА	ДА	нет	ДА	ДА	нет	ДА	ДА

Задание №4. Соотнесите социальные факты и сферы общественной жизни, к которым они относятся: к каждому элементу, данному в первом столбце, подберите элемент из второго столбца (10 баллов, одна ошибка 6 баллов, в любом другом случае 1 балл).**ФАКТЫ****СФЕРЫ ОБЩЕСТВЕННОЙ ЖИЗНИ**

- | | |
|--|------------------|
| 1) Строительство Приморского автомобильного кольца | 1) Экономическая |
| 2) Выборы депутатов Государственной Думы | 2) Социальная |
| 3) Повышение пенсий | 3) Политическая |

- 4) Премьера пьесы в театре
 5) Покупка дачи
 6) Митинг в защиту животных
 7) Открытие художественной галереи
 8) Расширение сети поликлиник
 9) Принятие закона Об образовании

4) Духовная

1	2	3	4	5	6	7	8	9

Задание №5. Решите задачи (всего 28 баллов).

5.1. Логическая задача. 8 баллов (2 балла за правильный ответ, 6 баллов за обоснование).

Курс китайского юаня на бирже 1 сентября 2023 года составлял 13 рублей. Если курс в течение сентября ежедневно будет изменяться ровно на один рубль в большую или меньшую сторону, сможет ли юань 1 октября 2023 года стоить 30 рублей? Дайте правильный ответ и приведите его обоснование.

5.2. Экономическая задача. 10 баллов (2 балла за правильный ответ, 8 баллов за обоснование).

Курс китайского юаня на бирже 1 сентября 2023 года составлял 13 рублей за 1 юань, а курс бразильского реала – 20 рублей. К концу месяца курс юаня составил 15 рублей, а курс бразильского реала – 23 рубля. У царя Креза есть 260 тыс. рублей. В какую из двух валют ему стоило вложить деньги 1 сентября, чтобы получить максимальную прибыль?

5.3. Правовая задача. Всего 10 баллов.

Фемида Урановна утром вышла на работу и обнаружила, что забыла дома необходимую для исполнения служебных обязанностей повязку на глаза. Чтобы не таскать туда-сюда тяжёлые весы и меч, она оставила их у двери подъезда и поднялась наверх, а когда вернулась, весы и меч исчезли.

- Грабёж! - воскликнула Фемида Урановна и схватилась за сердце.

Проходивший мимо Аид Кронович решил ей помочь:

- Не волнуйтесь! Сейчас мы напишем заявление о грабеже в Прокуратуру, там быстро разберутся и вернут Вам вещи, - утешил старушку Аид Кронович.

Вопросы.

А) Определите ошибку, которую допустила Фемида Урановна. Как должно звучать правильное утверждение? Кратко поясните свой ответ (по 2 балла за указанную ошибку, 3 балла за пояснение).

Б) Определите ошибку, которую допустил Аид Кронович. Как должно звучать правильное утверждение? Кратко поясните свой ответ (по 2 балла за указанную ошибку, 3 балла за пояснение).

Задание №6. Заполните пропуски в тексте, выбрав слова из предложенного списка. Обратите внимание: слова в списке даны в именительном падеже и единственном числе. Ответ запишите в таблицу в виде последовательности цифр (всего 12 баллов, по 2 балла за каждое правильно вставленное слово).

«Инициатива (А) всегда присутствовало в человеческой деятельности. Теперь его зачастую обозначают иностранным словом «креатив». Современная инновационная технология (Б) приводится в действие человеческой креативностью. Свобода мысли (В) - составляющая свободы творчества. Больше свободы предпринимательства – больше в конечном счете и спрос на _____ (Г) и на и те интеллектуальные продукты, которые используются при их создании. Свобода предпринимательства гарантируется верховенством закона; независимый и компетентный _____ (Д), обеспечение безопасности бизнеса от _____ (Е) и другие.

СЛОВА ДЛЯ ЗАПОЛНЕНИЯ ПРОПУСКОВ

- | | | | |
|--------------------|---------------|--------------|-------------------------|
| 1. суд | 4. творчество | 7. экономика | 10. предпринимательство |
| 2. образование | 5. президент | 8. инновации | 11. производство |
| 3. Совет Федерации | 6. коррупции | 9. коррупция | 12. меры |

А	Б	В	Г	Д	Е
4	7	12	8	1	6


Задание №7. Рассмотрите изображения представителей разных профессий и выполните задания. Всего 12 баллов.



1



2



3



4



5




6



7



8



9

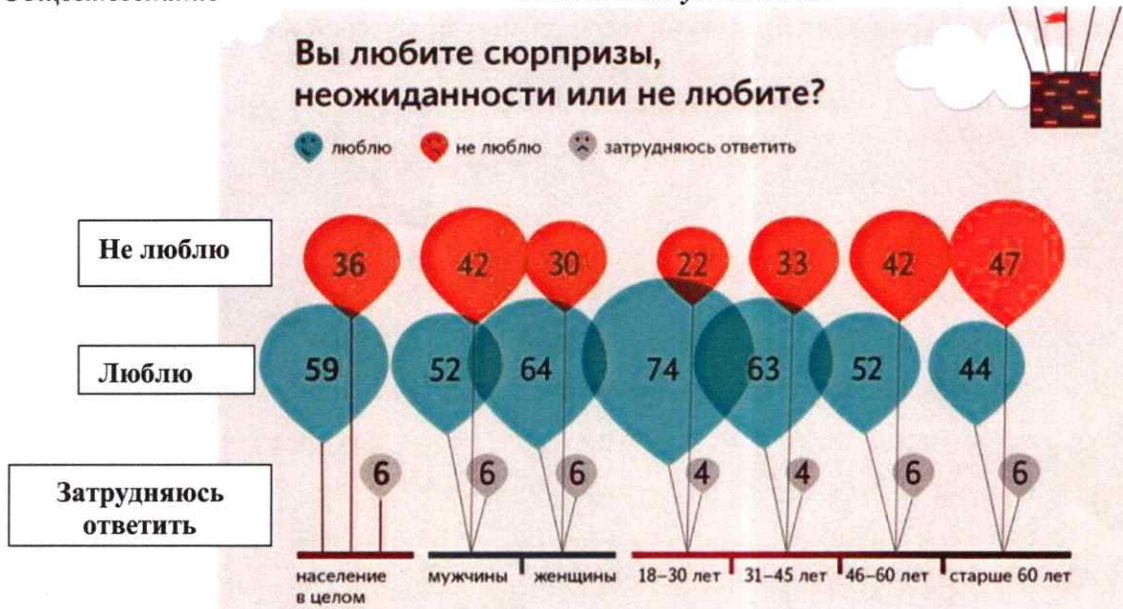
7.1. Распределите иллюстрации по группам, впишите в схему названия групп и впишите в соответствующие ячейки цифровые обозначения иллюстраций, которые относятся к названным Вами группам (по 2 балла ТОЛЬКО за каждую группу правильно распределенных иллюстраций, по 1 баллу за каждую правильно названную группу).

	Группа 1	Группа 2	Группа 3
Название	Одатуривание	Сельское хозяйство	Металлургическая
№№ иллюстраций	9, 5, 1.	2, 6, 7.	


7.2. Объясните, на каком основании вы разделили изображения именно так (3 балла):

Я ~~разделил~~ рассуждала исходя из изображений и профессий на них, а так еще опираясь на личный опыт знания.

Задание №8. Ознакомьтесь с инфографикой и выберите суждения, которые можно сделать на основании представленной информации и запишите цифры, под которыми они указаны. Всего - 8 баллов, 1 ошибка – 3 балла, в любом другом случае – 0 баллов.



По вашим ощущениям, вы удивляетесь часто, редко или практически никогда не удивляетесь?



1. Больше половины опрошенных во всех категориях населения любят сюрпризы.
- ✓ 2. В инфографике представлены результаты исключительно по совершеннолетним категориям населения.
- ✗ 3. По собственным ощущениям, люди старше 60 лет удивляются чаще, чем население в целом.
- ✓ 4. Больше трети мужчин не любит сюрпризы.
- ✗ 5. Люди в возрасте от 18 до 45 в меньшей степени, чем население в целом, любят сюрпризы.
- ✗ 6. Количество участников опроса, которые, по собственным ощущениям, удивляются часто и практически никогда не удивляются, в совокупности составляет более одной трети всех опрошенных.

ОТВЕТЫ ПЕРЕНЕСИТЕ В БЛАНК ОТВЕТОВ!!!

ВСЕРОССИЙСКАЯ ОЛИМПИАДА ШКОЛЬНИКОВ 2023–2024 гг. I (ШКОЛЬНЫЙ) ЭТАП.

№ задания	1	2	3	4	5	6	7	8	Всего
Мак балл	10	10	10	10	28	12	12	8	100
Баллы участника	8	10	9	0	10	6	0	8	53

Подписи членов жюри: _____

Задание №1.

1.1	1.2
124 55	1345 3

Задание № 2.

- 2.1. Акция, материальное средства оплаты, популяризация в школе
- 2.2. Досуг, основные сферы деятельности школьника

Задание №3.

1	2	3	4	5	6	7	8	9	10
ДА	нет	ДА	ДА	нет	ДА	ДА	нет	ДА	ДА
1	1	1	1	1	1	1	1	1	1

Задание №4.

1	2	3	4	5	6	7	8	9
2	3	1	4	2	2	4	4	2

Задание №5.

5.1. Да, сможет, но только в том случае, если дней с прибавлением будет > 2, если с уменьшением. (30:2 = 15, если дней с прибавлением больше на 3, то 17 прод. 13 уд. Нет, не сможет т.к. в месяце всего 30 дней (30+13=43) и даже если не будет ни одного дня с прибавлением и уменьшением, то все равно нет.

Фамилия Зоренко ШИФР _____

Имя София

Отчество Сергеевна

Класс 8 "Ю"

Образовательная организация _____

Учитель Павловский Сергей Александрович

5.2.

Ситуацию можно рассмотреть в юриспруденции
 (т.к. $260 \cdot 13 = 20 \cdot 260 \cdot 20 = 13$)
 $+21$ $+8$ 2

5.3.

Решида Чираевна запаникована котом
 могла сразу обратиться в уполномоченный
 о похищении описать ситуацию (также
 города заодно и через систему «Безопасный город»
 возможно было бы проверить камеры)
 Анд Кромович ~~возможно~~ замечении процесс
 возвращение вещей, т.к. Прокуратура так же
~~занимается~~ и с точки зрения вызвать полицию
 # также в Прокуратуре рассмотреть
 дел занимает большое к-во времени,
 а полиция бы сразу начала действовать

Задание №6

А	Б	В	Г	Д	Е
4	7	12	8	4	6
2	2	—	2	2	—

Задание №7. Рассмотрите изображения представителей разных профессий и выполните задания.
 Всего 12 баллов.

7.1.

	Группа 1	Группа 2	Группа 3
Название	Общественные	Семьдесяткоз-во	Метрическая
№№ иллюстраций	9, 5, 4	2, 6, 7	4, 3, 5

7.2.

Мои рассуждения основывались на
 представленных профессиях и личном
 опыте, знаниях.

Задание №8.

Ответ 246 8

ВСЕРОССИЙСКАЯ ОЛИМПИАДА ШКОЛЬНИКОВ 2023–2024 гг. I (ШКОЛЬНЫЙ) ЭТАП.

Время выполнения работы – 60 минут

Максимальный балл – 100

Задание №1. Выберите несколько правильных ответов. (Всего 10 баллов, по 5 баллов за каждый полный правильный ответ, 1 ошибка – 3 балла, в любом другом случае – 0 баллов).**1.1. Какие признаки свидетельствуют от том, что страна Z является традиционным обществом.**

- 1) Натуральное хозяйство
- 2) Сословное деление общества
- 3) Широкое распространение научных знаний
- 4) Преобладание ручных орудий труда
- 5) Внедрение цифровых технологий

1.2. Выберите в приведенном списке положения, характеризующие социально-экономические права (свободы) гражданина Российской Федерации, закрепленные в Конституции нашей страны.

- 1) Каждый имеет право на отдых
- 2) Граждане Российской Федерации имеют право участвовать в управлении делами государства как непосредственно, так и через своих представителей.
- 3) Каждый имеет право свободно распоряжаться своими способностями к труду, выбирать род деятельности и профессию.
- 4) Каждый вправе иметь имущество в собственности, владеть, пользоваться и распоряжаться им как единолично, так и совместно с другими лицами.
- 5) Граждане Российской Федерации имеют равный доступ к государственной службе.

Задание № 2. По какому принципу образованы ряды, дайте краткое обоснование, определите лишнее понятие. Всего 10 баллов, по балла 3 за каждый правильно указанный принцип и по 2 балла за правильно указанное лишнее понятие.**2.1. Банкноты, банковский чек, пластиковая карта, ~~акция~~**Все, что связано с финансами**2.2. Труд, досуг, учёба, игра**Виды деятельности**Задание №3. Согласитесь или опровергните следующие утверждения. (Ответить «ДА» или «НЕТ», за каждый правильный ответ - 1 балл, всего - 10 баллов).**

№

УТВЕРЖДЕНИЕ

- 1) Российский закон защищает и охраняет леса, животных, водные ресурсы и богатства недр
- 2) Нарушение норм морали, в отличие от законов, не несёт для человека негативных последствий
- 3) Магазины, продающие товары со скидкой, стремятся таким образом увеличить свою прибыль
- 4) У России есть сухопутная граница с такими европейскими странами как Норвегия и Польша
- 5) Родной дядя родного дяди может приходиться вам родным дедом
- 6) Поднятие флага олимпийских игр можно назвать церемонией
- 7) Оплата доставки еды курьером – это оплата услуги, а не товара
- 8) Буддизм – самая молодая из мировых религий
- 9) Одна из задач уголовного наказания – предотвратить совершение преступлений в будущем
- 10) Запрещающие положения законов можно назвать табу

1	2	3	4	5	6	7	8	9	10
ДА	НЕТ	ДА	ДА	НЕТ	ДА	ДА	НЕТ	ДА	ДА

Задание №4. Соотнесите социальные факты и сферы общественной жизни, к которым они относятся: к каждому элементу, данному в первом столбце, подберите элемент из второго столбца (10 баллов, одна ошибка 6 баллов, в любом другом случае 1 балл).**ФАКТЫ**

- 1) Строительство Приморского автомобильного кольца
- 2) Выборы депутатов Государственной Думы
- 3) Повышение пенсий

СФЕРЫ ОБЩЕСТВЕННОЙ ЖИЗНИ

- 1) Экономическая
- 2) Социальная
- 3) Политическая

- 4) Премьера пьесы в театре
 5) Покупка дачи
 6) Митинг в защиту животных
 7) Открытие художественной галереи
 8) Расширение сети поликлиник
 9) Принятие закона Об образовании
- 4) Духовная

1	2	3	4	5	6	7	8	9
2	3	7	4	1	2	4	2	3

Задание №5. Решите задачи (всего 28 баллов).

5.1. Логическая задача. 8 баллов (2 балла за правильный ответ, 6 баллов за обоснование).

Курс китайского юаня на бирже 1 сентября 2023 года составлял 13 рублей. Если курс в течение сентября ежедневно будет изменяться ровно на один рубль в большую или меньшую сторону, сможет ли юань 1 октября 2023 года стоить 30 рублей? Дайте правильный ответ и приведите его обоснование.

5.2. Экономическая задача. 10 баллов (2 балла за правильный ответ, 8 баллов за обоснование).

Курс китайского юаня на бирже 1 сентября 2023 года составлял 13 рублей за 1 юань, а курс бразильского реала – 20 рублей. К концу месяца курс юаня составил 15 рублей, а курс бразильского реала – 23 рубля. У царя Креза есть 260 тыс. рублей. В какую из двух валют ему стоило вложить деньги 1 сентября, чтобы получить максимальную прибыль?

5.3. Правовая задача. Всего 10 баллов.

Фемида Урановна утром вышла на работу и обнаружила, что забыла дома необходимую для исполнения служебных обязанностей повязку на глаза. Чтобы не таскать туда-сюда тяжёлые весы и меч, она оставила их у двери подъезда и поднялась наверх, а когда вернулась, весы и меч исчезли.

- Грабёж! - воскликнула Фемида Урановна и схватилась за сердце.

Проходивший мимо Аид Кронович решил ей помочь:

- Не волнуйтесь! Сейчас мы напишем заявление о грабеже в Прокуратуру, там быстро разберутся и вернут Вам вещи, - утешил старушку Аид Кронович.

Вопросы.

А) Определите ошибку, которую допустила Фемида Урановна. Как должно звучать правильное утверждение? Кратко поясните свой ответ (по 2 балла за указанную ошибку, 3 балла за пояснение).

Б) Определите ошибку, которую допустил Аид Кронович. Как должно звучать правильное утверждение? Кратко поясните свой ответ (по 2 балла за указанную ошибку, 3 балла за пояснение).

Задание №6. Заполните пропуски в тексте, выбрав слова из предложенного списка. Обратите внимание: слова в списке даны в именительном падеже и единственном числе. Ответ запишите в таблицу в виде последовательности цифр (всего 12 баллов, по 2 балла за каждое правильно вставленное слово).

« _____ (А) всегда присутствовало в человеческой деятельности. Теперь его зачастую обозначают иностранным словом «креатив». Современная инновационная _____ (Б) приводится в действие человеческой креативностью. Свобода _____ (В) - составляющая свободы творчества. Больше свободы предпринимательства – больше в конечном счете и спрос на _____ (Г) и на и те интеллектуальные продукты, которые используются при их создании. Свобода предпринимательства гарантируется верховенством закона; независимый и компетентный _____ (Д), обеспечение безопасности бизнеса от _____ (Е) и другие.

СЛОВА ДЛЯ ЗАПОЛНЕНИЯ ПРОПУСКОВ

- | | | | |
|--------------------|---------------|--------------|-------------------------|
| 1. суд | 4. творчество | 7. экономика | 10. предпринимательство |
| 2. образование | 5. президент | 8. инновации | 11. производство |
| 3. Совет Федерации | 6. коррупции | 9. коррупция | 12. меры |

А	Б	В	Г	Д	Е
4	4	8	11	3	6


Задание №7. Рассмотрите изображения представителей разных профессий и выполните задания. **Всего 12 баллов.**



1



2



3



4



5



6



7



8



9

7.1. Распределите иллюстрации по группам, впишите в схему названия групп и впишите в соответствующие ячейки цифровые обозначения иллюстраций, которые относятся к названным Вами группам (по 2 балла ТОЛЬКО за каждую группу правильно распределенных иллюстраций, по 1 баллу за каждую правильно названную группу).

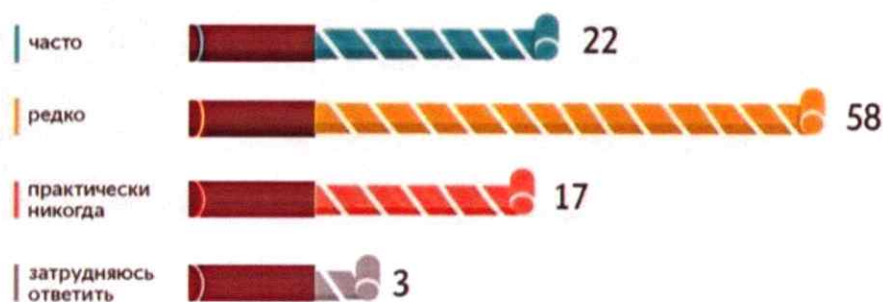
	Группа 1	Группа 2	Группа 3
Название			
№№ иллюстраций			

7.2. Объясните, на каком основании вы разделили изображения именно так (3 балла):

Задание №8. Ознакомьтесь с инфографикой и выберите суждения, которые можно сделать на основании представленной информации и запишите цифры, под которыми они указаны. **Всего - 8 баллов, 1 ошибка – 3 балла, в любом другом случае – 0 баллов.**



По вашим ощущениям, вы удивляетесь часто, редко или практически никогда не удивляетесь?



1. Больше половины опрошенных во всех категориях населения любят сюрпризы.
2. В инфографике представлены результаты исключительно по совершеннолетним категориям населения.
3. По собственным ощущениям, люди старше 60 лет удивляются чаще, чем население в целом.
4. Больше трети мужчин не любит сюрпризы.
5. Люди в возрасте от 18 до 45 в меньшей степени, чем население в целом, любят сюрпризы.
6. Количество участников опроса, которые, по собственным ощущениям, удивляются часто и практически никогда не удивляются, в совокупности составляет более одной трети всех опрошенных.

ОТВЕТЫ ПЕРЕНЕСИТЕ В БЛАНК ОТВЕТОВ!!!

ВСЕРОССИЙСКАЯ ОЛИМПИАДА ШКОЛЬНИКОВ 2023–2024 гг. I (ШКОЛЬНЫЙ) ЭТАП.

№ задания	1	2	3	4	5	6	7	8	Всего
Мак балл	10	10	10	10	28	12	12	8	100
Баллы участника	3	10	9	7	18	4	7	0	

Подписи членов жюри: _____

Задание №1.

1.1	1.2
1,3 0	3,4 3

Задание № 2.

- 2.1. скумя - лишнее слово
 Все остальные связаны с опатой 5
- 2.2. доку - лишнее слово
 Все остальные: вид деятельности человека 5

Задание №3.

1	2	3	4	5	6	7	8	9	10
да +	нет +	да +	да +	нет +	да +	да +	нет +	да +	да -

Задание №4.

1	2	3	4	5	6	7	8	9
2 -	3 +	1 -	4 +	1 +	2 -	4 +	2 +	3 +

Задание №5.

- 5.1.
 Да, только если каждый ^{5 дней} день в маленьком сентябре (30 дней) 2 рубль копей будет прибавляться на 4 рубля и ~~отниматься~~ на 1 рубль.
 Нет, т.к. равно 30 рублей у нас не получится, потому что если каждый ^{4 дня} день копей будет прибавляться, ~~то~~ на $13 + (4 \cdot 6) + (1 \cdot 6) = 37$ руб. ~~идет~~ рубль каждые 3 дня, а на 4 дня отнимается на один, в ином случае мы получили
 Ответ: да 29 рублей. а если каждые 5 дней ~~копей~~ будет прибавляться на 4 руб. каждые 4 дня, а на 5 дней отнимается на 1, тогда мы получили 31 рубль.
 Ответ: нет. 6

Фамилия Леуцено ШИФР _____

Имя Матвей

Отчество Александрович

Класс 8 "м"

Образовательная организация МАОУ лицей 35

Учитель Сборнова Людмила Андреевна

5.2.

В юанях, м.к. Если бы он взял и потратил всё в юанях, он бы получил 20000 юаней, и в конце он бы получил 30000 руб.
 а если бы он потратил всё в рублях, то он бы получил 13000 рублей и в конце месяца он бы получил 200000 руб.

$300000 > 200000 \Rightarrow$ юаня принесут макс. прибыль

Ответ: юаня.

8

5.3.

Фелица Ивановна назвала преступление грабёж, а преступление звались воровством.
 Анд. Крайнев допустил такую ошибку, что и Фелица, + он нужно обратиться в полицейский участок, а не в прокуратуру.

27

2

7

Задание №6

А	Б	В	Г	Д	Е
4	4	8	11	3	6

7

Задание №7. Рассмотрите изображения представителей разных профессий и выполните задания. Всего 12 баллов.

7.1.

	Группа 1	Группа 2	Группа 3
Название	продажа продовольственных товаров	сфера услуг	Работа с электроприборами и техникой
№№ иллюстраций	267	159	348

7

7.2. Потому что в 1 группе идет получение товаров, которые потом покупают люди в магазинах, на рынке.
 Во второй группе происходят разные услуги для человека, как например доставка кофе или подписание банк.
 В 3 группе показывают работу с разнообразными приборами, станками.

Задание №8.

Ответ 17

17

ВСЕРОССИЙСКАЯ ОЛИМПИАДА ШКОЛЬНИКОВ 2023–2024 гг. I (ШКОЛЬНЫЙ) ЭТАП.

Время выполнения работы – 60 минут

Максимальный балл – 100

Задание №1. Выберите несколько правильных ответов. (Всего 10 баллов, по 5 баллов за каждый полный правильный ответ, 1 ошибка – 3 балла, в любом другом случае – 0 баллов).**1.1. Какие признаки свидетельствуют от том, что страна Z является традиционным обществом.**

- 1) Натуральное хозяйство
- 2) Сословное деление общества
- 3) Широкое распространение научных знаний
- 4) Преобладание ручных орудий труда
- 5) Внедрение цифровых технологий

1.2. Выберите в приведенном списке положения, характеризующие социально-экономические права (свободы) гражданина Российской Федерации, закрепленные в Конституции нашей страны.

- 1) Каждый имеет право на отдых
- 2) Граждане Российской Федерации имеют право участвовать в управлении делами государства как непосредственно, так и через своих представителей.
- 3) Каждый имеет право свободно распоряжаться своими способностями к труду, выбирать род деятельности и профессию.
- 4) Каждый вправе иметь имущество в собственности, владеть, пользоваться и распоряжаться им как единолично, так и совместно с другими лицами.
- 5) Граждане Российской Федерации имеют равный доступ к государственной службе.

Задание № 2. По какому принципу образованы ряды, дайте краткое обоснование, определите лишнее понятие. Всего 10 баллов, по балла 3 за каждый правильно указанный принцип и по 2 балла за правильно указанное лишнее понятие.**2.1. Банкноты, банковский чек, пластиковая карта, акция**Вещь не связан с деньгами, лишнее – акция**2.2. Труд, досуг, учёба, игра**Соч. Развитие человека, лишнее – досуг**Задание №3. Согласитесь или опровергните следующие утверждения. (Ответить «ДА» или «НЕТ», за каждый правильный ответ - 1 балл, всего - 10 баллов).**

№

УТВЕРЖДЕНИЕ

- 1) Российский закон защищает и охраняет леса, животных, водные ресурсы и богатства недр
- 2) Нарушение норм морали, в отличие от законов, не несёт для человека негативных последствий
- 3) Магазины, продающие товары со скидкой, стремятся таким образом увеличить свою прибыль
- 4) У России есть сухопутная граница с такими европейскими странами как Норвегия и Польша
- 5) Родной дядя родного дяди может приходиться вам родным дедом
- 6) Поднятие флага олимпийских игр можно назвать церемонией
- 7) Оплата доставки еды курьером – это оплата услуги, а не товара
- 8) Буддизм – самая молодая из мировых религий
- 9) Одна из задач уголовного наказания – предотвратить совершение преступлений в будущем
- 10) Запрещающие положения законов можно назвать табу

1	2	3	4	5	6	7	8	9	10
ДА	НЕТ	ДА	НЕТ	НЕТ	ДА	ДА	НЕТ	ДА	ДА

Задание №4. Соотнесите социальные факты и сферы общественной жизни, к которым они относятся: к каждому элементу, данному в первом столбце, подберите элемент из второго столбца (10 баллов, одна ошибка 6 баллов, в любом другом случае 1 балл).**ФАКТЫ****СФЕРЫ ОБЩЕСТВЕННОЙ
ЖИЗНИ**

- | | |
|---|------------------|
| 1) Строительство Приморского автомобильного кольца ¹ | 1) Экономическая |
| 2) Выборы депутатов Государственной Думы ² | 2) Социальная |
| 3) Повышение пенсий ³ | 3) Политическая |

- 4) Премьера пьесы в театре *4*
- 5) Покупка дачи *1*
- 6) Митинг в защиту животных *2*
- 7) Открытие художественной галереи *4*
- 8) Расширение сети поликлиник *2*
- 9) Принятие закона Об образовании *3*

1	2	3	4	5	6	7	8	9

Задание №5. Решите задачи (всего 28 баллов).

5.1. Логическая задача. 8 баллов (2 балла за правильный ответ, 6 баллов за обоснование).

Курс китайского юаня на бирже 1 сентября 2023 года составлял 13 рублей. Если курс в течение сентября ежедневно будет изменяться ровно на один рубль в большую или меньшую сторону, сможет ли юань 1 октября 2023 года стоить 30 рублей? Дайте правильный ответ и приведите его обоснование. *нет*

5.2. Экономическая задача. 10 баллов (2 балла за правильный ответ, 8 баллов за обоснование).

Курс китайского юаня на бирже 1 сентября 2023 года составлял 13 рублей за 1 юань, а курс бразильского реала – 20 рублей. К концу месяца курс юаня составил 15 рублей, а курс бразильского реала – 23 рубля. У царя Креза есть 260 тыс. рублей. В какую из двух валют ему стоило вложить деньги 1 сентября, чтобы получить максимальную прибыль? *браз. реал*

5.3. Правовая задача. Всего 10 баллов.

Фемида Урановна утром вышла на работу и обнаружила, что забыла дома необходимую для исполнения служебных обязанностей повязку на глаза. Чтобы не таскать туда-сюда тяжёлые весы и меч, она оставила их у двери подъезда и поднялась наверх, а когда вернулась, весы и меч исчезли.

- Грабёж! - воскликнула Фемида Урановна и схватилась за сердце.

Проходивший мимо Аид Кронович решил ей помочь:

- Не волнуйтесь! Сейчас мы напишем заявление о грабеже в Прокуратуру, там быстро разберутся и вернут Вам вещи, - утешил старушку Аид Кронович.

Вопросы.

А) Определите ошибку, которую допустила Фемида Урановна. Как должно звучать правильное утверждение? Кратко поясните свой ответ (по 2 балла за указанную ошибку, 3 балла за пояснение).

Б) Определите ошибку, которую допустил Аид Кронович. Как должно звучать правильное утверждение? Кратко поясните свой ответ (по 2 балла за указанную ошибку, 3 балла за пояснение).

Задание №6. Заполните пропуски в тексте, выбрав слова из предложенного списка. Обратите внимание: слова в списке даны в именительном падеже и единственном числе. Ответ запишите в таблицу в виде последовательности цифр (всего 12 баллов, по 2 балла за каждое правильно вставленное слово).

« _____ (А) всегда присутствовало в человеческой деятельности. Теперь его зачастую обозначают иностранным словом «креатив». Современная инновационная _____ (Б) приводится в действие человеческой креативностью. Свобода _____ (В) - составляющая свободы творчества. Больше свободы предпринимательства – больше в конечном счете и спрос на _____ (Г) и на и те интеллектуальные продукты, которые используются при их создании. Свобода предпринимательства гарантируется верховенством закона; независимый и компетентный _____ (Д), обеспечение безопасности бизнеса от _____ (Е) и другие.

СЛОВА ДЛЯ ЗАПОЛНЕНИЯ ПРОПУСКОВ

- 1. суд
- 2. образование
- 3. Совет Федерации
- 4. творчество
- 5. президент
- 6. коррупции
- 7. экономика
- 8. инновации
- 9. коррупция
- 10. предпринимательство
- 11. производство
- 12. меры

А	Б	В	Г	Д	Е
<i>4</i>	<i>2</i>	<i>10</i>	<i>11</i>	<i>3, 5</i>	<i>3</i>


Задание №7. Рассмотрите изображения представителей разных профессий и выполните задания.
Всего 12 баллов.




1



2



3



4



5




6



7



8



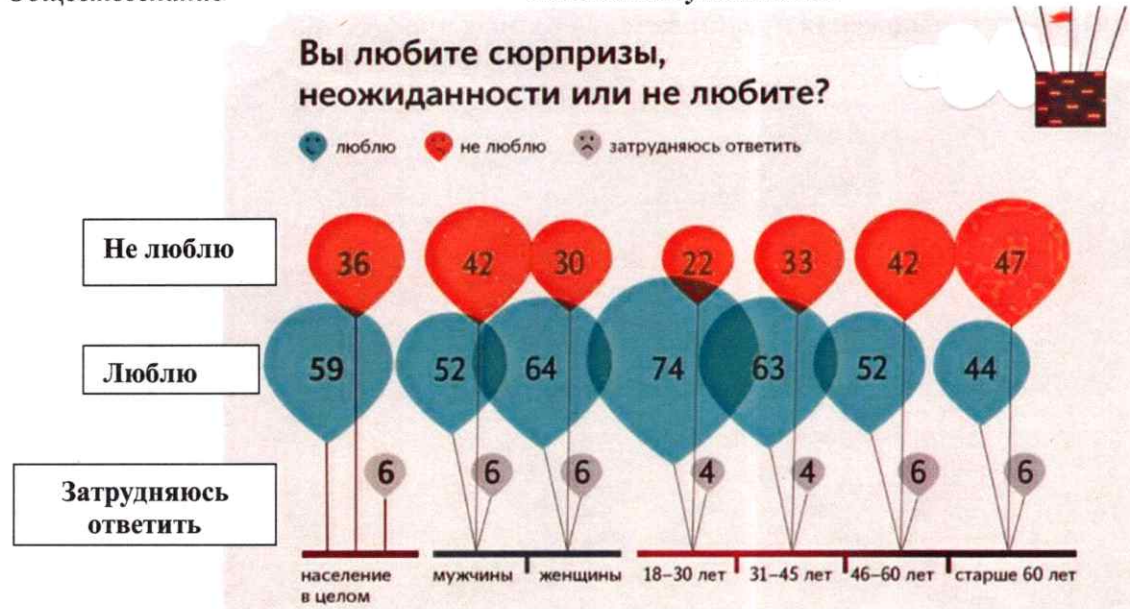
9

7.1. Распределите иллюстрации по группам, впишите в схему названия групп и впишите в соответствующие ячейки цифровые обозначения иллюстраций, которые относятся к названным Вами группам (по 2 балла ТОЛЬКО за каждую группу правильно распределенных иллюстраций, по 1 баллу за каждую правильно названную группу).


	Группа 1	Группа 2	Группа 3
Название	Услуги	Сельско-хоз.	Производство
№№ иллюстраций	9, 1, 5	6, 2, 7	4, 3, 8

7.2. Объясните, на каком основании вы разделили изображения именно так (3 балла):

Задание №8. Ознакомьтесь с инфографикой и выберите суждения, которые можно сделать на основании представленной информации и запишите цифры, под которыми они указаны. **Всего - 8 баллов, 1 ошибка – 3 балла, в любом другом случае – 0 баллов.**



По вашим ощущениям, вы удивляетесь часто, редко или практически никогда не удивляетесь?



1. Больше половины опрошенных во всех категориях населения любят сюрпризы. ✓
2. В инфографике представлены результаты исключительно по совершеннолетним категориям населения. ↙
3. По собственным ощущениям, люди старше 60 лет удивляются чаще, чем население в целом. ✓
4. Больше трети мужчин не любит сюрпризы. ✗
5. Люди в возрасте от 18 до 45 в меньшей степени, чем население в целом, любят сюрпризы. ✗
6. Количество участников опроса, которые, по собственным ощущениям, удивляются часто и практически никогда не удивляются, в совокупности составляет более одной трети всех опрошенных. ✓

ОТВЕТЫ ПЕРЕНЕСИТЕ В БЛАНК ОТВЕТОВ!!!

ВСЕРОССИЙСКАЯ ОЛИМПИАДА ШКОЛЬНИКОВ 2023–2024 гг. I (ШКОЛЬНЫЙ) ЭТАП.

№ задания	1	2	3	4	5	6	7	8	Всего
Мак балл	10	10	10	10	28	12	12	8	100
Баллы участника	6	10	8	6	9	6	6	0	51

Подписи членов жюри: _____

Задание №1.

1.1	1.2
1, 4 38	3, 4, 5 35

Задание №2.

- 2.1. Весь род связан с детьми, мимое - амуш
- 2.2. Весь род связан с родителями (социальными) 10
переводя. Мимое - досуг.

Задание №3.

1	2	3	4	5	6	7	8	9	10
ДА	нет	ДА	нет	нет	ДА	ДА	нет	ДА	ДА

Задание №4.

1	2	3	4	5	6	7	8	9
1	3	3	4	1	2	4	2	3

Задание №5.

- 5.1. Нет. Нет, 100% ~~на~~ шагов, это догадка. 2

Фамилия <u>Охрименко</u>	ШИФР _____
Имя <u>Анастасия</u>	
Отчество <u>Александровна</u>	
Класс <u>8.10</u>	
Образовательная организация <u>МАОУ лицей 35 им. Буглова В.В.</u>	
Учитель <u>Алексеев Е.А.</u>	

5.2.

~~Бразильский реал. Китайский юань.~~
 Бразильский реал. Он будет стоить дороже китайского юаня.

5.3.

А) Воровство 2
 Б) В воровстве в похищено наименьшим значением. 5

Задание №6

А	Б	В	Г	Д	Е
4	7	10	11	5	3
2	2	2			

Задание №7. Рассмотрите изображения представителей разных профессий и выполните задания.
 Всего 12 баллов.

7.1.

	Группа 1	Группа 2	Группа 3
Название	Ученики	Сельско-хоз. просвещения	Машинисты просвещения
№№ иллюстраций	9, 1, 5	6, 2, 7	4, 3, 8

7.2.

Задание №8.

Ответ 1, 6.

ВСЕРОССИЙСКАЯ ОЛИМПИАДА ШКОЛЬНИКОВ 2023–2024 гг. I (ШКОЛЬНЫЙ) ЭТАП.

Время выполнения работы – 60 минут

Максимальный балл – 100

Задание №1. Выберите несколько правильных ответов. (Всего 10 баллов, по 5 баллов за каждый полный правильный ответ, 1 ошибка – 3 балла, в любом другом случае – 0 баллов).**1.1. Какие признаки свидетельствуют от том, что страна Z является традиционным обществом.**

- 1) Натуральное хозяйство
- 2) Сословное деление общества
- 3) Широкое распространение научных знаний
- 4) Преобладание ручных орудий труда
- 5) Внедрение цифровых технологий

1.2. Выберите в приведенном списке положения, характеризующие социально-экономические права (свободы) гражданина Российской Федерации, закрепленные в Конституции нашей страны.

- 1) Каждый имеет право на отдых
- 2) Граждане Российской Федерации имеют право участвовать в управлении делами государства как непосредственно, так и через своих представителей.
- 3) Каждый имеет право свободно распоряжаться своими способностями к труду, выбирать род деятельности и профессию.
- 4) Каждый вправе иметь имущество в собственности, владеть, пользоваться и распоряжаться им как единолично, так и совместно с другими лицами.
- 5) Граждане Российской Федерации имеют равный доступ к государственной службе.

Задание № 2. По какому принципу образованы ряды, дайте краткое обоснование, определите лишнее понятие. Всего 10 баллов, по балла 3 за каждый правильно указанный принцип и по 2 балла за правильно указанное лишнее понятие.**2.1.** Банкноты, банковский чек, пластиковая карта, акция**2.2.** Труд, досуг, учёба, игра*лишнее**Виды деятельности**Увлечения.**Досуг –***Задание №3. Согласитесь или опровергните следующие утверждения. (Ответить «ДА» или «НЕТ», за каждый правильный ответ - 1 балл, всего - 10 баллов).**

№

УТВЕРЖДЕНИЕ

- 1) Российский закон защищает и охраняет леса, животных, водные ресурсы и богатства недр
- 2) Нарушение норм морали, в отличие от законов, не несёт для человека негативных последствий
- 3) Магазины, продающие товары со скидкой, стремятся таким образом увеличить свою прибыль
- 4) У России есть сухопутная граница с такими европейскими странами как Норвегия и Польша
- 5) Родной дядя родного дяди может приходиться вам родным дедом
- 6) Поднятие флага олимпийских игр можно назвать церемонией
- 7) Оплата доставки еды курьером – это оплата услуги, а не товара
- 8) Буддизм – самая молодая из мировых религий
- 9) Одна из задач уголовного наказания – предотвратить совершение преступлений в будущем
- 10) Запрещающие положения законов можно назвать табу

1	2	3	4	5	6	7	8	9	10
<i>ДА</i>			<i>ДА</i>	<i>нет</i>	<i>ДА</i>	<i>ДА</i>	<i>нет</i>	<i>ДА</i>	

Задание №4. Соотнесите социальные факты и сферы общественной жизни, к которым они относятся: к каждому элементу, данному в первом столбце, подберите элемент из второго столбца (10 баллов, одна ошибка 6 баллов, в любом другом случае 1 балл).**ФАКТЫ****СФЕРЫ ОБЩЕСТВЕННОЙ ЖИЗНИ**

- 2) 1) Строительство Приморского автомобильного кольца
- 3) 2) Выборы депутатов Государственной Думы
- 1) 3) Повышение пенсий

- 1) Экономическая
- 2) Социальная
- 3) Политическая

- 4) Премьера пьесы в театре
- 15) Покупка дачи
- 2 6) Митинг в защиту животных
- 4 7) Открытие художественной галереи
- 2 8) Расширение сети поликлиник
- 3 9) Принятие закона Об образовании

4) Духовная
 Курс - 30 рублей
 13 юаней
 39 рублей
 17 юаней
 Считает, если юань 17 руб. 24 руб. курс будет
 1 рубль = 17 юаней

1	2	3	4	5	6	7	8	9
2	3	1	4	1	2	4	2	3

Задание №5. Решите задачи (всего 28 баллов).

Может, если юань 17 руб.

5.1. Логическая задача. 8 баллов (2 балла за правильный ответ, 6 баллов за обоснование).

Курс китайского юаня на бирже 1 сентября 2023 года составлял 13 рублей. Если курс в течение сентября ежедневно будет изменяться ровно на один рубль в большую или меньшую сторону, сможет ли юань 1 октября 2023 года стоить 30 рублей? Дайте правильный ответ и приведите его обоснование.

5.2. Экономическая задача. 10 баллов (2 балла за правильный ответ, 8 баллов за обоснование).

Курс китайского юаня на бирже 1 сентября 2023 года составлял 13 рублей за 1 юань, а курс бразильского реала – 20 рублей. К концу месяца курс юаня составил 15 рублей, а курс бразильского реала – 23 рубля. У царя Креза есть 260 тыс. рублей. В какую из двух валют ему стоило вложить деньги 1 сентября, чтобы получить максимальную прибыль?

$22 \cdot 17 = 374$
 $35 - 8 = 27$
 $28 + 1 = 29$ руб.

5.3. Правовая задача. Всего 10 баллов.

Фемида Урановна утром вышла на работу и обнаружила, что забыла дома необходимую для исполнения служебных обязанностей повязку на глаза. Чтобы не таскать туда-сюда тяжёлые весы и меч, она оставила их у двери подъезда и поднялась наверх, а когда вернулась, весы и меч исчезли.

- Грабёж! - воскликнула Фемида Урановна и схватилась за сердце.

$17 + 18 = 35$
 $35 - 12 = 23$
 $13 \times 19 = 247$
 $247 - 11 = 236$

Проходивший мимо Аид Кронович решил ей помочь:

- Не волнуйтесь! Сейчас мы напишем заявление о грабеже в Прокуратуру, там быстро разберутся и вернут Вам вещи, - утешил старушку Аид Кронович.

$13 + 10 = 23$
 $23 - 10 = 13$
 $13 \times 21 = 273$
 $273 - 9 = 264$

Вопросы.

А) Определите ошибку, которую допустила Фемида Урановна. Как должно звучать правильное утверждение? Кратко поясните свой ответ (по 2 балла за указанную ошибку, 3 балла за пояснение).

$17 + 18 = 35$
 $35 - 8 = 27$

Б) Определите ошибку, которую допустил Аид Кронович. Как должно звучать правильное утверждение? Кратко поясните свой ответ (по 2 балла за указанную ошибку, 3 балла за пояснение).

$36 - 7$

Задание №6. Заполните пропуски в тексте, выбрав слова из предложенного списка. Обратите внимание: слова в списке даны в именительном падеже и единственном числе. Ответ запишите в таблицу в виде последовательности цифр (всего 12 баллов, по 2 балла за каждое правильно вставленное слово).

« _____ (А) всегда присутствовало в человеческой деятельности. Теперь его зачастую обозначают иностранным словом «креатив». Современная инновационная _____ (Б) приводится в действие человеческой креативностью. Свобода _____ (В) - составляющая свободы творчества. Больше свободы предпринимательства – больше в конечном счете и спрос на _____ (Г) и на те интеллектуальные продукты, которые используются при их создании. Свобода предпринимательства гарантируется верховенством закона; независимый и компетентный _____ (Д), обеспечение безопасности бизнеса от _____ (Е) и другие.

СЛОВА ДЛЯ ЗАПОЛНЕНИЯ ПРОПУСКОВ

- | | | | |
|--------------------|---------------|--------------|-------------------------|
| 1. суд | 4. творчество | 7. экономика | 10. предпринимательство |
| 2. образование | 5. президент | 8. инновации | 11. производство |
| 3. Совет Федерации | 6. коррупции | 9. коррупция | 12. меры |

А	Б	В	Г	Д	Е
4	7	10	11	1	9


Задание №7. Рассмотрите изображения представителей разных профессий и выполните задания. Всего 12 баллов.



1



2



3



4



5




6



7



8



9

7.1. Распределите иллюстрации по группам, впишите в схему названия групп и впишите в соответствующие ячейки цифровые обозначения иллюстраций, которые относятся к названным Вами группам (по 2 балла ТОЛЬКО за каждую группу правильно распределенных иллюстраций, по 1 баллу за каждую правильно названную группу).

	Группа 1	Группа 2	Группа 3
Название	Агрария	Специализированные работы	Служба на колесах
№№ иллюстраций	1, 2	3, 4, 5, 8	6, 7, 9


7.2. Объясните, на каком основании вы разделили изображения именно так (3 балла):

А именно это для первой группы не нужны образование (крепеж) вездесущи права для максимума, для второй группы нужны образование - у каждого свое "специальность", а третья группа - труд и работа на колесах, на своем транспорте.

Задание №8. Ознакомьтесь с инфографикой и выберите суждения, которые можно сделать на основании представленной информации и запишите цифры, под которыми они указаны. Всего - 8 баллов, 1 ошибка – 3 балла, в любом другом случае – 0 баллов.



По вашим ощущениям, вы удивляетесь часто, редко или практически никогда не удивляетесь?



1. Больше половины опрошенных во всех категориях населения любит сюрпризы.
2. В инфографике представлены результаты исключительно по совершеннолетним категориям населения.
3. По собственным ощущениям, люди старше 60 лет удивляются чаще, чем население в целом.
4. Больше трети мужчин не любит сюрпризы.
5. Люди в возрасте от 18 до 45 в меньшей степени, чем население в целом, любят сюрпризы.
6. Количество участников опроса, которые, по собственным ощущениям, удивляются часто и практически никогда не удивляются, в совокупности составляет более одной трети всех опрошенных.

ОТВЕТЫ ПЕРЕНЕСИТЕ В БЛАНК ОТВЕТОВ!!!

ВСЕРОССИЙСКАЯ ОЛИМПИАДА ШКОЛЬНИКОВ 2023–2024 гг. I (ШКОЛЬНЫЙ) ЭТАП.

№ задания	1	2	3	4	5	6	7	8	Всего
Мак балл	10	10	10	10	28	12	12	8	100
Баллы участника	6	5	8	1	10	10	2	8	50

Подписи членов жюри: _____

Задание №1.

1.1	1.2
14 3	34 3

Задание № 2.

2.1. Минимал - Батюшковская ^{пословица} карта, м.и. Это - способ платежа.

2.2. Это виды деятельности человека доуг - минимал. 5

Задание №3.

1	2	3	4	5	6	7	8	9	10
ДА+	НЕТ+	НЕТ-	ДА+	НЕТ+	ДА+	ДА+	НЕТ+	ДА+	ДА-

Задание №4.

1	2	3	4	5	6	7	8	9
2-	3+	1-	4+	1+	2-	4+	2+	3+

Задание №5.

5.1. Сколько, если какие был 24 дня курс будет увеличиваться
на 4 рубля, м.и. $13 + 24 - 6 = 31$.

0

Фамилия Капранов ШИФР _____

Имя Дмитрий

Отчество Евгеньевич

Класс 8 М

Образовательная организация МБОУ лицей 35

Учитель Сборнова Ирина Владимировна

5.2.

Лучше деньги вложить в акции, т.к. процент, на который поднимется их стоимость больше у акции, чем у реала ($\approx 15,4\%$ и 15%) \Rightarrow Кред сможет получить ≈ 260 тыс. Больше с юаней, чем с бразильского реала. 8

5.3.

а) Ошибка в слове "убьет", так как вещь была оставлена без присмотра и кто-либо ее мог просто забрать и отнести в участок милиции
 б) Следует обращаться не в "Прокуратуру", а в милицию. 2

Задание №6

А	Б	В	Г	Д	Е
4 +	7 +	10 +	11 -	1 +	9 -
2	2	2		2	2

Задание №7. Рассмотрите изображения представителей разных профессий и выполните задания. Всего 12 баллов.

7.1.

	Группа 1	Группа 2	Группа 3
Название	Профессия	Специалист	Работа на производстве
№№ иллюстраций	1, 9	3, 4, 5, 8,	2, 6, 7. 2

7.2. Потому что для 1 группы не нужно образование (кроме вождения авто для таксиста), для 2 группы нужно образование и специализация, группа - работа на производстве.

Задание №8.

Ответ 2456

8

ВСЕРОССИЙСКАЯ ОЛИМПИАДА ШКОЛЬНИКОВ 2023–2024 гг. I (ШКОЛЬНЫЙ) ЭТАП.

Время выполнения работы – 60 минут

Максимальный балл – 100

Задание №1. Выберите несколько правильных ответов. (Всего 10 баллов, по 5 баллов за каждый полный правильный ответ, 1 ошибка – 3 балла, в любом другом случае – 0 баллов).**1.1. Какие признаки свидетельствуют от том, что страна Z является традиционным обществом.**

- ① Натуральное хозяйство
- 2) Сословное деление общества
- ③ Широкое распространение научных знаний
- 4) Преобладание ручных орудий труда
- ⑤ Внедрение цифровых технологий

1.2. Выберите в приведенном списке положения, характеризующие социально-экономические права (свободы) гражданина Российской Федерации, закрепленные в Конституции нашей страны.

- ① Каждый имеет право на отдых
- 2) Граждане Российской Федерации имеют право участвовать в управлении делами государства как непосредственно, так и через своих представителей.
- ③ Каждый имеет право свободно распоряжаться своими способностями к труду, выбирать род деятельности и профессию.
- ④ Каждый вправе иметь имущество в собственности, владеть, пользоваться и распоряжаться им как единолично, так и совместно с другими лицами.
- 5) Граждане Российской Федерации имеют равный доступ к государственной службе.

Задание № 2. По какому принципу образованы ряды, дайте краткое обоснование, определите лишнее понятие. Всего 10 баллов, по балла 3 за каждый правильно указанный принцип и по 2 балла за правильно указанное лишнее понятие.

2.1. Банкноты, банковский чек, пластиковая карта, акция *карты и акции тут так же, это банкноты, банковский чек имеют функцию ценности, а карты как раз для хранения денег*

2.2. Труд, досуг, учёба, игра

*учеба***Задание №3. Согласитесь или опровергните следующие утверждения. (Ответить «ДА» или «НЕТ», за каждый правильный ответ - 1 балл, всего - 10 баллов).**

№

УТВЕРЖДЕНИЕ

- 1) Российский закон защищает и охраняет леса, животных, водные ресурсы и богатства недр
- 2) Нарушение норм морали, в отличие от законов, не несёт для человека негативных последствий
- 3) Магазины, продающие товары со скидкой, стремятся таким образом увеличить свою прибыль
- 4) У России есть сухопутная граница с такими европейскими странами как Норвегия и Польша
- 5) Родной дядя родного дяди может приходиться вам родным дедом
- 6) Поднятие флага олимпийских игр можно назвать церемонией
- 7) Оплата доставки еды курьером – это оплата услуги, а не товара
- 8) Буддизм – самая молодая из мировых религий
- 9) Одна из задач уголовного наказания – предотвратить совершение преступлений в будущем
- 10) Запрещающие положения законов можно назвать табу

1	2	3	4	5	6	7	8	9	10
да	нет	да	да	нет	да	нет	нет	да	да

Задание №4. Соотнесите социальные факты и сферы общественной жизни, к которым они относятся: к каждому элементу, данному в первом столбце, подберите элемент из второго столбца (10 баллов, одна ошибка 6 баллов, в любом другом случае 1 балл).**ФАКТЫ**

- 1) Строительство Приморского автомобильного кольца
- 2) Выборы депутатов Государственной Думы
- 3) Повышение пенсий

СФЕРЫ ОБЩЕСТВЕННОЙ ЖИЗНИ

- 1) Экономическая
- 2) Социальная
- 3) Политическая

- 4) Премьера пьесы в театре
- 5) Покупка дачи
- 6) Митинг в защиту животных
- 7) Открытие художественной галереи
- 8) Расширение сети поликлиник
- 9) Принятие закона Об образовании

4) Духовная

1	2	3	4	5	6	7	8	9
1	3	2	4	1	4	4	2	2

Задание №5. Решите задачи (всего 28 баллов).

5.1. Логическая задача. 8 баллов (2 балла за правильный ответ, 6 баллов за обоснование).

Курс китайского юаня на бирже 1 сентября 2023 года составлял 13 рублей. Если курс в течение сентября ежедневно будет изменяться ровно на один рубль в большую или меньшую сторону, сможет ли юань 1 октября 2023 года стоить 30 рублей? Дайте правильный ответ и приведите его обоснование.

5.2. Экономическая задача. 10 баллов (2 балла за правильный ответ, 8 баллов за обоснование).

Курс китайского юаня на бирже 1 сентября 2023 года составлял 13 рублей за 1 юань, а курс бразильского реала – 20 рублей. К концу месяца курс юаня составил 15 рублей, а курс бразильского реала – 23 рубля. У царя Креза есть 260 тыс. рублей. В какую из двух валют ему стоило вложить деньги 1 сентября, чтобы получить максимальную прибыль?

5.3. Правовая задача. Всего 10 баллов.

Фемида Урановна утром вышла на работу и обнаружила, что забыла дома необходимую для исполнения служебных обязанностей повязку на глаза. Чтобы не таскать туда-сюда тяжёлые весы и меч, она оставила их у двери подъезда и поднялась наверх, а когда вернулась, весы и меч исчезли. - Грабёж! - воскликнула Фемида Урановна и схватилась за сердце.

Проходивший мимо Аид Кронович решил ей помочь:

- Не волнуйтесь! Сейчас мы напишем заявление о грабеже в Прокуратуру, там быстро разберутся и вернут Вам вещи, - утешил старушку Аид Кронович.

Вопросы.

А) Определите ошибку, которую допустила Фемида Урановна. Как должно звучать правильное утверждение? Кратко поясните свой ответ (по 2 балла за указанную ошибку, 3 балла за пояснение).

Б) Определите ошибку, которую допустил Аид Кронович. Как должно звучать правильное утверждение? Кратко поясните свой ответ (по 2 балла за указанную ошибку, 3 балла за пояснение).

Задание №6. Заполните пропуски в тексте, выбрав слова из предложенного списка. Обратите внимание: слова в списке даны в именительном падеже и единственном числе. Ответ запишите в таблицу в виде последовательности цифр (всего 12 баллов, по 2 балла за каждое правильно вставленное слово).

« _____ (А) всегда присутствовало в человеческой деятельности. Теперь его зачастую обозначают иностранным словом «креатив». Современная инновационная _____ (Б) приводится в действие человеческой креативностью. Свобода _____ (В) - составляющая свободы творчества. Больше свободы предпринимательства – больше в конечном счете и спрос на _____ (Г) и на и те интеллектуальные продукты, которые используются при их создании. Свобода предпринимательства гарантируется верховенством закона; независимый и компетентный _____ (Д), обеспечение безопасности бизнеса от _____ (Е) и другие.

СЛОВА ДЛЯ ЗАПОЛНЕНИЯ ПРОПУСКОВ

- | | | | |
|--------------------|---------------|--------------|-------------------------|
| 1. суд | 4. творчество | 7. экономика | 10. предпринимательство |
| 2. образование | 5. президент | 8. инновации | 11. производство |
| 3. Совет Федерации | 6. коррупции | 9. коррупция | 12. меры |

А	Б	В	Г	Д	Е
4	11		11	1	6


Задание №7. Рассмотрите изображения представителей разных профессий и выполните задания. **Всего 12 баллов.**



1



2



3



4



5




6



7



8



9

7.1. Распределите иллюстрации по группам, впишите в схему названия групп и впишите в соответствующие ячейки цифровые обозначения иллюстраций, которые относятся к названным Вами группам (по 2 балла ТОЛЬКО за каждую группу правильно распределенных иллюстраций, по 1 баллу за каждую правильно названную группу).

	Группа 1	Группа 2	Группа 3
Название	сельскохозяйственные работы	работы	сфера услуг
№№ иллюстраций	2, 6, 7	4, 8, 3	9, 5, 1

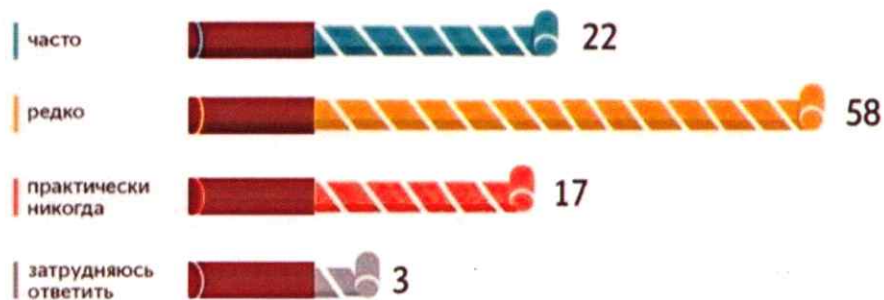
7.2. Объясните, на каком основании вы разделили изображения именно так (3 балла):

потому что одни сельскохозяйственные работы, другие из сферы услуг, другие из сферы производства

Задание №8. Ознакомьтесь с инфографикой и выберите суждения, которые можно сделать на основании представленной информации и запишите цифры, под которыми они указаны. **Всего - 8 баллов, 1 ошибка – 3 балла, в любом другом случае – 0 баллов.**



По вашим ощущениям, вы удивляетесь часто, редко или практически никогда не удивляетесь?



1. Больше половины опрошенных во всех категориях населения любят сюрпризы.
2. В инфографике представлены результаты исключительно по совершеннолетним категориям населения.
3. По собственным ощущениям, люди старше 60 лет удивляются чаще, чем население в целом.
4. Больше трети мужчин не любит сюрпризы.
5. Люди в возрасте от 18 до 45 в меньшей степени, чем население в целом, любят сюрпризы.
6. Количество участников опроса, которые, по собственным ощущениям, удивляются часто и практически никогда не удивляются, в совокупности составляет более одной трети всех опрошенных.

ОТВЕТЫ ПЕРЕНЕСИТЕ В БЛАНК ОТВЕТОВ!!!

№ задания	1	2	3	4	5	6	7	8	Всего
Мак балл	10	10	10	10	28	12	12	8	100
Баллы участника	5	5	2	1	19	4	42	0	

Подписи членов жюри: _____

Задание №1.

	1.1	1.2
	135 0	134 5

Задание №2.

- 2.1. пластиковая карта, ведь все имеют какую-либо ценность кроме кеш 0
- 2.2. досуг ведь все остальные это определенные действия, а в досуг можно заниматься как угодно 5

Задание №3.

1	2	3	4	5	6	7	8	9	10
да +	нет +	да +	да +	нет +	да -	нет -	нет +	да +	да -

Задание №4.

1	2	3	4	5	6	7	8	9
1 +	3 +	2 +	4 +	1 +	4 -	4 +	2 +	2 -

Задание №5.

5.1.

нет, так как максимум может достигаться на 8 р. так как процентное соотношение с надежностью 50 на 50 % 80

Фамилия <u>Лебедев</u>	ШИФР _____
Имя <u>Матвей</u>	
Отчество <u>Евгеньевич</u>	
Класс <u>8Т</u>	
Образовательная организация <u>Музей 35</u>	
Учитель _____	

5.2.

Юань Юань стоит меньше и поднимая шевелье, но из-за того что реал стоит больше он поднимается на меньшее количество процентов в отличие от юаня

8

5.3.

а) бабушка оставила свои вещи в общественном месте, скорее всего не под камерами

б) заявления пишут в полицию, а уже позже в прокуратуру.

5

Задание №6

А	Б	В	Г	Д	Е
4 +	8 -	2 -	11 -	1 +	6 -

4

Задание №7. Рассмотрите изображения представителей разных профессий и выполните задания. Всего 12 баллов.

7.1.

	Группа 1	Группа 2	Группа 3
Название	сельскохоз-во-р-бот	сфера про-из-водства	сфера услуг
№№ иллюстраций	267 2	483 2	551 2

7.2. одни из сферы сельского хозяйства, другие из сферы производства, другие из сферы услуг

Задание №8.

Ответ _____

ВСЕРОССИЙСКАЯ ОЛИМПИАДА ШКОЛЬНИКОВ 2023–2024 гг. I (ШКОЛЬНЫЙ) ЭТАП.

Время выполнения работы – 60 минут

Максимальный балл – 100

Задание №1. Выберите несколько правильных ответов. (Всего 10 баллов, по 5 баллов за каждый полный правильный ответ, 1 ошибка – 3 балла, в любом другом случае – 0 баллов).**1.1. Какие признаки свидетельствуют от том, что страна Z является традиционным обществом.**

- 1) Натуральное хозяйство
- 2) Сословное деление общества
- 3) Широкое распространение научных знаний
- 4) Преобладание ручных орудий труда
- 5) Внедрение цифровых технологий

1.2. Выберите в приведенном списке положения, характеризующие социально-экономические права (свободы) гражданина Российской Федерации, закрепленные в Конституции нашей страны.

- 1) Каждый имеет право на отдых
- 2) Граждане Российской Федерации имеют право участвовать в управлении делами государства как непосредственно, так и через своих представителей.
- 3) Каждый имеет право свободно распоряжаться своими способностями к труду, выбирать род деятельности и профессию.
- 4) Каждый вправе иметь имущество в собственности, владеть, пользоваться и распоряжаться им как единолично, так и совместно с другими лицами.
- 5) Граждане Российской Федерации имеют равный доступ к государственной службе.

Задание № 2. По какому принципу образованы ряды, дайте краткое обоснование, определите лишнее понятие. Всего 10 баллов, по балла 3 за каждый правильно указанный принцип и по 2 балла за правильно указанное лишнее понятие.**2.1. Банкноты, банковский чек, пластиковая карта, ~~акция~~**Финансовые средства**2.2. Труд, досуг, учёба, игра**Виды деятельности человека**Задание №3. Согласитесь или опровергните следующие утверждения. (Ответить «ДА» или «НЕТ», за каждый правильный ответ - 1 балл, всего - 10 баллов).**

№

УТВЕРЖДЕНИЕ

- 1) Российский закон защищает и охраняет леса, животных, водные ресурсы и богатства недр
- 2) Нарушение норм морали, в отличие от законов, не несёт для человека негативных последствий
- 3) Магазины, продающие товары со скидкой, стремятся таким образом увеличить свою прибыль
- 4) У России есть сухопутная граница с такими европейскими странами как Норвегия и Польша
- 5) Родной дядя родного дяди может приходиться вам родным дедом
- 6) Поднятие флага олимпийских игр можно назвать церемонией
- 7) Оплата доставки еды курьером – это оплата услуги, а не товара
- 8) Буддизм – самая молодая из мировых религий
- 9) Одна из задач уголовного наказания – предотвратить совершение преступлений в будущем
- 10) Запрещающие положения законов можно назвать табу

1	2	3	4	5	6	7	8	9	10
да	нет	нет	да	нет	да	нет	нет	да	да

Задание №4. Соотнесите социальные факты и сферы общественной жизни, к которым они относятся: к каждому элементу, данному в первом столбце, подберите элемент из второго столбца (10 баллов, одна ошибка 6 баллов, в любом другом случае 1 балл).

ФАКТЫ

СФЕРЫ ОБЩЕСТВЕННОЙ
ЖИЗНИ

- 1) Строительство Приморского автомобильного кольца
- 2) Выборы депутатов Государственной Думы
- 3) Повышение пенсий

- 1) Экономическая
- 2) Социальная
- 3) Политическая

- 4) Премьера пьесы в театре
 5) Покупка дачи
 6) Митинг в защиту животных
 7) Открытие художественной галереи
 8) Расширение сети поликлиник
 9) Принятие закона Об образовании
- 4) Духовная

1	2	3	4	5	6	7	8	9
1	3	2	4	1	2	4	2	3

Задание №5. Решите задачи (всего 28 баллов).

5.1. Логическая задача. 8 баллов (2 балла за правильный ответ, 6 баллов за обоснование).

Курс китайского юаня на бирже 1 сентября 2023 года составлял 13 рублей. Если курс в течение сентября ежедневно будет изменяться ровно на один рубль в большую или меньшую сторону, сможет ли юань 1 октября 2023 года стоить 30 рублей? Дайте правильный ответ и приведите его обоснование.

5.2. Экономическая задача. 10 баллов (2 балла за правильный ответ, 8 баллов за обоснование).

Курс китайского юаня на бирже 1 сентября 2023 года составлял 13 рублей за 1 юань, а курс бразильского реала – 20 рублей. К концу месяца курс юаня составил 15 рублей, а курс бразильского реала – 23 рубля. У царя Креза есть 260 тыс. рублей. В какую из двух валют ему стоило вложить деньги 1 сентября, чтобы получить максимальную прибыль?

5.3. Правовая задача. Всего 10 баллов.

Фемида Урановна утром вышла на работу и обнаружила, что забыла дома необходимую для исполнения служебных обязанностей повязку на глаза. Чтобы не таскать туда-сюда тяжёлые весы и меч, она оставила их у двери подъезда и поднялась наверх, а когда вернулась, весы и меч исчезли.

- Грабёж! - воскликнула Фемида Урановна и схватилась за сердце.

Проходивший мимо Аид Кронович решил ей помочь:

- Не волнуйтесь! Сейчас мы напишем заявление о грабеже в Прокуратуру, там быстро разберутся и вернут Вам вещи, - утешил старушку Аид Кронович.

Вопросы.

А) Определите ошибку, которую допустила Фемида Урановна. Как должно звучать правильное утверждение? Кратко поясните свой ответ (по 2 балла за указанную ошибку, 3 балла за пояснение).

Б) Определите ошибку, которую допустил Аид Кронович. Как должно звучать правильное утверждение? Кратко поясните свой ответ (по 2 балла за указанную ошибку, 3 балла за пояснение).

Задание №6. Заполните пропуски в тексте, выбрав слова из предложенного списка. Обратите внимание: слова в списке даны в именительном падеже и единственном числе. Ответ запишите в таблицу в виде последовательности цифр (всего 12 баллов, по 2 балла за каждое правильно вставленное слово).

« _____ (А) всегда присутствовало в человеческой деятельности. Теперь его зачастую обозначают иностранным словом «креатив». Современная инновационная _____ (Б) приводится в действие человеческой креативностью. Свобода _____ (В) - составляющая свободы творчества. Больше свободы предпринимательства – больше в конечном счете и спрос на _____ (Г) и на те интеллектуальные продукты, которые используются при их создании. Свобода предпринимательства гарантируется верховенством закона; независимый и компетентный _____ (Д), обеспечение безопасности бизнеса от _____ (Е) и другие.

СЛОВА ДЛЯ ЗАПОЛНЕНИЯ ПРОПУСКОВ

- | | | | |
|--------------------|---------------|--------------|-------------------------|
| 1. суд | 4. творчество | 7. экономика | 10. предпринимательство |
| 2. образование | 5. президент | 8. инновации | 11. производство |
| 3. Совет Федерации | 6. коррупции | 9. коррупция | 12. меры |

А	Б	В	Г	Д	Е
4	7	8	11	1	6


Задание №7. Рассмотрите изображения представителей разных профессий и выполните задания. **Всего 12 баллов.**



1



2



3



4



5




6



7



8



9

7.1. Распределите иллюстрации по группам, впишите в схему названия групп и впишите в соответствующие ячейки цифровые обозначения иллюстраций, которые относятся к названным Вами группам (по 2 балла ТОЛЬКО за каждую группу правильно распределенных иллюстраций, по 1 баллу за каждую правильно названную группу).


	Группа 1	Группа 2	Группа 3
Название	сельское хозяйство	ремесло	информационные технологии
№№ иллюстраций	267	159	348

7.2. Объясните, на каком основании вы разделили изображения именно так (3 балла):

Задание №8. Ознакомьтесь с инфографикой и выберите суждения, которые можно сделать на основании представленной информации и запишите цифры, под которыми они указаны. **Всего - 8 баллов, 1 ошибка – 3 балла, в любом другом случае – 0 баллов.**



По вашим ощущениям, вы удивляетесь часто, редко или практически никогда не удивляетесь?



1. Больше половины опрошенных во всех категориях населения любят сюрпризы.
2. В инфографике представлены результаты исключительно по совершеннолетним категориям населения.
3. По собственным ощущениям, люди старше 60 лет удивляются чаще, чем население в целом.
4. Больше трети мужчин не любит сюрпризы.
5. Люди в возрасте от 18 до 45 в меньшей степени, чем население в целом, любят сюрпризы.
6. Количество участников опроса, которые, по собственным ощущениям, удивляются часто и практически никогда не удивляются, в совокупности составляет более одной трети всех опрошенных.

ОТВЕТЫ ПЕРЕНЕСИТЕ В БЛАНК ОТВЕТОВ!!!

№ задания	1	2	3	4	5	6	7	8	Всего
Мак балл	10	10	10	10	28	12	12	8	100
Баллы участника	6	10	7	6	10	6	12	3	

Подписи членов жюри: _____

Задание №1.

1.1	1.2
1,2 30	3,4 30

Задание №2.

- 2.1. всё связанное с банком 5
 шиксе-акция
- 2.2. виды деятельности человека 5
 шиксе-досур

Задание №3.

1	2	3	4	5	6	7	8	9	10
да+	нет+	нет-	да+	нет+	да+	нет-	нет+	да+	да-

Задание №4.

1	2	3	4	5	6	7	8	9
1+	3+	2+	4+	1+	2-	4+	2+	3+

Задание №5.

- 5.1. нет, т.к. каждый день курс изменяться не может. 2

Фамилия	Марченко	ШИФР	
Имя	Кира		
Отчество	Александровна		
Класс	7 "М"		
Образовательная организация	школа 35		
Учитель	Тепералова Елена Александровна	Сборнова И.В.	

5.2.

В курс китайского юаня, т.к. окрестился на 2 рубля, а курс французского франка на 3 рубля. Или, меньше курс, тем выгоднее! 8 0

5.3

А) Елена допустила ошибку заказа сладо градеис, потому что она сама отправляла мети весы. Правильнее было сказать: "Пропанса!"

Б) Она допустила ошибку сказав что они напишут заявление о пропансе, потому что градеиса не было. Правильнее было сказать что они напишут заявление о пропансе. 0

Задание №6

А	Б	В	Г	Д	Е
4 +	7 +	8 -	11 -	1 +	6 -

2

2

2

65

Задание №7. Рассмотрите изображения представителей разных профессий и выполните задания. Всего 12 баллов.

7.1.

	Группа 1	Группа 2	Группа 3
Название	сельское хозяйство	услуги	производство
№№ иллюстраций	1, 5, 9, 2, 6, 7	2, 8, 15, 9	3, 4, 8

2

2

2

7.2. Я сооткелся группы шенко так, т.к. Курьер, парикмахер и таксист работают в сфере услуг; нотариус и риэлторы занимаются хозяйством; рабочие на различных заводах занимаются производством.

Задание №8.

Ответ 1, 2, 4, 6 3

ВСЕРОССИЙСКАЯ ОЛИМПИАДА ШКОЛЬНИКОВ 2023–2024 гг. I (ШКОЛЬНЫЙ) ЭТАП.

Время выполнения работы – 45 минут

Максимальный балл – 100

Задание №1. Выберите несколько правильных ответов. (Всего 10 баллов, по 5 баллов за каждый полный правильный ответ, 1 ошибка – 3 балла, в любом другом случае – 0 баллов).**1.1.** Выберите в приведённом списке отличительные черты реформы как способа изменений в обществе

- 1) Проводится властными органами
- 2) Затрагивает отдельные сферы жизни
- 3) Является качественным скачком, резким изменением
- 4) Связана с применением насилия
- 5) Осуществляется законным путём

1.2. Выберите в приведенном списке обязанности гражданина Российской Федерации, закрепленные в Конституции нашей страны.

- ① Сохранение исторического и культурного наследия
- 2) Получение пенсий по возрасту
- ③ Защита Отечества
- 4) Участие в управлении делами государства
- 5) Сохранение здоровья
- 6) Сохранение окружающей среды

Задание № 2. По какому принципу образованы ряды, дайте краткое обоснование. Всего 8 баллов, по балла 4 за каждый правильно указанный принцип.**2.1.** Разум, членораздельная речь, способность планировать свои действияСамосообразование**2.2.** Труд, учёба, играРесурсы дня**Задание №3. Согласитесь или опровергните следующие утверждения. (Ответить «ДА» или «НЕТ», за каждый правильный ответ - 2 балла, всего - 10 баллов).****№ УТВЕРЖДЕНИЕ**

- 1) Животные способны передавать друг другу информацию об окружающем мире
- 2) Труд по созданию услуг ценится меньше, чем труд по созданию товаров
- 3) Ведение домашнего хозяйства – разновидности хобби
- 4) Каждый гражданин России обязан получить девять классов школьного образования
- 5) На гербе Российской федерации изображён всадник, поражающий дракона

1	2	3	4	5
ДА	НЕТ	НЕТ	ДА	НЕТ

Задание №4. Соотнесите социальные факты и сферы общественной жизни, к которым они относятся: к каждому элементу, данному в первом столбце, подберите элемент из второго столбца (10 баллов, одна ошибка 6 баллов, в любом другом случае 1 балл).**ФАКТЫ****СФЕРЫ ОБЩЕСТВЕННОЙ ЖИЗНИ**

- | | |
|--|------------------|
| 1) Строительство Приморского автомобильного кольца 1 | 1) Экономическая |
| 2) Выборы депутатов Государственной Думы 3 | 2) Социальная |
| 3) Повышение пенсий 1 | 3) Политическая |
| 4) Премьера пьесы в театре 2 | 4) Духовная |
| 5) Покупка дачи 1 | |
| 6) Митинг в защиту животных 4 | |
| 7) Открытие художественной галереи 2 | |
| 8) Расширение сети поликлиник 1 | |
| 9) Принятие закона Об образовании 3 | |

1	2	3	4	5	6	7	8	9
1	3	1	2	1	4	2	1	3

Задание №5. Заполните пропуски в тексте, выбрав слова из предложенного списка. Обратите внимание: слова в списке даны в именительном падеже и единственном числе (20 баллов, по 2 баллу за каждое правильно вставленное слово). Ответ запишите в таблицу в виде последовательности цифр.

Одной из первых форм священного знания у людей были ___А___ - художественные сказания о богах и героях. Люди верили в то, что некоторые действия способны дать чудодейственные результаты, такие действия назывались ___Б___. Изначально, в племени выделялись ___В___, которые общались с высшими силами и занимались врачеванием людей. Позже, когда возникает более привычная нам религия, связь с богами осуществляет ___Г___, который руководит обращениями к ним - ___Д___, а в случае необходимости приносит ___Е___ в надежде на благодарность или снисхождение.

Постепенно религии со множеством богов, такие как в Древнем Египте, Двуречье или ___Ж___, сменяются единобожием. Первой мировой религией стал ___З___, возникший в Индии в 6-5 веках до нашей эры. Счёт лет «от нашей эры» связан с распространением на ближнем востоке и в Европе ___И___, самой многочисленной на сегодня мировой религии. А самой молодой из мировых религий является ___К___.

СЛОВА ДЛЯ ЗАПОЛНЕНИЯ ПРОПУСКОВ

1	Атлантида	6	Жрец	11	Миф
2	Буддизм	7	Индуизм	12	Молитва
3	Греция	8	Ислам	13	Подарки
4	Дух	9	Иудаизм	14	Христианство
5	Жертва	10	Магия	15	Шаман

А	Б	В	Г	Д	Е	Ж	З	И	К
11	12	13	14	15	1	2	3	4	5
Миф	Молитва	Шаман	Жрец	Молитва	Жертва	Греция	Буддизм	Дух	Жрец

Задание №6. Решите логическую задачу (всего – 10 баллов).

Идя на день рождения к своей бабушке Света, Петя и Паша решили выяснить, кто из них самый высокий. Петя заявил: «Я выше всех!» Паша возразил: «Нет никого, кто был бы выше меня!» Одноклассник Сережа, который проходил мимо, заметил: «А Петя выше Паши». На что Света ответила, что и Петя, и Паша врут.

Не придя к единому мнению, ребята рассказали историю бабушке. Бабушка расстроилась. Из четырех детей трое соврали. Учитывая, что словам бабушки можно верить, ответьте на вопросы.

6.1. Кто из четырех детей сказал правду? (5 баллов). *Света*

6.2. Кто из трех детей самый высокий? (5 баллов). *Света*

Задание №7. Человеческим трудом создаются различные продукты. Распределите по группам, кто из перечисленных специалистов производит товары, а кто предоставляет услуги (8 баллов, по 1 баллу за каждый правильный ответ).

- | | |
|------------------------------|-------------------------------------|
| 1) Водитель трамвая | 5) Парикмахер-визажист |
| 2) Закройщик меховой фабрики | 6) Разработчик мобильных приложений |
| 3) Шахтёр | 7) Столяр-краснодеревщик |
| 4) Массажист | 8) Врач |

Товары	Услуги
2, 3, 4	1, 4, 5, 6, 8

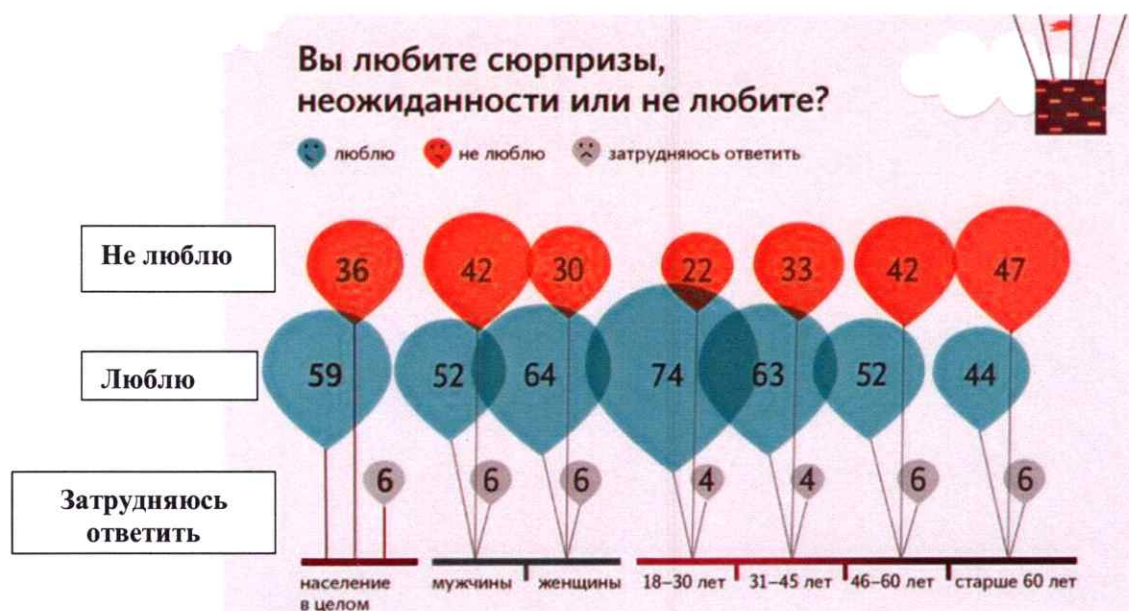
Задание №8. Перед вами – схематическое изображение пирамиды человеческих потребностей. Вспомните, какие потребности соответствуют каждому из её уровней и вставьте в таблицу справа номера подходящих примеров из списка. На некоторых уровнях окажется больше одного примера (16 баллов, по 2 балла за каждый правильный ответ).



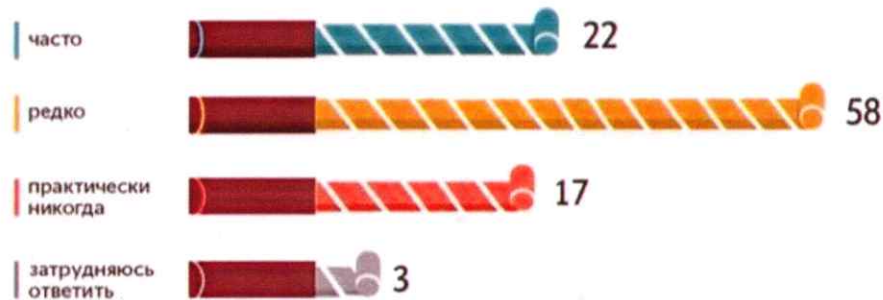
8, 1, 2
6
3
4
5, 7

1. Винни-Пух сочиняет песню «Куда идём мы с Пятачком»
2. Сова гордо напоминает Тигре, что только она и Кролик во всем лесу умеют читать
3. Иа-Иа пригласил друзей на день рождения
4. Пятачок делает ремонт в домике с надписью «Посторонним В»
5. Тигра съедает рыбий жир, который предназначался Крошке Ру
6. Пятачек, пытается спасти Винни-Пуха, которого атакуют пчелы
7. Винни-Пух на зиму впадает в спячку
8. Алан Александер Милн пишет книгу «Винни-Пух и все-все-все»

Задание №9. Ознакомьтесь с инфографикой и выберите суждения, которые можно сделать на основании представленной информации и запишите цифры, под которыми они указаны. **Всего - 8 баллов, 1 ошибка – 3 балла, в любом другом случае – 0 баллов.**



По вашим ощущениям, вы удивляетесь часто, редко или практически никогда не удивляетесь?



1. Больше половины опрошенных во всех категориях населения любят сюрпризы.
2. В инфографике представлены результаты исключительно по совершеннолетним категориям населения.
3. По собственным ощущениям, люди старше 60 лет удивляются чаще, чем население в целом.
4. Больше трети мужчин не любит сюрпризы.
5. Люди в возрасте от 18 до 45 в меньшей степени, чем население в целом, любят сюрпризы.
6. Количество участников опроса, которые, по собственным ощущениям, удивляются часто и практически никогда не удивляются, в совокупности составляет более одной трети всех опрошенных.

ОТВЕТЫ ПЕРЕНЕСИТЕ В БЛАНК ОТВЕТОВ!!!

№ задания	1	2	3	4	5	6	7	8	9	Всего
Мак балл	10	8	10	10	20	10	8	16	8	100
Баллы участника	3	0	8	1	16	10	7	12	0	

Подписи членов жюри _____

Задание №1.

1.1	1.2
2), 3)	1), 3) 3

Задание № 2.

2.1. Принцип самовоспитания.

2.2. Принцип ежедневного релакса

Задание №3.

1	2	3	4	5
ДА +	НЕТ +	НЕТ +	ДА +	НЕТ -

Задание №4.

1	2	3	4	5	6	7	8	9
1 +	3 +	1 -	2 -	1 +	4 -	2 -	1 -	3 +

Задание №5.

А	Б	В	Г	Д	Е	Ж	З	И	К
Миф -	Молитва -	Шаман -	Жрецы -	Магия -	Жертва -	Темные -	Буддизм -	Дух -	Экстремизм -

Задание №6. 6.1 Света. 6.2 Света.

Задание №7.

Товары	Услуги
2), 3), 4). + + +	1), 4), 5), 6), 8). + + + +

Фамилия Эмберман

ШИФР _____






Имя Валерия

Отчество Романовна

Класс 6.11

Образовательная организация МШЭИ 35

Учитель Людья Андреевна

	2 2 1,2,8.
	6
	3 2
	4 2
	2 2 5,7

Задание №9. 1, 3, 6.

9.3. Эта статья реал, потому что являя 100-ва выдел
дают юридически от имени этого человека, в условия
входит: отсутствие уголовного наказания, соответствие возрасту
мн, наличие с которого берут на ответственность, ответственность
в рамках государства, и т.д. Но мы не влияем на этот
фактор

9.2. Эта статья - реальный факт, потому что мы вна-
не может подать иск в суд, т.к. по истечению 3-х лет
если у супруги есть дети, иск не может быть принят
длительность, и до возмещения этой возможности жена
должна подать иск

9.4. Статья - реальный факт

8