

**ВСЕРОССИЙСКАЯ ОЛИМПИАДА ШКОЛЬНИКОВ 2023- 2024 гг. I (ШКОЛЬНЫЙ) ЭТАП.****Время выполнения работы – 45 минут****Максимальный балл – 100****Задание №1.** Выберите один вариант ответа из 4-х предложенных (всего 16 баллов, по 4 балла за каждый правильный ответ). **Ответы перенесите в БЛАНК ОТВЕТОВ****1.1.** В каком году, согласно летописному преданию, в новгородские земли пригласили княжить варяга Рюрика с дружиной?

- 1) в 862 г. 2) в 882 г. 3) в 988 г. 4) в 1237 г.

**1.2.** Каким орудием труда срезали колосья ранние земледельцы, когда созрел урожай?

- 1) топором 2) рубилом 3) серпом 4) мотыгой

**1.3.** Как звали фараона Древнего Египта гробницу которого археологи нашли нетронутой?

- 1) Хеопс 2) Рамзес 3) Тутмос 4) Тутанхамон

**1.4.** Иллюстрации в рукописных средневековых книгах — это

- 1) рисунки 2) миниатюры 3) граффити 4) гербы

**Задание №2.** Решите задачу (всего 5 баллов). **Ответы перенесите в БЛАНК ОТВЕТОВ.**

Этим летом, израильский спасатель нашел на дне Средиземного моря мраморный диск, датированный V веком до нашей эры, сообщает сетевое издание Ancientpages.com. Такие мраморные диски, раскрашенные так, чтобы напоминать глаза, украшали военные и торговые суда. Они служили для защиты от сглаза и зависти, помогали древним морякам пролагать путь по волнам.

**2.1.** В каком веке была совершена эта находка? Ответ запишите римскими цифрами (2 балла).**2.2.** Сколько полных веков прошло со времени создания данного диска до времени его находки? (3 балла, ответ без решения не принимается).**Задание №3.** Выберите несколько правильных ответов (10 баллов, одна ошибка – 5 баллов, в любом другом случае – 0 баллов). **Ответ перенесите в БЛАНК ОТВЕТОВ**

Какие события произошло в России в эпоху Ивана III?

- 1) Закончилась зависимость Руси от Золотой Орды
- 2) Сложилось единое государство
- 3) Созыв первого Земского собора
- 4) Правитель стал именоваться царем
- 5) Появление двуглавого орла на гербе России.

**Задание №4.** Установите последовательность событий (10 баллов за полный правильный ответ, в любом другом случае – 0 баллов). **Ответ перенесите в БЛАНК ОТВЕТОВ**

Установите последовательность событий Великой Отечественной войны

- 1) Московская битва
- 2) Сталинградская битва
- 3) Оборона Брестской крепости
- 4) Восточно-Прусская операция
- 5) Курская битва

1	2	3	4	5

**Задание №5.** Установите соответствие между понятием и его значением. К каждой позиции из первого столбца подберите позицию из второго (10 баллов, 1 ошибка – 2 балла, в любом другом случае – 0 баллов). **Ответ перенесите в БЛАНК ОТВЕТОВ****ПОНЯТИЕ**

- 1) Рыцарь
- 2) Турнир
- 3) Герб
- 4) Замок

**ЗНАЧЕНИЕ**

- 1) Военное состязание рыцарей
- 2) Отличительный знак рода
- 3) Тяжеловооруженный конный воин
- 4) Укрепленное жилище феодала

1	2	3	4

**Задание №6.** Определите пропущенные в тексте имена, прозвища, даты и названия, обозначенные порядковыми номерами. При порядковых номерах даются пояснения о характере требуемой вставки. Заполните пробелы в тексте, ответ оформите в виде перечня элементов под соответствующими номерами (24 балла, по 3 балла за каждый правильно вставленный элемент). **Учтите, что пропущенные слова могут повторяться. Ответы перенесите в БЛАНК ОТВЕТОВ.**

**Защита северо-западных рубежей русских земель.**

Новая угроза появилась на северо-западе Руси. В первых числах июля \_\_\_\_\_ года (1, год) шведские корабли бросили якорь в устье реки \_\_\_\_\_ (2, название реки). Их целью были земли Господина Великого Новгорода. Навстречу неприятелю выступили дружина и отряд «охочих людей» во главе с князем \_\_\_\_\_ (3, имя князя). Застигнутые врасплох, шведы были наголову разбиты. За эту победу князь получил прозвище \_\_\_\_\_ (4, прозвище князя).

Через несколько лет с запада пришел новый враг – немецкие рыцари-крестоносцы. Битва произошла 5 апреля \_\_\_\_\_ года (5, год).

Во главе войска вновь встал князь \_\_\_\_\_ (6, имя князя). Он воинской хитростью принудил неприятеля к решающему сражению на льду \_\_\_\_\_ (7, название озера). В бою рыцари строились клином, его удар был так силен, что пробивал самую крепкую оборону. Пешие воины находились внутри клина, они завершали разгром противника. Русские воины выдержали страшный удар клина тяжеловооруженных рыцарей, а потом разгромили их. Как повествует летопись, «лед на замерзшем озере надломился», и многие рыцари в тяжелых доспехах проваливались под лед и тонули. Это сражение получило название \_\_\_\_\_ (8, название сражения).

**ВАРИАНТЫ ДЛЯ ВСТАВКИ**

ИМЕНА	ПРОЗВИЩА	ГОД	НАЗВАНИЯ	СРАЖЕНИЕ
Олег	Мудрый	882	Ладога	Куликовская битва
Ярослав	Вещий	1240	Ильмень	Ледовое побоище
Александр	Невский	1242	Чудское	Мамаево побоище
Владимир	Мономах	1380	Нева	Стояние на Угре

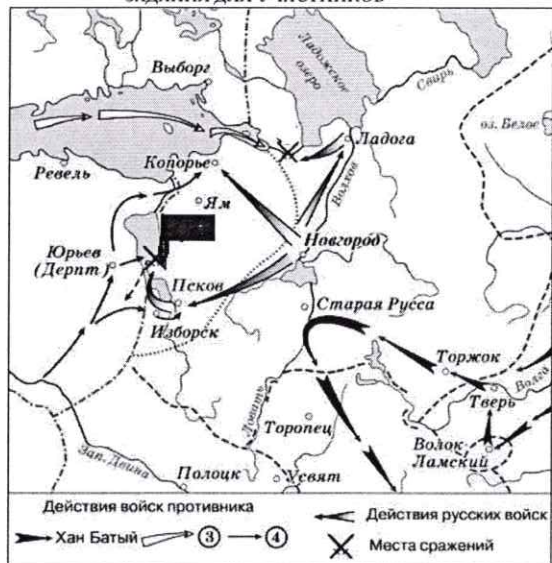
Номер в тексте	Вариант для вставки	Номер в тексте	Вариант для вставки
1)		5)	
2)		6)	
3)		7)	
4)			

**Задание №7.** Согласно распространённому мнению, эти слова исторического деятеля, о котором идет речь в тексте «Защита северо-западных рубежей русских земель», были обращены к побежденным врагам. Определите, о каком высказывании идет речь (5 баллов). **Ответ запишите цифрой в БЛАНК ОТВЕТОВ.**

- 1) Жребий брошен, пути назад нет!
- 2) Глупо умирать от страха перед смертью.
- 3) Пришел, увидел, победил!
- 4) Кто с мечом к нам придёт, тот от меча и погибнет!

**Задание №8.** Работа со схемой (всего 10 баллов). **Ответ запишите цифрами в БЛАНК ОТВЕТОВ.**

**8.1.** Выберите изображение, непосредственно связанное с событием, которое отмечено на схеме знаком ■ (5 баллов).




2



1

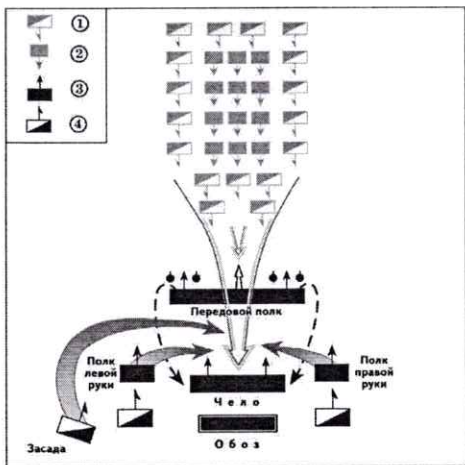


3



4

8.2. Какой цифрой в легенде данной схемы обозначено расположение тяжеловооруженных немецких рыцарей? (5 баллов).



- 1) 1
- 2) 2
- 3) 3
- 4) 4

Задание №9. Выберите изображение города, непосредственно связанного с событиями, приведенными в отрывке «Защита северо-западных рубежей русских земель» (5 баллов). Ответ запишите цифрой в БЛАНК ОТВЕТОВ



1



2



3



4

**Задание №10.** Прочтите задание и определите название авиаполка, о котором идет речь в отрывке (5 баллов). **Ответ перенесите в БЛАНК ОТВЕТОВ.**

Боевой путь этого авиаполка, начавшийся под Москвой, победоносно завершился в Восточной Пруссии. За высокие заслуги экипажей в борьбе с немецко-фашистскими захватчиками, он награжден орденом Красной Звезды и орденом, учрежденным в честь побед князя речь, о котором идет в задании №5. За мужество и героизм 83 летчика награждены советскими орденами и медалями. Среди удостоенных звания Героя Советского Союза - младший лейтенант Андре Жак, старшие лейтенанты Роллан де ля Пуап, Марсель Альбер, Марсель Лефевр (посмертно).

После окончания Великой Отечественной войны вместе с благодарностью советского народа летчикам-героям были переданы в дар боевые самолеты, на которых они сражались и на этих самолетах они улетели к себе на родину.

В Калининграде летчикам авиаполка поставлен памятник на берегу Нижнего озера.

## ВСЕРОССИЙСКАЯ ОЛИМПИАДА ШКОЛЬНИКОВ 2023 – 2024 гг. I (ШКОЛЬНЫЙ) ЭТАП.

№ задания	1	2	3	4	5	6	7	8	9	10	Всего
Мак балл	16	5	10	10	10	24	5	10	5	5	100
Баллы участника	8	2	5	0	10	15	5	5	5	0	55

Подписи членов жюри \_\_\_\_\_

## Задание №1.

1.1	1.2	1.3	1.4
4 -	3 45	1 -	2 45

## Задание №2.

2.1. XXI 25. 2.2. 2100+500=2600(л) 26 в XXVI -Задание №3. 1,2,4 55

## Задание №4.

1	2	3	4	5
3	4	2	5	1

## Задание №5

1	2	3	4
3	1	2	4

## Задание № 6.

Номер в тексте	Вариант для вставки	Номер в тексте	Вариант для вставки
1)	1240 35	5)	1242 35
2)	Ива 35	6)	Алеклансур -
3)	Александр 35	7)	Ладога -
4)	Невский 35	8)	Куликовская битва -

Задание №7. 4 55

Линия отреза -----

Фамилия	<u>Володущин</u>		
Имя	<u>Марси</u>		
Отчество	<u>Олеговны</u>		
ОО	<u>МАОУ лицей 55</u>	Класс	<u>5 нБч</u>
Шифр участника			

Задание №8.

8.1. 4 55

8.2. 3 —

Задание №9. 3 55

Задание №10. — —